

《2019 入試対策》

金沢大学

理系数学



電送数学舎

まえがき

本書には、1998年度以降に出題された金沢大学（前期日程）の理系数学の全問題とその解答例を掲載しています。

過去問の演習をスムーズに進めるために、現行課程入試に対応した内容分類を行っています。なお、複数領域の融合問題の配置箇所は、鍵となっている分野です。

また、利便性の向上のため、対応する問題と解答例のページにリンクを張っています。問題編の **1**, **2**, … などの問題番号、解答編の **問題** の文字がリンク元です。

本書の構成について

- 1 本書は2部構成になっています。「分野別問題一覧」と「分野別問題と解答例」です。
- 2 標準的な活用方法については、以下のように想定しています。
 - (1) 「分野別問題一覧」から問題を選び、答案をつくる。
 - (2) 「分野別問題と解答例」で、答案をチェックする。
 - (3) 1つの分野で、(1)と(2)を繰り返す。
 - (4) 完答できなかった問題だけを、再度、繰り返す。
 - (5) 出題の流れをウェブサイトの入試直前に確認する。

注 「行列」は範囲外ですので除外しました。
「期待値」が主でない確率問題は掲載しています。

目 次

分野別問題一覧	3
分野別問題と解答例	27
図形と式	28
図形と計量	39
ベクトル	41
整数と数列	49
確 率	60
論 証	69
複素数	71
曲 線	83
極 限	89
微分法	101
積分法	111
積分の応用	128

分野別問題一覧

図形と式／図形と計量／ベクトル

整数と数列／確率／論証

複素数／曲線／極限

微分法／積分法／積分の応用

■ 図形と式 |||

1 座標平面上の放物線 $y = x^2$ 上に点 $P(t, t^2)$ ($t > 0$) をとる。原点 $O(0, 0)$ を通り、直線 OP に垂直な直線を l とする。また、 $0 < a \leq 1$ として、点 $A(0, a)$ をとる。このとき、次の問いに答えよ。

- (1) 直線 PA と l は交わることを示し、その交点 $Q(u, v)$ の座標を t と a を用いて表せ。
 - (2) t がすべての正の実数値をとって変化するとき、(1)で求めた点 $Q(u, v)$ の軌跡が $(-\frac{1}{\sqrt{3}}, 1)$ を通るとする。このとき、定数 a の値を求め、点 $Q(u, v)$ の軌跡を求めよ。
- [2017]

2 座標平面において、円 $x^2 + y^2 = 1$ 上の点 $P(a, b)$ ($0 < b < 1$) における接線を l とし、 l と x 軸の交点を Q とする。点 $R(4, 0)$ と l の距離が 2 であるとき、次の問いに答えよ。

- (1) 点 P の座標 (a, b) を求めよ。
 - (2) $\triangle PQR$ の面積を求めよ。
- [2010]

3 $0 < r < 1$ とし、点 O を原点とする xy 平面において、3 点 $O, A(2, 0), B(0, 2r)$ を頂点とする三角形 OAB と、互いに相似な 3 つの二等辺三角形 $O'AB, A'OB, B'OA$ を考える。ここで、辺 AB, OB, OA はそれぞれの二等辺三角形の底辺であり、点 O' は直線 AB に対して点 O と反対側に、点 A' は第 2 象限に、点 B' は第 4 象限に、それぞれあるとする。 $t = \tan \angle A'OB$ とおく。次の問いに答えよ。

- (1) 点 A', B' の座標を、 r, t の式で表せ。
 - (2) 直線 $AA',$ および直線 BB' の方程式を $ax + by = c$ の形で求めよ。
 - (3) 2 直線 AA' と BB' の交点を $M(x_0, y_0)$ とする。比 $\frac{y_0}{x_0}$ を r, t の式で表せ。
 - (4) 点 O' の座標を r, t の式で表し、3 直線 AA', BB', OO' が 1 点で交わることを示せ。
- [2009]

4 xy 平面において、原点 O を中心とする半径 1 の円を C とする。 a を正の実数とし、点 $A(0, 1)$ を通り、傾き a の直線を l とする。 C と l の交点で、 A と異なるものを P とし、 l と直線 $y = -2$ の交点を Q とする。また、 P における C の接線を m とし、 m と直線 $y = -2$ の交点を R とする。次の問いに答えよ。

- (1) 直線 m の方程式を a を用いて表せ。
- (2) a が正の値をとって動くとき、線分 QR の長さの最小値と、そのときの a の値を求めよ。
- (3) (2) で求めた a の値に対して、点 A を通り、 $\angle QAR$ を二等分する直線の方程式を求めよ。 [2008]

5 関数 $f(\theta) = \sin\theta + \cos\theta + 2\sqrt{2}\sin\theta\cos\theta$ ($0 \leq \theta < 2\pi$) に対して、以下の問いに答えよ。

- (1) $t = \sin\theta + \cos\theta$ とおくと、 $f(\theta)$ を t で表せ。また t のとりうる値の範囲を求めよ。
- (2) $f(\theta) = 0$ を満たす θ をすべて求めよ。
- (3) $f(\theta) = a$ を満たす θ がちょうど 2 個となるような定数 a の値の範囲を求めよ。

[2003]

6 a を実数の定数とする。 x の 2 次方程式 $x^2 + (a-1)x + a+2 = 0 \cdots \cdots (*)$ について、次の問いに答えよ。

- (1) 2 次方程式 $(*)$ が $0 \leq x \leq 2$ の範囲には実数解をただ 1 つもつとき、 a の値の範囲を求めよ。
- (2) $-2 \leq a \leq -1$ のとき、2 次方程式 $(*)$ の実数解 x のとりうる値の範囲を求めよ。

[2000]

7 k は $k > 0$, $k \neq 1$ をみたし, θ は $0 \leq \theta \leq \frac{\pi}{6}$ をみたす実数とする。次の問いに答えよ。

- (1) 座標平面上で, 2 定点 $A(0, 1)$, $B(\cos \theta, \sin \theta)$ からの距離の比が $1 : k$ であるような点の軌跡は円になることを示し, その中心 (X, Y) および半径 r を k と θ を用いて表せ。
- (2) θ は固定したままで, k のみを与えられた範囲で動かすとき, (X, Y) のえがく軌跡を求めよ。
- (3) k, θ を与えられた範囲でともに動かすとき, (X, Y) の存在する領域を図示せよ。

[1998]

■ 図形と計量 |||||

1 xy 平面上の円 $C : x^2 + y^2 = 3$ 上に 2 点 $A(0, \sqrt{3})$, $B(0, -\sqrt{3})$ がある。点 $P(0, \sqrt{2})$ を通る直線と円 C の交点を Q, R とする。ただし, 点 R は第 1 象限にあり, $\angle APR = \theta$ ($0 < \theta < \frac{\pi}{2}$) とする。このとき, 次の問いに答えよ。

- (1) 原点 O から線分 QR へ垂線をひき QR との交点を S とする。線分 OS, QR の長さをそれぞれ θ を用いて表せ。
- (2) $\triangle AQB$ と $\triangle ABR$ の面積をそれぞれ T_1, T_2 とする。 $T_1 = \sqrt{3} QP \sin \theta$, $T_2 = \sqrt{3} PR \sin \theta$ が成り立つことを示し, 四角形 $AQBR$ の面積 $S(\theta)$ を求めよ。
- (3) (2) の $S(\theta)$ に対して, $2\sqrt{3} < S(\theta)$ を満たす θ の値の範囲を求めよ。 [2006]

2 三角形 ABC において $\angle ABC = 45^\circ$ であり, また辺 BC 上にある点 D は $BD = 1$, $CD = \sqrt{3} - 1$, $\angle ADB = \angle ACB + 15^\circ$, $\angle ADB \geq 90^\circ$ を満たすとする。次の問いに答えよ。

- (1) $\sin 15^\circ = \frac{\sqrt{6} - \sqrt{2}}{4}$ を示せ。
- (2) $\angle ACB$ の大きさを求めよ。 [1999]

4 正の実数 a, b, c に対して、 O を原点とする座標空間に 3 点 $A(a, 0, 0)$, $B(0, b, 0)$, $C(0, 0, c)$ がある。 $AC = 2$, $BC = 3$ かつ $\triangle ABC$ の面積が $\frac{3\sqrt{3}}{2}$ となるとき、次の問いに答えよ。

- (1) $\sin \angle ACB$ の値を求めよ。また、線分 AB の長さを求めよ。
- (2) a, b, c の値を求めよ。
- (3) 四面体 $OABC$ の体積を求めよ。また、原点 O から $\triangle ABC$ に下ろした垂線の長さを求めよ。 [2013]

5 直線 $l: (x, y, z) = (5, 0, 0) + s(1, -1, 0)$ 上に点 P_0 , 直線 $m: (x, y, z) = (0, 0, 2) + t(1, 0, 2)$ 上に点 Q_0 があり、 $\overrightarrow{P_0Q_0}$ はベクトル $(1, -1, 0)$ と $(1, 0, 2)$ の両方に垂直である。次の問いに答えよ。

- (1) P_0, Q_0 の座標を求めよ。
- (2) $|\overrightarrow{P_0Q_0}|$ を求めよ。
- (3) 直線 l 上の点 P , 直線 m 上の点 Q について、 \overrightarrow{PQ} を $\overrightarrow{PP_0}, \overrightarrow{P_0Q_0}, \overrightarrow{Q_0Q}$ で表せ。また、 $|\overrightarrow{PQ}|^2 = |\overrightarrow{PP_0} + \overrightarrow{Q_0Q}|^2 + 16$ であることを示せ。 [2012]

6 座標空間において、中心が $A(0, 0, a)$ ($a > 0$) で半径が r の球面 $x^2 + y^2 + (z - a)^2 = r^2$ は、点 $B(\sqrt{5}, \sqrt{5}, a)$ と点 $(1, 0, -1)$ を通るものとする。次の問いに答えよ。

- (1) r と a の値を求めよ。
- (2) 点 $P(\cos t, \sin t, -1)$ について、ベクトル \overrightarrow{AB} と \overrightarrow{AP} を求めよ。さらに内積 $\overrightarrow{AB} \cdot \overrightarrow{AP}$ を求めよ。
- (3) $\triangle ABP$ の面積 S を t を用いて表せ。また、 t が $0 \leq t \leq 2\pi$ の範囲を動くとき、 S の最小値と、そのときの t の値を求めよ。 [2010]

7 3点 $A(6, 0, 0)$, $B(0, 6, 0)$, $C(0, 0, 6)$ の定める平面を α とする。原点 O を通り平面 α に直交する直線と α との交点を H とする。また、線分 HO 上の点で、 H からの距離が t となる点を P_t とする。ただし、 P_t の動く範囲から両端点 H, O は除くとする。次の問いに答えよ。

- (1) 点 H の座標と、 t の動く範囲を求めよ。
- (2) 平面 α 上にあり、 P_t からの距離が OH となる点を作る円を S_t とする。 S_t とその内部を底面とし、 P_t を頂点とする円錐の体積を $f(t)$ とする。このとき $f(t)$ を求めよ。
- (3) (2) の $f(t)$ の最大値を求めよ。 [2005]

■ 整数と数列 |||||

1 次の問いに答えよ。

- (1) 方程式 $25x + 9y = 1$ の整数解をすべて求めよ。
- (2) 方程式 $25x + 9y = 33$ の整数解をすべて求めよ。さらに、これらの整数解のうち、 $|x + y|$ の値が最小となるものを求めよ。
- (3) 2 つの方程式 $25x + 9y = 33$, $xy = -570$ を同時に満たす整数解をすべて求めよ。

[2016]

2 自然数が 1 つずつ書かれている玉が、

① ① ② ① ② ③ ① ② ③ ④ ① ② ③ ④ ⑤ ① ② ……

のように 1 列に並べられている。次の問いに答えよ。

- (1) 数 100 が書かれた玉が最初に現れるのは何番目か。
- (2) 自然数 n に対し、 $2n^2$ 番目の玉に書かれている数は何か。
- (3) 1 番目から $2n^2$ 番目までの玉をすべて袋に入れた。この袋から 2 つの玉を取り出すとき、同じ数が書かれた玉を取り出す確率を求めよ。 [2014]

3 次の問いに答えよ。

(1) 条件 $x_1 = 1$, $x_{n+1} = x_n + 2^n$ ($n = 1, 2, 3, \dots$) によって定められる数列 $\{x_n\}$ の一般項を求めよ。

(2) 条件 $y_1 = \frac{4}{3}$, $\frac{1}{y_{n+1}} = \frac{4}{y_n} + \frac{3}{4}$ ($n = 1, 2, 3, \dots$) によって定められる数列 $\{y_n\}$ の一般項を求めよ。

(3) $\{x_n\}$, $\{y_n\}$ をそれぞれ(1), (2)の数列とする。2つのベクトル

$$\vec{a}_n = \left(16 - \frac{1}{x_n}, \frac{16}{x_n} - 1 \right), \vec{b}_n = \left(\frac{x_n}{4}, \frac{1}{y_n} \right)$$

が垂直であるときの正の整数 n の値を求めよ。 [2006]

4 数列 $\{a_n\}$ が $a_1 = 36$, $a_{n+1} = 2a_n + 2^{n+3}n - 17 \cdot 2^{n+1}$ ($n = 1, 2, 3, \dots$) により定められているとする。

(1) $b_n = \frac{a_n}{2^n}$ とおくと b_n と b_{n+1} の満たす関係式を導き、 $\{a_n\}$ の一般項を求めよ。

(2) $a_n > a_{n+1}$ となるような n の値の範囲および a_n が最小となるような n の値を求めよ。

(3) $S_n = a_1 + a_2 + \dots + a_n$ とおくと S_n が最小となるような n の値をすべて求めよ。

[2003]

5 n を自然数とする。数 w は、

$$w = 2^i + 2^j + 2^k \quad (i, j, k \text{ は自然数で } 1 \leq i \leq j \leq k \leq n)$$

の形に表されるものとする。このとき次の問いに答えよ。

(1) $n = 7$ とする。 w の値が 2^8 , $2^6 + 2^4$ となるそれぞれの場合について、 (i, j, k) をすべて求めよ。

(2) n を一般の自然数とする。 $2^r + 2^s$ (r, s は自然数で $r < s$) の形で表される w の値は全部で何個あるか。

(3) 一般の自然数 n に対し、 w の値は全部で何個あるか。 [2001]

6 次の問いに答えよ。

- (1) 整数 $n \geq 3$ に対して、 ${}_n C_3 = \sum_{k=3}^n {}_{k-1} C_2$ が成り立つことを示せ。
- (2) 整数 $k \geq 3$ に対して、 $x + y + z = k$ を満たす自然数 x, y, z の組 (x, y, z) の個数は $\frac{1}{2}(k-1)(k-2)$ であることを示せ。
- (3) 整数 $m \geq 0$ に対して、 $x + y + z \leq m$ を満たす負でない整数 x, y, z の組 (x, y, z) の個数を、(1), (2)を用いて求めよ。 [2000]

■ 確率 |||||

1 1個のサイコロを4回続けて投げて出た目の数を順に a, b, c, d とおき、2直線 l_1, l_2 を $l_1 : y = ax + b, l_2 : y = cx + d$ と定める。次の問いに答えよ。

- (1) l_1 と l_2 が一致する確率を求めよ。
- (2) l_1 と l_2 が1点で交わる確率を求めよ。
- (3) l_1 と l_2 が1点で交わり、その交点の x 座標, y 座標がともに整数となる確率を求めよ。 [2018]

2 $n \geq 3$ とする。1個のサイコロを n 回振る。この n 回の試行のうちで6の目がちょうど2回、しかも続けて出る確率を p_n とする。次の問いに答えよ。

- (1) p_3, p_4 を求めよ。
- (2) p_n を求め、 $p_{n+1} - \frac{5}{6}p_n = \left(\frac{1}{6}\right)^2 \left(\frac{5}{6}\right)^{n-1}$ であることを示せ。
- (3) $s_n = p_3 + p_4 + \dots + p_n$ として、 $\lim_{n \rightarrow \infty} s_n$ を求めよ。ただし、必要ならば、 $|r| < 1$ のとき $\lim_{n \rightarrow \infty} nr^n = 0$ であることは使ってよい。 [2012]

3 A, B 2 人が次のようなゲームを行う。第三者 (A, B 以外の中立的立場の者) がさいころを投げ、1 の目が出たら A だけに 3 点、3 の目が出たら A だけに 2 点を与え、2 か 4 の目が出たら B だけに 2 点を与える。その他の目が出たら、A にも B にも点を与えない。この試行を何回かくり返し、先に得点の合計が 4 点以上になった方を勝ちとする。

1 回目の試行で B が勝つ確率を p_1 とする。 $n \geq 2$ のとき、 $n-1$ 回目までの試行では勝負はつかず、 n 回目の試行で B が勝つ確率を p_n とする。次の問いに答えよ。

(1) p_1, p_2, p_3, p_4 を求めよ。また一般項 p_n を求めよ。

(2) $q_n = 9p_{n+2} - 6p_{n+1} + p_n$ とするとき、 $\sum_{n=1}^k q_n$ を求めよ。また $\sum_{n=1}^k p_n$ を求めよ。

(3) $a = \sum_{n=1}^{\infty} p_n$ とするとき、 $\lim_{k \rightarrow \infty} \frac{1}{k} \log \left| \sum_{n=1}^k p_n - a \right|$ を求めよ。ただし、必要ならば、

$$\lim_{k \rightarrow \infty} \frac{k^2}{3^k} = 0, \quad \lim_{x \rightarrow \infty} \frac{\log x}{x} = 0 \text{ を用いてよい。} \quad [2009]$$

4 座標平面上で動点 P が、 x 軸の正の方向へ 1 進むことを文字 a で表し、 y 軸の正の方向へ 1 進むことを文字 b で表し、停留することを文字 c で表す。 a, b, c からなる文字列が与えられたとき、点 P は原点を出発し、その文字列に従って移動する。たとえば、長さ 4 の文字列 acab に対しては、点 P は原点 (0, 0) から出発して、(1, 0), (1, 0), (2, 0), (2, 1) と移動し、点 (2, 1) が到達点となる。長さ n の文字列のなかで、点 P の到達点が (p, q) となる文字列の個数を $F_n(p, q)$ とする。

(1) $F_n(p, q)$ を p, q, n を用いて表せ。ただし、 n は自然数、 p, q は $p \geq 0, q \geq 0, p+q \leq n$ の範囲の整数とする。

(2) 自然数 n が与えられているとき、 $F_n(p-1, q) \leq F_n(p, q)$ を満たす整数 p, q の組 (p, q) ($p \geq 1, q \geq 0, p+q \leq n$) の範囲を図示せよ。また、 $F_n(p, q-1) \leq F_n(p, q)$ を満たす整数 p, q の組 (p, q) ($p \geq 0, q \geq 1, p+q \leq n$) の範囲を図示せよ。

(3) $n+1$ が 3 の倍数となる自然数 n が与えられているとき、 $F_n(p, q)$ が最大になる自然数 p, q の組 (p, q) をすべて求めよ。 [2004]

■ 論証 |||||

1 以下の問いに答えよ。

- (1) すべての正の数 x, y に対して、不等式 $x(\log x - \log y) \geq x - y$ が成り立つことを証明せよ。また、等号が成り立つのは $x = y$ の場合に限ることを示せ。
- (2) 正の数 x_1, \dots, x_n が $\sum_{i=1}^n x_i = 1$ を満たしているとき、不等式 $\sum_{i=1}^n x_i \log x_i \geq \log \frac{1}{n}$ が成り立つことを証明せよ。また、等号が成り立つのは $x_1 = \dots = x_n = \frac{1}{n}$ の場合に限ることを示せ。 [2002]

■ 複素数 |||||

1 次の問いに答えよ。

- (1) $z^6 + 27 = 0$ を満たす複素数 z をすべて求め、それらを表す点を複素数平面上に図示せよ。
- (2) (1)で求めた複素数 z を偏角が小さい方から順に z_1, z_2, \dots とするとき、 z_1, z_2 と積 $z_1 z_2$ を表す 3 点が複素数平面上で一直線上にあることを示せ。ただし、偏角は 0 以上 2π 未満とする。 [2017]

2 数列 $\{a_n\}$ と $\{b_n\}$ は

$$a_1 = b_1 = 2, \quad a_{n+1} = \frac{\sqrt{2}}{4}a_n - \frac{\sqrt{6}}{4}b_n, \quad b_{n+1} = \frac{\sqrt{6}}{4}a_n + \frac{\sqrt{2}}{4}b_n \quad (n = 1, 2, 3, \dots)$$

を満たすものとする。 a_n を実部とし b_n を虚部とする複素数を z_n で表すとき、次の問いに答えよ。

- (1) $z_{n+1} = wz_n$ を満たす複素数 w と、その絶対値 $|w|$ を求めよ。
- (2) 複素数平面上で、点 z_{n+1} は点 z_n をどのように移動した点であるか答えよ。
- (3) 数列 $\{a_n\}$ と $\{b_n\}$ の一般項を求めよ。
- (4) 複素数平面上の 3 点 $0, z_n, z_{n+1}$ を頂点とする三角形の周と内部を黒く塗りつぶしてできる図形を T_n とする。このとき、複素数平面上で $T_1, T_2, \dots, T_n, \dots$ によって黒く塗りつぶされる領域の面積を求めよ。 [2016]

3 関数 $f(x) = -x^3 + 3ax - 2b$ に対して、 $f(x) = 0$ が 2 重解または 3 重解をもつならば、 $a^3 = b^2$ となることを示せ。ただし、 $a \geq 0$ とする。 [2007]

4 複素数平面上で中心が 1, 半径 1 の円を C とする。以下, i は虚数単位とする。

(1) C 上の点 $z = 1 + \cos t + i \sin t$ ($-\pi < t < \pi$) について, z の絶対値および偏角を t を用いて表せ。また $\frac{1}{z^2}$ を極形式で表せ。

(2) z が円 C 上の 0 でない点を動くとき, $w = \frac{2i}{z^2}$ は複素数平面上で放物線を描くことを示し, この放物線を図示せよ。 [2004]

5 $z = r(\cos \theta + i \sin \theta)$ を $r > 1$ かつ $0 < \theta < \frac{\pi}{2}$ を満たす複素数とする。複素数平面において, $z, \frac{1}{z}, \bar{z}, \frac{1}{\bar{z}}$ を表す点をそれぞれ P, Q, R, S とする。ただし, \bar{z} は z と共役な複素数を表す。

- (1) 点 P, Q, R, S は相異なる 4 点であることを示せ。
- (2) 直線 PQ と直線 RS が直交しているとする。このとき, r を θ の関数として表し, θ の動きうる区間 (α, β) を求めよ。
- (3) (2)において, 原点と点 $\cos \beta + i \sin \beta$ を通る直線を l とし, 点 P と l の距離を d とする。 $\theta \rightarrow \beta$ のとき, d は 0 に収束することを示せ。 [2002]

6 次の問いに答えよ。

- (1) 絶対値が 1 の複素数 $\alpha_1, \alpha_2, \alpha_3$ が $\alpha_1 + \alpha_2 + \alpha_3 = 3$ を満たすとき, $\alpha_1, \alpha_2, \alpha_3$ を求めよ。
- (2) β_1, β_2, γ を絶対値が 1 の複素数とし, $P(z) = \beta_2 z^2 + \beta_1 z + (\cos 30^\circ + i \sin 30^\circ)$ が $\frac{1}{\gamma} P(\gamma) = 3$ を満たすとする。ただし, i は虚数単位である。このとき, β_1, β_2, γ を求め, さらに実数 t が $0 \leq t \leq 1$ を動くとき, 複素数平面上で点 $P(\gamma t)$ が描く軌跡を求めよ。 [1999]

7 次の問いに答えよ。

- (1) $0 \leq \theta < \frac{\pi}{2}$ に対し, 不等式 $\sin \theta \leq \theta \leq \tan \theta$ が成立することを示せ。
- (2) 正の実数 x と自然数 $n = 1, 2, 3, \dots$ に対し, 複素数 $1 + \frac{x}{n}i$ の偏角を θ_n ($0 \leq \theta_n < 2\pi$) とおくと, $\lim_{n \rightarrow \infty} n\theta_n$ を求めよ。
- (3) (2)で与えた複素数の n 乗 $\left(1 + \frac{x}{n}i\right)^n$ の実部を a_n とおくと, $\lim_{n \rightarrow \infty} a_n$ を求めよ。

[1998]

■ 曲線 |||||

1 a, b, c を正の数とする。楕円 $C: \frac{x^2}{a^2} + \frac{y^2}{b^2} = 1$ が、4点 $(c, 0), (0, c), (-c, 0), (0, -c)$ を頂点とする正方形の各辺に接しているとする。4つの接点を頂点とする四角形の面積を S 、楕円 C で囲まれる図形の面積を T とする。このとき、不等式 $\frac{S}{T} \leq \frac{2}{\pi}$ が成り立つことを証明せよ。また、等号が成り立つのはどのようなときか答えよ。 [2018]

2 曲線 $C: x^2 + 4y^2 = 4$ 上を動く点 P と、 C 上の定点 $Q(2, 0), R(0, 1)$ がある。次の問いに答えよ。
 (1) $\triangle PQR$ の面積の最大値と、そのときの P の座標を求めよ。
 (2) (1) で求めた点 P に対して直線 PQ を考える。曲線 C によって囲まれた図形を直線 PQ で2つに分けたとき、直線 PQ の下方にある部分の面積を求めよ。 [2016]

3 $-1 < t < 1$ を満たす t に対して、 xy 平面上の直線 $y = t$ と楕円 $C: \frac{x^2}{4} + y^2 = 1$ の交点を $Q(-s, t), R(s, t) (s > 0)$ とする。点 $P(0, 1)$ に対して、 $\triangle PQR$ の面積を $S(t)$ とするとき、次の問いに答えよ。
 (1) $S(t)$ を求めよ。また、 $-1 < t < 1$ における $S(t)$ の最大値とそのときの点 R の座標を求めよ。
 (2) (1) で求めた点 R における楕円 C の接線 l と x 軸との交点を T とするとき、 $\cos \angle PRT$ の値を求めよ。
 (3) 楕円 C で囲まれる図形は直線 PR によって2つの部分に分割される。このうち原点が属さない方の面積を、(1) で求めた点 R に対して求めよ。 [2007]

4 定数 k に対して、関数 $f(t)$ と $g(t)$ をそれぞれ、 $f(t) = 3^{k+t} + 3^{k-t}$ 、 $g(t) = 3^{k+t} - 3^{k-t}$ と定める。すべての実数 t に対して、 $f(2t) = \{f(t)\}^2 + \{g(t)\}^2$ が成り立つとき、次の問いに答えよ。
 (1) 定数 k を求めよ。また、 $\{f(t)\}^2 - \{g(t)\}^2$ を求めよ。
 (2) 媒介変数 t で表された曲線 $C: x = 2f(t), y = g(t) - 1$ を x と y の方程式で表し、 C を座標平面上に図示せよ。
 (3) (2) の曲線 C 上の点 P における接線が原点 O を通るとき、接点 P の座標を求めよ。 [2000]

■ 極限 |||||

1 数列 $\{a_n\}$ を

$$a_1 = 3, a_{n+1} = \frac{1}{2} \left(a_n + \frac{7}{a_n} \right) \quad (n = 1, 2, 3, \dots)$$

で定める。このとき、次の問いに答えよ。

(1) $a_n > \sqrt{7}$ ($n = 1, 2, 3, \dots$) が成り立つことを示せ。

(2) 数列 $\{b_n\}$ を

$$b_n = \frac{a_n - \sqrt{7}}{a_n + \sqrt{7}} \quad (n = 1, 2, 3, \dots)$$

で定めるとき、 $b_{n+1} = b_n^2$ ($n = 1, 2, 3, \dots$) が成り立つことを示せ。

(3) $\lim_{n \rightarrow \infty} a_n$ と $\lim_{n \rightarrow \infty} 2^{-n} \log(a_n - \sqrt{7})$ を求めよ。 [2017]

2 関数 $y = \log_3 x$ とその逆関数 $y = 3^x$ のグラフが、直線 $y = -x + s$ と交わる点をそれぞれ $P(t, \log_3 t)$ 、 $Q(u, 3^u)$ とする。次の問いに答えよ。

(1) 線分 PQ の中点の座標は、 $\left(\frac{s}{2}, \frac{s}{2}\right)$ であることを示せ。

(2) s, t, u は $s = t + u$ 、 $u = \log_3 t$ であることを示せ。

(3) $\lim_{t \rightarrow 3} \frac{su - k}{t - 3}$ が有限な値となるように、定数 k の値を定め、その極限値を求めよ。

[2015]

3 $a > 1$ とする。無限等比級数

$$a + ax(1 - ax) + ax^2(1 - ax)^2 + ax^3(1 - ax)^3 + \dots$$

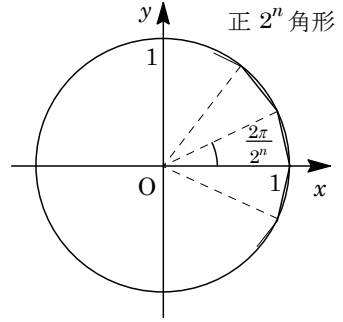
が収束するとき、その和を $S(x)$ とする。次の問いに答えよ。

(1) この無限等比級数が収束するような実数 x の値の範囲を求めよ。また、そのときの $S(x)$ を求めよ。

(2) x が(1)で求めた範囲を動くとき、 $S(x)$ のとり得る値の範囲を求めよ。

(3) $I(a) = \int_0^{\frac{1}{a}} S(x) dx$ とおくと、極限値 $\lim_{a \rightarrow \infty} I(a)$ を求めよ。 [2015]

4 半径 1 の円に内接する正 2^n 角形 ($n \geq 2$) の面積を S_n , 周の長さを L_n とする。次の問いに答えよ。



(1) $S_n = 2^{n-1} \sin \frac{\pi}{2^{n-1}}$, $L_n = 2^{n+1} \sin \frac{\pi}{2^n}$ を示せ。

(2) $\frac{S_n}{S_{n+1}} = \cos \frac{\pi}{2^n}$, $\frac{S_n}{L_n} = \frac{1}{2} \cos \frac{\pi}{2^n}$ を示せ。

(3) $\lim_{n \rightarrow \infty} S_n$, $\lim_{n \rightarrow \infty} \cos \frac{\pi}{2^2} \cos \frac{\pi}{2^3} \cdots \cos \frac{\pi}{2^n}$ を求めよ。

(4) $\lim_{n \rightarrow \infty} 2^n \frac{S_2}{L_2} \frac{S_3}{L_3} \cdots \frac{S_n}{L_n}$ を求めよ。 [2012]

5 次の問いに答えよ。

(1) a を定数とし, 正の数からなる数列 $\{x_n\}$ は, $\lim_{n \rightarrow \infty} (\sqrt{x_n + n} - \sqrt{n}) = a$ を満たすと
する。このとき, $\lim_{n \rightarrow \infty} \frac{x_n}{\sqrt{n}} = 2a$ が成り立つことを示せ。

(2) 自然数 L, n に対して, $\sqrt{L+n+1} - \sqrt{n+1} < \frac{1}{2} \sum_{k=1}^L \frac{1}{\sqrt{k+n}} < \sqrt{L+n} - \sqrt{n}$ が成り立
つことを示せ。

(3) b は定数で, $b > 1$ とする。自然数 n に対して, 集合

$$\left\{ L \mid L \text{ は } \sum_{k=1}^L \frac{1}{\sqrt{k+n}} < b \text{ を満たす自然数} \right\}$$

の要素の個数を L_n とする。このとき, $\lim_{n \rightarrow \infty} \frac{L_n}{\sqrt{n}} = b$ が成り立つことを示せ。 [2008]

6 1 個のさいころを振る試行をくり返す。 n 回の試行で少なくとも 1 回は 1 の目
が出る確率を a_n とする。 $k = 1, 2, 3, \dots, n$ について, k 回目の試行ではじめて 1 の
目が出る確率を b_k とする。次の問いに答えよ。

(1) a_n を n を用いて表せ。

(2) $M_n = \frac{1}{a_n} \sum_{k=1}^n k b_k$ とする。 M_n を n を用いて表せ。

(3) (2) の M_n について, $\lim_{n \rightarrow \infty} M_n$ を求めよ。ただし, $|r| < 1$ のとき $\lim_{n \rightarrow \infty} n r^n = 0$ が成り
立つことを用いてもよい。 [2005]

3 $-\frac{\pi}{2} \leq \theta \leq \frac{\pi}{2}$ に対して、関数 $f(\theta)$ を、 $f(\theta) = \frac{2}{3} \sin 3\theta - \sin \theta - \sqrt{3} \cos \theta$ とおく。

$t = \sin \theta + \sqrt{3} \cos \theta$ とするとき、次の問いに答えよ。

- (1) t のとりうる値の範囲を求めよ。
- (2) $\sin 3\theta = 3\sin \theta - 4\sin^3 \theta$ を示せ。また、 $\frac{t^3 - 3t}{2} = \sin 3\theta$ が成り立つことを示せ。
- (3) $f(\theta)$ を t の式で表せ。また、それを利用して $f(\theta)$ の最大値と最小値、および最大値と最小値を与える θ の値を求めよ。 [2013]

4 座標平面上に点 $A(2\cos \theta, 2\sin \theta)$ 、 $B(\frac{4}{3}, 0)$ 、 $C(\cos \theta, -\sin \theta)$ がある。ただし、 $0 < \theta < \pi$ とする。次の問いに答えよ。

- (1) 直線 AC と x 軸の交点を P とする。 P の座標を θ で表せ。
- (2) $\triangle ABC$ の面積 $S(\theta)$ を求めよ。
- (3) 面積 $S(\theta)$ の最大値とそのときの θ の値を求めよ。 [2011]

5 $a(a > 0)$ を定数とし、 $f(x) = 2a \log x - (\log x)^2$ とする。関数 $y = f(x)$ のグラフは、 x 軸と点 $P_1(x_1, 0)$ 、 $P_2(x_2, 0)$ ($x_1 < x_2$) で交わっている。次の問いに答えよ。

- (1) x_1 、 x_2 の値を求めよ。また、 $y = f(x)$ の最大値と、そのときの x の値を求めよ。
- (2) 点 P_1 、 P_2 における $y = f(x)$ の接線をそれぞれ l_1 、 l_2 とする。 l_1 と l_2 の交点の x 座標を $X(a)$ と表すとき、 $\lim_{a \rightarrow \infty} X(a)$ を求めよ。
- (3) $a = 1$ とするとき、 $y = f(x)$ のグラフと x 軸で囲まれた図形の面積を求めよ。 [2010]

6 座標平面上で、半径 r の 2 つの円 O_1 、 O_2 の中心をそれぞれ (r, r) 、 $(1-r, 1-r)$ とする。円 O_1 の内部と円 O_2 の内部の少なくとも一方に属する点からなる領域を D とし、領域 D の面積を S とする。以下、 r は $0 < r \leq \frac{1}{2}$ の範囲を動くとする。

- (1) 円 O_1 と円 O_2 が接するときの半径 r の値を求めよ。
- (2) 円 O_1 と円 O_2 が 2 点 P 、 Q で交わるとする。 $\theta = \frac{1}{2} \angle PO_1Q$ とおいて、半径 r と面積 S を θ を用いて表せ。
- (3) 面積 S が最大となる半径 r の値を求めよ。 [2004]

■ 積分法 |||||

1 次の問いに答えよ。

(1) $f(t)$ を $0 \leq t \leq 1$ で連続な関数とする。 $\tan x = t$ とおいて、

$$\int_0^{\frac{\pi}{4}} \frac{f(\tan x)}{\cos^2 x} dx = \int_0^1 f(t) dt \text{ であることを示せ。}$$

(2) (1)を用いて、 0 以上の整数 n に対し、 $\int_0^{\frac{\pi}{4}} \frac{\tan^n x}{\cos^2 x} dx$ の値を求めよ。また、

$$\int_0^{\frac{\pi}{4}} \tan^n x dx \leq \frac{1}{n+1} \text{ を示せ。}$$

(3) 0 以上の整数 n と $0 \leq x \leq \frac{\pi}{4}$ を満たす x に対し、

$$\frac{1 - \tan^2 x + \tan^4 x - \dots + (-1)^n \tan^{2n} x}{\cos^2 x} = 1 - (-1)^{n+1} \tan^{2(n+1)} x$$

であることを示せ。

(4) (2)と(3)を用いて、 $\lim_{n \rightarrow \infty} \sum_{k=0}^n (-1)^k \frac{1}{2k+1}$ の値を求めよ。 [2012]

2 次の問いに答えよ。

(1) $x \geq 0$ のとき、不等式 $1 - \cos \frac{x}{2} \leq \frac{x^2}{8}$ を示せ。

(2) $I_n = \int_0^2 x^n e^x dx$ ($n=1, 2, 3, \dots$) とおく。 I_1 の値を求めよ。さらに、等式

$$I_n = 2^n e^2 - n I_{n-1} \quad (n=2, 3, 4, \dots) \text{ を示せ。}$$

(3) I_2, I_3, I_4 および I_5 の値を求めよ。

(4) 不等式 $\int_0^4 \left(1 - \cos \frac{x}{2}\right) e^{\sqrt{x}} dx \leq -2e^2 + 30$ を示せ。 [2011]

3 次の問いに答えよ。

(1) 自然数 n に対して、 $\int_n^{n+1} \frac{1}{x} dx$ を求めよ。また、 $\frac{1}{n+1} < \log(n+1) - \log n < \frac{1}{n}$ を

示せ。

(2) 2 以上の自然数 n に対して、 $\log(n+1) < \sum_{k=1}^n \frac{1}{k} < 1 + \log n$ を示せ。

(3) 2 以上の自然数 n に対して、 $\sum_{k=1}^n \frac{1}{e^2 e^{\frac{1}{3}} \dots e^{\frac{1}{k}}} > \frac{1}{e} \log(n+1)$ を示せ。 [2011]

4 関数 $f(t)$ は区間 $[-1, 1]$ で連続で、偶関数、すなわち $f(-t) = f(t)$ であるとする。次の問いに答えよ。

(1) $\int_{-1}^0 f(t) dt = \int_0^1 f(t) dt$ を示せ。

(2) 関数 $F(x) = -\int_{-1}^1 |t-x| f(t) dt$ ($-1 \leq x \leq 1$) について

$$F'(x) = -\int_{-1}^x f(t) dt + \int_x^1 f(t) dt, \quad F''(x) = -2f(x)$$

を示せ。

(3) 関数 $f(x)$ は、さらに等式 $f(x) = -\int_{-1}^1 |t-x| f(t) dt$ ($-1 \leq x \leq 1$) を満たすとする。このとき、 $g(x) = f(x) - f(0) \cos \sqrt{2}x$ について

$$g(0) = g'(0) = 0, \quad \left(\frac{1}{2} \{g'(x)\}^2 + g(x)^2 \right)' = 0$$

が成り立つことを示し、 $f(x) = f(0) \cos \sqrt{2}x$ を示せ。

[2009]

5 a を実数とする。次の問いに答えよ。

(1) $a \geq 0$ のとき、 $S(a) = \int_0^1 |x^3 - 3ax^2 + 2a^2x| dx$ を求めよ。

(2) a が $0 \leq a \leq \frac{1}{2}$ の範囲を動くとき、 $S(a)$ の最大値を求めよ。

[2008]

6 関数 $f(x)$ を $0 \leq x \leq \pi$ のとき $f(x) = \sin x$ とおき、 $x < 0$ または $\pi < x$ のとき $f(x) = 0$ とおく。次の問いに答えよ。

(1) 2つの定積分 $\int_0^{\frac{3}{2}\pi} \{f(x)\}^2 dx$ と $\int_0^{\frac{3}{2}\pi} \left\{f\left(x - \frac{\pi}{2}\right)\right\}^2 dx$ の値を求めよ。

(2) 定積分 $\int_0^{\frac{3}{2}\pi} f(x) f\left(x - \frac{\pi}{2}\right) dx$ の値を求めよ。

(3) $a > 0$ について、 $T(a) = \int_0^{\frac{3}{2}\pi} \left\{2af(x) + \frac{1}{a} f\left(x - \frac{\pi}{2}\right)\right\}^2 dx$ とおく。 $T(a)$ の最小値とそれを与える a の値を求めよ。

[2005]

7 以下の問いに答えよ。

- (1) 関数 $y = \frac{1}{e^{-x} + 1}$ のグラフの概形をかけ。
- (2) $g_a(r) = \int_{-1}^r \left(\frac{1}{e^{-x} + 1} - \frac{1}{e^{a-x} + 1} \right) dx$ とする。ただし、 $a > 0$ である。このとき、 $\lim_{r \rightarrow \infty} g_a(r)$ を求めよ。
- (3) $h(a) = \lim_{r \rightarrow \infty} g_a(r)$ とおく。このとき、 $\lim_{a \rightarrow \infty} \frac{h(a)}{a}$ を求めよ。 [2004]

8 整式 $f(x)$ は関係式 $\int_0^x f(x) dx = x^3 - 3x^2 - 9x + 2 \int_x^0 f(x) dx$ を満たしている。また $r \geq 0$ に対し、 $|x| \leq r$ における $|f(x)|$ の最大値を $F(r)$ とする。このとき次の問いに答えよ。

- (1) $f(x)$ を求め、 $y = |f(x)|$ のグラフをかけ。
- (2) $F(r)$ を求めよ。
- (3) $\int_0^2 F(r) dr$ を求めよ。 [2001]

9 次を示せ。

- (1) $\log(n+1) < 1 + \frac{1}{2} + \frac{1}{3} + \dots + \frac{1}{n}$ ($n = 1, 2, 3, \dots$)
- (2) $\lim_{n \rightarrow \infty} \frac{1}{\log n} \sum_{k=1}^n \frac{1}{k} = 1$
- (3) $\lim_{n \rightarrow \infty} \frac{1}{\log n} \int_1^{n+1} \left| \frac{\sin \pi x}{x} \right| dx = \int_0^1 \sin \pi y dy = \frac{2}{\pi}$ [2000]

10 n を自然数とする。 a は $a > 1$ を満たす実数とし、 $f(a) = \frac{1}{2} \int_0^1 |ax^n - 1| dx + \frac{1}{2}$

とする。次の問いに答えよ。

- (1) $f(a)$ を求めよ。
- (2) 関数 $f(a)$ の $a > 1$ における最小値を b_n とする。 b_n を求めよ。
- (3) (2) で求めた b_n ($n = 1, 2, 3, \dots$) に対して、 $m+1$ 個の数の積 $b_m \cdot b_{m+1} \cdots b_{2m}$ を c_m ($m = 1, 2, 3, \dots$) とおく。このとき、 $\lim_{m \rightarrow \infty} c_m$ を求めよ。 [1999]

■ 積分の応用 |||||

1 a, k を定数とし、曲線 $C_1 : y = e^x$ および曲線 $C_2 : y = k\sqrt{x-a}$ を考える。次の問いに答えよ。

- (1) 2つの曲線 C_1, C_2 が共有点をもつための、 a, k が満たすべき条件を求めよ。
以下、2つの曲線 C_1, C_2 が共有点 $P(t, e^t)$ において同一の直線 l に接しているとする。
- (2) a と k を t を用いて表せ。
- (3) 直線 l が原点を通るとする。このとき、曲線 C_1 、曲線 C_2 、 x 軸、 y 軸で囲まれる図形を y 軸のまわりに 1 回転させてできる立体の体積を求めよ。 [2018]

2 関数 $f(x) = xe^x$ について、次の問いに答えよ。

- (1) 関数 $y = f(x)$ について、増減および凹凸を調べ、そのグラフをかけ。ただし、必要ならば $\lim_{x \rightarrow -\infty} xe^x = 0$ を用いてもよい。
- (2) 不定積分 $\int xe^x dx, \int x^2 e^{2x} dx$ をそれぞれ求めよ。
- (3) $0 \leq t \leq 1$ に対し、 $g(x) = f(x) - f(t)$ とおく。 $0 \leq x \leq 1$ の範囲で、曲線 $y = g(x)$ と x 軸ではさまれる部分を、 x 軸のまわりに 1 回転してできる回転体の体積を $V(t)$ とする。 $V(t)$ を求めよ。
- (3) (3)の $V(t)$ が最小値をとるときの t の値を a とする。最小値 $V(a)$ と、 $f(a)$ の値を求めよ。ただし、 a の値は求める必要はない。 [2015]

3 関数 $y = \frac{1}{e^x + e^{-x}}$ のグラフ C について、次の問いに答えよ。

- (1) C の変曲点のうち、 x 座標が最大となる点 P の x 座標を求めよ。
- (2) (1)で求めた P の x 座標を b とするとき、 $\tan \theta = e^b$ を満たす $\theta (0 < \theta < \frac{\pi}{2})$ に対し、 $\tan 2\theta$ および θ の値を求めよ。
- (3) 上の b に対する直線 $x = b$ と x 軸、 y 軸および C で囲まれた図形の面積を求めよ。 [2014]

4 $a > 0$ とする。 $x \geq 0$ における関数 $f(x) = e^{\sqrt{ax}}$ と曲線 $C: y = f(x)$ について、次の問いに答えよ。

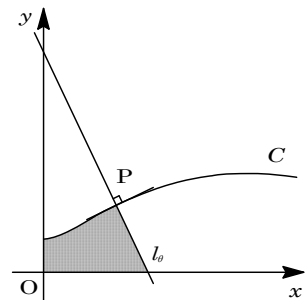
- (1) C 上の点 $P\left(\frac{1}{a}, f\left(\frac{1}{a}\right)\right)$ における接線 l の方程式を求めよ。また、 P を通り l に直交する直線 m の方程式を求めよ。
- (2) 定積分 $\int_0^{\frac{1}{a}} f(x) dx$ を $t = \sqrt{ax}$ とおくことにより求めよ。
- (3) 曲線 C , 直線 $y = 1$ および直線 m で囲まれた図形の面積 $S(a)$ を求めよ。また、 $a > 0$ における $S(a)$ の最小値とそれを与える a の値を求めよ。 [2013]

5 次の問いに答えよ。

- (1) xy 平面上の直線 $l: y = mx + \frac{1}{3}$ が曲線 $C: y = x^{\frac{2}{3}} (x \geq 0)$ に接するとき、直線 l の傾き m の値と接点の座標を求めよ。
- (2) (1) で求めた m の値に対する直線 l , 曲線 C および y 軸で囲まれた部分を、 y 軸のまわりに 1 回転してできる回転体の体積を求めよ。 [2007]

6 xy 平面上に媒介変数 t で表された曲線 $C: x = 2t - \sin t, y = 2 - \cos t$ がある。 $t = \theta (0 < \theta < \pi)$ のときの点 $P(2\theta - \sin \theta, 2 - \cos \theta)$ における C の法線を l_θ とする。 l_θ と x 軸と y 軸で囲まれた三角形の面積を $S(\theta)$ とし、その三角形と曲線 C の下側にある部分との共通部分 (図の網点部) の面積を $T(\theta)$ とする。このとき、次の問いに答えよ。

- (1) 直線 l_θ を求めよ。
- (2) $S(\theta)$ を求めよ。
- (3) $T(\theta)$ を求めよ。
- (4) 極限值 $\lim_{\theta \rightarrow +0} \frac{T(\theta)}{S(\theta)}$ を求めよ。



[2006]

7 以下の問いに答えよ。

(1) 次の(i), (ii)のグラフの概形を別々にかけ。

(i) $y = 1 - |x|$ (ii) $y = \frac{1}{1 + |x|}$

(2) 区間 $-1 \leq x \leq 1$ において不等式 $(ax + b)(1 - x^2) \leq 1 - |x|$ が成り立つとき、定数 a, b の満たす条件を求めよ。

(3) a, b が(2)で求めた条件を満たすとき、区間 $-1 \leq x \leq 1$ で $y = 1 - |x|$ と $y = (ax + b)(1 - x^2)$ のグラフによって囲まれた図形の面積を求めよ。 [2003]

8 a を正の定数とし、 xy 平面上の曲線 $y = a\sqrt{1 - x^2}$ ($-1 \leq x \leq 1$) を C とする。

$0 < \theta < \frac{\pi}{2}$ を満たす実数 θ に対して、点 $A\left(\frac{1}{\cos\theta}, 0\right)$ から曲線 C に接線 l をひき、接点を P とする。

(1) l の方程式および P の座標を求めよ。

(2) 直線 $x = -1$ と直線 l および曲線 C で囲まれる部分の面積を S_1 とし、 x 軸と直線 l および曲線 C で囲まれる部分の面積を S_2 とする。 S_1, S_2 を求めよ。

(3) 直線 l と直線 $x = -1$ の交点を B とする。点 P が線分 AB の中点となるならば、 $S_1 = 2S_2$ が成り立つことを示せ。 [2002]

9 2次関数 $y = f(x)$ は2点 $(0, 0), (p, 0)$ を通り ($p > 0$)、曲線 $y = e^x$ 上に頂点をもつとする。このとき次の問いに答えよ。

(1) $f(x)$ の x^2 の係数を p で表せ。

(2) 曲線 $y = f(x)$ と x 軸とで囲まれた図形を F_1 とする。また曲線 $y = e^x$ と x 軸、および2直線 $x = 0, x = p$ で囲まれた図形を F_2 とする。さらに F_1, F_2 を x 軸のまわりに1回転してできる回転体の体積をそれぞれ V_1, V_2 とする。このとき V_1, V_2 の値を、 p を用いて表せ。

(3) $\lim_{p \rightarrow +0} \frac{V_1}{V_2}$ を求めよ。 [2001]

10 $0 < h < 1$ とする。 xy 平面上で、曲線 $y = e^{-x^2}$ と直線 $y = h$ とで囲まれた図形を、 y 軸の周りに1回転してできる立体の体積を $V(h)$ とする。次の問いに答えよ。

(1) $V(h)$ を求めよ。

(2) 自然数 $n = 1, 2, 3, \dots$ に対し、 $2^n > \frac{n(n+1)}{2}$ が成立することを示せ。

(3) $h = 2^{-n}$ ($n = 1, 2, 3, \dots$) とするとき、 $\lim_{n \rightarrow \infty} V(2^{-n})$ を求めよ。 [1998]

分野別問題と解答例

図形と式／図形と計量／ベクトル

整数と数列／確率／論証

複素数／曲線／極限

微分法／積分法／積分の応用

問 題

座標平面上の放物線 $y = x^2$ 上に点 $P(t, t^2)$ ($t > 0$) をとる。原点 $O(0, 0)$ を通り、直線 OP に垂直な直線を l とする。また、 $0 < a \leq 1$ として、点 $A(0, a)$ をとる。このとき、次の問いに答えよ。

- (1) 直線 PA と l は交わることを示し、その交点 $Q(u, v)$ の座標を t と a を用いて表せ。
- (2) t がすべての正の実数値をとって変化するとき、(1)で求めた点 $Q(u, v)$ の軌跡が $(-\frac{1}{\sqrt{3}}, 1)$ を通るとする。このとき、定数 a の値を求め、点 $Q(u, v)$ の軌跡を求めよ。
- [2017]

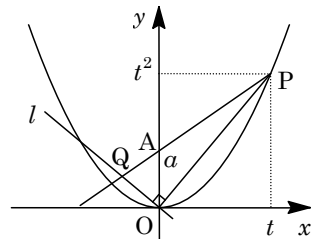
解答例

- (1) $P(t, t^2)$ ($t > 0$) に対して、 OP の傾きは t より、 O を通り OP に垂直な直線 l の方程式は、

$$y = -\frac{1}{t}x \cdots \cdots \textcircled{1}$$

$A(0, a)$ ($0 < a \leq 1$) に対して、直線 PA の方程式は、

$$y = \frac{t^2 - a}{t}x + a \cdots \cdots \textcircled{2}$$



ここで、 $\frac{t^2 - a}{t} = -\frac{1}{t}$ とすると $\frac{t^2 - a + 1}{t} = 0$ となるが、 $t^2 > 0$ 、 $0 < a \leq 1$ から成立しない。よって、直線 PA と l は交わる。

そこで、①②を連立すると、 $\frac{t^2 - a}{t}x + a = -\frac{1}{t}x$ より、

$$x = -\frac{at}{t^2 - a + 1}, \quad y = \frac{a}{t^2 - a + 1}$$

①と②の交点が $Q(u, v)$ より、 $u = -\frac{at}{t^2 - a + 1}$ 、 $v = \frac{a}{t^2 - a + 1}$

- (2) 点 $Q(u, v)$ の軌跡が $(-\frac{1}{\sqrt{3}}, 1)$ を通ることより、(1)から、

$$-\frac{at}{t^2 - a + 1} = -\frac{1}{\sqrt{3}} \cdots \cdots \textcircled{3}, \quad \frac{a}{t^2 - a + 1} = 1 \cdots \cdots \textcircled{4}$$

④より $t^2 - a + 1 = a$ となり、③に代入すると、 $t = \frac{1}{\sqrt{3}}$ となるので、④から、

$$a = \frac{1}{2} \left(\frac{1}{3} + 1 \right) = \frac{2}{3}$$

このとき、(1)から、 $u = -\frac{2t}{3t^2 + 1} \cdots \cdots \textcircled{5}$ 、 $v = \frac{2}{3t^2 + 1} \cdots \cdots \textcircled{6}$

すると、 $v \neq 0$ から $t = -\frac{u}{v}$ となり、⑥に代入すると $v\left(3 \cdot \frac{u^2}{v^2} + 1\right) = 2$ から、

$$\frac{3u^2}{v} + v = 2, \quad 3u^2 + v^2 = 2v, \quad 3u^2 + (v-1)^2 = 1$$

ここで、⑤を $u = -\frac{2}{3t + \frac{1}{t}}$ と変形すると、 $3t + \frac{1}{t} \geq 2\sqrt{3}$ から $-\frac{1}{\sqrt{3}} \leq u < 0$ となり、

また⑥から、 $3t^2 + 1 > 1$ より $0 < v < 2$ である。

以上より、点 Q の軌跡は、楕円 $3x^2 + (y-1)^2 = 1$ の第 2 象限の部分である。

コメント

パラメータ表示された点の軌跡の問題です。ただ、軌跡に限界が現れる点には注意が必要です。

問題

座標平面において、円 $x^2 + y^2 = 1$ 上の点 $P(a, b)$ ($0 < b < 1$) における接線を l とし、 l と x 軸の交点を Q とする。点 $R(4, 0)$ と l の距離が 2 であるとき、次の問いに答えよ。

- (1) 点 P の座標 (a, b) を求めよ。
- (2) $\triangle PQR$ の面積を求めよ。

[2010]

解答例

(1) 円 $x^2 + y^2 = 1$ 上の点 $P(a, b)$ における接線 l は、

$$ax + by = 1 \cdots \cdots \textcircled{1}$$

ただし、 $a^2 + b^2 = 1 \cdots \cdots \textcircled{2}$ である。

さて、 $R(4, 0)$ と l の距離が 2 から、 $\textcircled{1}$ より、

$$\frac{|4a - 1|}{\sqrt{a^2 + b^2}} = 2, \quad |4a - 1| = 2\sqrt{a^2 + b^2}$$

$\textcircled{2}$ より、 $|4a - 1| = 2$ となり、 $4a - 1 = \pm 2$, $a = \frac{3}{4}, -\frac{1}{4}$

すると、 $0 < b < 1$ から、 $a = \frac{3}{4}$ のとき $b = \frac{\sqrt{7}}{4}$, $a = -\frac{1}{4}$ のとき $b = \frac{\sqrt{15}}{4}$

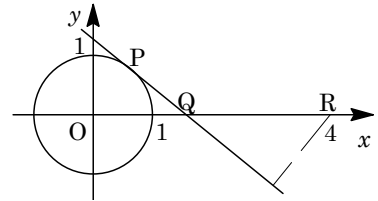
よって、点 P の座標は、 $(\frac{3}{4}, \frac{\sqrt{7}}{4})$ または $(-\frac{1}{4}, \frac{\sqrt{15}}{4})$ である。

(2) $P(a, b)$ のとき、 $\textcircled{1}$ より $Q(\frac{1}{a}, 0)$ となり、 $\textcircled{2}$ から、

$$PQ = \sqrt{(a - \frac{1}{a})^2 + b^2} = \sqrt{a^2 - 2 + \frac{1}{a^2} + 1 - a^2} = \sqrt{\frac{1}{a^2} - 1}$$

(i) $a = \frac{3}{4}$ のとき $\triangle PQR = \frac{1}{2} PQ \cdot 2 = \sqrt{\frac{16}{9} - 1} = \frac{\sqrt{7}}{3}$

(ii) $a = -\frac{1}{4}$ のとき $\triangle PQR = \frac{1}{2} PQ \cdot 2 = \sqrt{16 - 1} = \sqrt{15}$



コメント

円と直線に関する基本題です。計算に複雑なところもありません。

問題

$0 < r < 1$ とし、点 O を原点とする xy 平面において、3 点 $O, A(2, 0), B(0, 2r)$ を頂点とする三角形 OAB と、互いに相似な 3 つの二等辺三角形 $O'AB, A'OB, B'OA$ を考える。ここで、辺 AB, OB, OA はそれぞれの二等辺三角形の底辺であり、点 O' は直線 AB に対して点 O と反対側に、点 A' は第 2 象限に、点 B' は第 4 象限に、それぞれあるとする。 $t = \tan \angle A'OB$ とおく。次の問いに答えよ。

- (1) 点 A', B' の座標を、 r, t の式で表せ。
 - (2) 直線 $AA',$ および直線 BB' の方程式を $ax + by = c$ の形で求めよ。
 - (3) 2 直線 AA' と BB' の交点を $M(x_0, y_0)$ とする。比 $\frac{y_0}{x_0}$ を r, t の式で表せ。
 - (4) 点 O' の座標を r, t の式で表し、3 直線 AA', BB', OO' が 1 点で交わることを示せ。
- [2009]

解答例

- (1) $A'(x_1, y_1), B'(x_2, y_2), \angle A'OB = \theta$ とおくと、

$$x_1 = -r \tan \theta = -rt, \quad y_1 = r$$

$$x_2 = 1, \quad y_2 = -\tan \theta = -t$$

よって、 $A'(-rt, r), B'(1, -t)$

- (2) $\overrightarrow{AA'} = (-rt - 2, r)$ より、直線 AA' の法線ベクトルの成分を $(r, rt + 2)$ 、 $\overrightarrow{BB'} = (1, -2r - t)$ より、直線 BB' の法線ベクトルの成分を $(2r + t, 1)$ とすることができる。

これより、直線 AA', BB' の方程式は、

$$AA' : r(x - 2) + (rt + 2)y = 0, \quad rx + (rt + 2)y = 2r \dots\dots\dots \textcircled{1}$$

$$BB' : (2r + t)x + (y - 2r) = 0, \quad (2r + t)x + y = 2r \dots\dots\dots \textcircled{2}$$

- (3) 2 直線 AA' と BB' の交点が $M(x_0, y_0)$ より、 $\textcircled{1}\textcircled{2}$ から、

$$rx_0 + (rt + 2)y_0 = 2r \dots\dots\dots \textcircled{3}, \quad (2r + t)x_0 + y_0 = 2r \dots\dots\dots \textcircled{4}$$

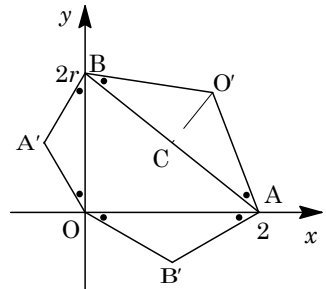
$\textcircled{3}\textcircled{4}$ より、 $(-r - t)x_0 + (rt + 1)y_0 = 0, (r + t)x_0 = (rt + 1)y_0$ となり、

$$\frac{y_0}{x_0} = \frac{r + t}{rt + 1}$$

- (4) まず、辺 AB の中点を C とすると $C(1, r)$ となり、 $AC = \sqrt{1 + r^2}$ から、

$$CO' = AC \tan \theta = t \sqrt{1 + r^2}$$

また、 $\overrightarrow{AB} = -2(1, -r)$ より、直線 AB の法線ベクトルの成分を $(r, 1)$ とすることができる。



$$\overrightarrow{OO'} = \overrightarrow{OC} + \overrightarrow{CO'} = (1, r) + t\sqrt{1+r^2} \cdot \frac{1}{\sqrt{r^2+1}}(r, 1) = (rt+1, r+t)$$

これより、 $O'(rt+1, r+t)$ となり、直線 OO' の方程式は $y = \frac{r+t}{rt+1}x$ である。

よって、(3)から、直線 OO' 上に 2 直線 AA' と BB' の交点 $M(x_0, y_0)$ が存在することになる。すなわち、3 直線 AA' 、 BB' 、 OO' は 1 点で交わる。

コメント

座標平面上の図形を題材とした頻出題です。ベクトルの利用によって、計算量を減らすことがポイントです。

問題

xy 平面において、原点 O を中心とする半径 1 の円を C とする。 a を正の実数とし、点 $A(0, 1)$ を通り、傾き a の直線を l とする。 C と l の交点で、 A と異なるものを P とし、 l と直線 $y = -2$ の交点を Q とする。また、 P における C の接線を m とし、 m と直線 $y = -2$ の交点を R とする。次の問いに答えよ。

- (1) 直線 m の方程式を a を用いて表せ。
 - (2) a が正の値をとって動くとき、線分 QR の長さの最小値と、そのときの a の値を求めよ。
 - (3) (2) で求めた a の値に対して、点 A を通り、 $\angle QAR$ を二等分する直線の方程式を求めよ。
- [2008]

解答例

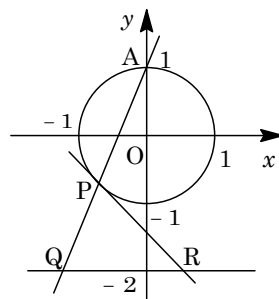
- (1) $C : x^2 + y^2 = 1 \cdots \cdots \textcircled{1}$ と $l : y = ax + 1 \cdots \cdots \textcircled{2}$ の交点は、

$$x^2 + (ax + 1)^2 = 1, \quad (a^2 + 1)x^2 + 2ax = 0$$

$$x \neq 0 \text{ の解は, } x = -\frac{2a}{a^2 + 1}$$

$$\textcircled{2} \text{ より, } y = -\frac{2a^2}{a^2 + 1} + 1 = \frac{-a^2 + 1}{a^2 + 1}$$

よって、 $P\left(-\frac{2a}{a^2 + 1}, \frac{-a^2 + 1}{a^2 + 1}\right)$ となり、点 P における円



$\textcircled{1}$ の接線 m の方程式は、

$$-\frac{2a}{a^2 + 1}x + \frac{-a^2 + 1}{a^2 + 1}y = 1, \quad -2ax + (-a^2 + 1)y = a^2 + 1 \cdots \cdots \textcircled{3}$$

- (2) $\textcircled{2}$ において、 $y = -2$ とすると $x = -\frac{3}{a}$ から、 $Q\left(-\frac{3}{a}, -2\right)$

$$\textcircled{3} \text{ において、} y = -2 \text{ とすると } x = \frac{a^2 - 3}{2a} \text{ から、} R\left(\frac{a^2 - 3}{2a}, -2\right)$$

ここで、相加平均と相乗平均の関係を用いると、

$$QR = \left| \frac{a^2 - 3}{2a} + \frac{3}{a} \right| = \frac{a^2 + 3}{2a} = \frac{1}{2} \left(a + \frac{3}{a} \right) \geq \sqrt{a \cdot \frac{3}{a}} = \sqrt{3}$$

ここで、等号が成立するのは、 $a = \frac{3}{a}$ ($a = \sqrt{3}$) のときである。

よって、線分 QR の長さは、 $a = \sqrt{3}$ のとき最小値 $\sqrt{3}$ をとる。

- (3) $a = \sqrt{3}$ のとき、 $\textcircled{2}$ より、直線 $AQ : \sqrt{3}x - y + 1 = 0$

また、 $R(0, -2)$ から、直線 $AR : x = 0$

すると、 $\angle QAR$ の二等分線は、2 直線 AQ, AR から等距離にあることより、

$$\frac{|\sqrt{3}x - y + 1|}{\sqrt{(\sqrt{3})^2 + 1}} = |x|, \quad \sqrt{3}x - y + 1 = \pm 2x$$

$\angle QAR$ の二等分線の傾きは正より, $y = (2 + \sqrt{3})x + 1$

コメント

(3)では, 線分 QR を $AQ : AR$ の比に内分する点を求め, 内角の二等分線の定理を利用しても OK です。

問題

関数 $f(\theta) = \sin \theta + \cos \theta + 2\sqrt{2} \sin \theta \cos \theta$ ($0 \leq \theta < 2\pi$) に対して、以下の問いに答えよ。

- (1) $t = \sin \theta + \cos \theta$ とおくとき、 $f(\theta)$ を t で表せ。また t のとりうる値の範囲を求めよ。
- (2) $f(\theta) = 0$ を満たす θ をすべて求めよ。
- (3) $f(\theta) = a$ を満たす θ がちょうど 2 個となるような定数 a の値の範囲を求めよ。

[2003]

解答例

- (1) $t = \sin \theta + \cos \theta$ より、 $t^2 = 1 + 2 \sin \theta \cos \theta$ 、 $2 \sin \theta \cos \theta = t^2 - 1$ なので、

$$f(\theta) = t + \sqrt{2}(t^2 - 1) = \sqrt{2}t^2 + t - \sqrt{2}$$
 また、 $0 \leq \theta < 2\pi$ のとき、 $t = \sqrt{2} \sin(\theta + \frac{\pi}{4})$ から $-\sqrt{2} \leq t \leq \sqrt{2}$ である。
- (2) $f(\theta) = 0$ から $\sqrt{2}t^2 + t - \sqrt{2} = 0$ 、 $(\sqrt{2}t - 1)(t + \sqrt{2}) = 0$ より、 $t = \frac{1}{\sqrt{2}}$ 、 $-\sqrt{2}$
 - (i) $t = \frac{1}{\sqrt{2}}$ のとき、 $\sqrt{2} \sin(\theta + \frac{\pi}{4}) = \frac{1}{\sqrt{2}}$ 、 $\sin(\theta + \frac{\pi}{4}) = \frac{1}{2}$
 すると、 $\theta + \frac{\pi}{4} = \frac{5}{6}\pi$ 、 $2\pi + \frac{1}{6}\pi$ より、 $\theta = \frac{7}{12}\pi$ 、 $\frac{23}{12}\pi$
 - (ii) $t = -\sqrt{2}$ のとき、 $\sqrt{2} \sin(\theta + \frac{\pi}{4}) = -\sqrt{2}$ 、 $\sin(\theta + \frac{\pi}{4}) = -1$
 すると、 $\theta + \frac{\pi}{4} = \frac{3}{2}\pi$ より、 $\theta = \frac{5}{4}\pi$
- (i)(ii)より、 $\theta = \frac{7}{12}\pi$ 、 $\frac{5}{4}\pi$ 、 $\frac{23}{12}\pi$
- (3) $t = \sqrt{2} \sin(\theta + \frac{\pi}{4})$ ($0 \leq \theta < 2\pi$) より、 $t = \pm\sqrt{2}$ のとき θ は 1 個、 $-\sqrt{2} < t < \sqrt{2}$ のとき θ は 2 個存在する。

さて、 $\sqrt{2}t^2 + t - \sqrt{2} = a$ を満たす t の個数は、放物線 $y = \sqrt{2}t^2 + t - \sqrt{2}$ と直線 $y = a$ の共有点の個数に一致する。

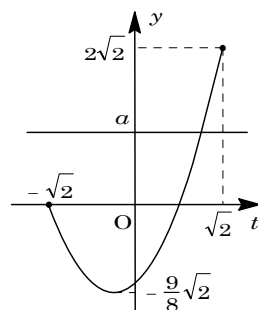
この放物線を $y = \sqrt{2}(t + \frac{\sqrt{2}}{4})^2 - \frac{9}{8}\sqrt{2}$ と変形すると、

$$a = -\frac{9}{8}\sqrt{2}, 0 < a \leq 2\sqrt{2} \text{ のとき } t \text{ は } 1 \text{ 個}, -\frac{9}{8}\sqrt{2} < a \leq 0$$

のとき t は 2 個存在する。

よって、 $f(\theta) = a$ を満たす θ がちょうど 2 個となるのは、

$$a = -\frac{9}{8}\sqrt{2}, 0 < a < 2\sqrt{2} \text{ のときである。}$$



コメント

三角方程式の解の個数についての頻出問題です。グラフを書いて処理をしています。

問題

a を実数の定数とする。 x の 2 次方程式 $x^2 + (a-1)x + a+2 = 0 \cdots \cdots (*)$ について、次の問いに答えよ。

- (1) 2 次方程式(*)が $0 \leq x \leq 2$ の範囲には実数解をただ 1 つもつとき、 a の値の範囲を求めよ。
- (2) $-2 \leq a \leq -1$ のとき、2 次方程式(*)の実数解 x のとりうる値の範囲を求めよ。

[2000]

解答例

(1) $x^2 + (a-1)x + a+2 = 0 \cdots \cdots (*)$ より、 $a(x+1) = -x^2 + x - 2$

$y = a(x+1) \cdots \cdots \textcircled{1}$, $y = -x^2 + x - 2 \cdots \cdots \textcircled{2}$

ここで、 $\textcircled{1}$ は点 $(-1, 0)$ を通る傾き a の直線を表し、また $\textcircled{2}$ は $y = -\left(x - \frac{1}{2}\right)^2 - \frac{7}{4}$ と変形すると、頂点 $\left(\frac{1}{2}, -\frac{7}{4}\right)$ の放物線を表す。

さて、 $\textcircled{1}$ が点 $(0, -2)$ を通るとき $a = -2$ となり、 $\textcircled{1}$ が点 $(2, -4)$ を通るとき $a = -\frac{4}{3}$ となる。

さらに、 $\textcircled{1}$ と $\textcircled{2}$ が接するとき、2 次方程式(*)の判別式 $D = (a-1)^2 - 4(a+2) = 0$ から、

$$a^2 - 6a - 7 = 0, \quad a = 7, -1$$

以上より、(*)の実数解は、 $\textcircled{1}$ と $\textcircled{2}$ の共有点の x 座標となることを利用すると、 $0 \leq x \leq 2$ の範囲に実数解をただ 1 つもつ条件は、

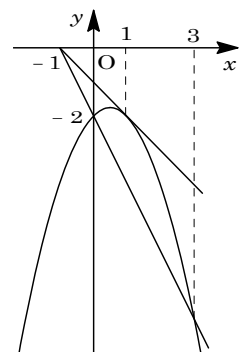
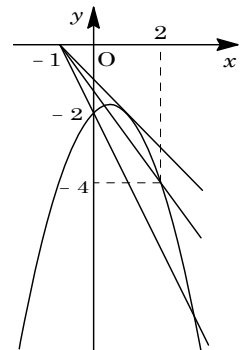
$$-2 \leq a < -\frac{4}{3}, \quad a = -1$$

(2) $a = -1$ のとき、(1)より(*)は重解をもち、その解は、

$$x = -\frac{a-1}{2} = 1$$

$a = -2$ のとき、(*)は $x^2 - 3x = 0$ から、 $x = 0, 3$

したがって、 $-2 \leq a \leq -1$ のとき、2 次方程式(*)の実数解のとりうる値の範囲は、 $0 \leq x \leq 3$ となる。



コメント

与えられた 2 次方程式(*)が、パラメータ a についての 1 次式なので、直線と放物線の共有点として解をとらえました。

問題

k は $k > 0$, $k \neq 1$ をみたし, θ は $0 \leq \theta \leq \frac{\pi}{6}$ をみたす実数とする。次の問いに答えよ。

- (1) 座標平面上で, 2 定点 $A(0, 1)$, $B(\cos \theta, \sin \theta)$ からの距離の比が $1 : k$ であるような点の軌跡は円になることを示し, その中心 (X, Y) および半径 r を k と θ を用いて表せ。
- (2) θ は固定したままで, k のみを与えられた範囲で動かすとき, (X, Y) のえがく軌跡を求めよ。
- (3) k, θ を与えられた範囲でともに動かすとき, (X, Y) の存在する領域を図示せよ。

[1998]

解答例

- (1) $PA : PB = 1 : k$ より, $PB^2 = k^2 PA^2$

$$(x - \cos \theta)^2 + (y - \sin \theta)^2 = k^2 \{x^2 + (y - 1)^2\}$$

まとめて, $x^2 + y^2 + \frac{2 \cos \theta}{k^2 - 1} x + \frac{2(\sin \theta - k^2)}{k^2 - 1} y + 1 = 0$

$$\left(x + \frac{\cos \theta}{k^2 - 1}\right)^2 + \left(y + \frac{\sin \theta - k^2}{k^2 - 1}\right)^2 = \frac{2k^2(1 - \sin \theta)}{(k^2 - 1)^2}$$

よって, $(X, Y) = \left(-\frac{\cos \theta}{k^2 - 1}, -\frac{\sin \theta - k^2}{k^2 - 1}\right)$, $r = \frac{\sqrt{2k^2(1 - \sin \theta)}}{|k^2 - 1|}$

- (2) (1)より, $X = -\frac{\cos \theta}{k^2 - 1}$ ①, $Y = -\frac{\sin \theta - k^2}{k^2 - 1}$ ②

①より, $0 \leq \theta \leq \frac{\pi}{6}$ なので $X \neq 0$ から, $k^2 = 1 - \frac{\cos \theta}{X}$ ③

②より, $Y(k^2 - 1) = -(\sin \theta - k^2)$

③を代入して, $Y \cdot \left(-\frac{\cos \theta}{X}\right) = -\sin \theta + \left(1 - \frac{\cos \theta}{X}\right)$

$$Y = \frac{\sin \theta - 1}{\cos \theta} X + 1$$
④

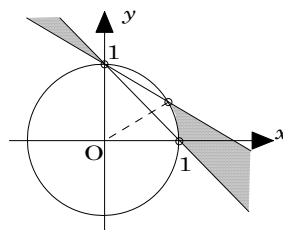
ただし, $k > 0$ なので, ③から $1 - \frac{\cos \theta}{X} > 0$

$$\frac{X - \cos \theta}{X} > 0, \cos \theta > 0 \text{ から, } X < 0, \cos \theta < X$$

また, $\frac{\cos \theta}{X} \neq 0$ から, $k \neq 1$ は成立する。

よって点 (X, Y) の軌跡は, 2 本の半直線 $y = \frac{\sin \theta - 1}{\cos \theta} x + 1$ ($x < 0, \cos \theta < x$)

- (3) ④は 2 点 $(0, 1)$, $(\cos \theta, \sin \theta)$ を通る直線で,
 $X < 0$, $\cos \theta < X$ から, $0 \leq \theta \leq \frac{\pi}{6}$ に考慮すると, 求
 める (X, Y) の存在する領域は, 右図のようになる。
 ただし, 円周上以外の境界線は含む。



コメント

(3)の存在領域を求めるのに, (2)が適切な誘導となっています。直線④が 2 点 $A(0, 1)$, $B(\cos \theta, \sin \theta)$ をつねに通るということを発見するのがポイントです。

問題

xy 平面上の円 $C: x^2 + y^2 = 3$ 上に 2 点 $A(0, \sqrt{3})$, $B(0, -\sqrt{3})$ がある。点 $P(0, \sqrt{2})$ を通る直線と円 C の交点を Q, R とする。ただし、点 R は第 1 象限にあり、 $\angle APR = \theta$ ($0 < \theta < \frac{\pi}{2}$) とする。このとき、次の問いに答えよ。

- (1) 原点 O から線分 QR へ垂線をひき QR との交点を S とする。線分 OS , QR の長さをそれぞれ θ を用いて表せ。
- (2) $\triangle AQB$ と $\triangle ABR$ の面積をそれぞれ T_1 , T_2 とする。 $T_1 = \sqrt{3} QP \sin \theta$, $T_2 = \sqrt{3} PR \sin \theta$ が成り立つことを示し、四角形 $AQBR$ の面積 $S(\theta)$ を求めよ。
- (3) (2) の $S(\theta)$ に対して、 $2\sqrt{3} < S(\theta)$ を満たす θ の値の範囲を求めよ。 [2006]

解答例

(1) $0 < \theta < \frac{\pi}{2}$ より、 $OS = OP \sin \theta = \sqrt{2} \sin \theta$

また、 $SR = \sqrt{OR^2 - OS^2} = \sqrt{3 - 2\sin^2 \theta}$ より、

$$QR = 2SR = 2\sqrt{3 - 2\sin^2 \theta}$$

(2) $T_1 = \triangle AQB$, $T_2 = \triangle ABR$ なので、

$$\begin{aligned} T_1 &= \frac{1}{2} QP \cdot AP \sin(\pi - \theta) + \frac{1}{2} QP \cdot PB \sin \theta \\ &= \frac{1}{2} QP (AP + PB) \sin \theta = \frac{1}{2} QP \cdot 2\sqrt{3} \sin \theta \\ &= \sqrt{3} QP \sin \theta \end{aligned}$$

$$\begin{aligned} T_2 &= \frac{1}{2} PR \cdot AP \sin \theta + \frac{1}{2} PR \cdot PB \sin(\pi - \theta) = \frac{1}{2} PR (AP + PB) \sin \theta \\ &= \frac{1}{2} PR \cdot 2\sqrt{3} \sin \theta = \sqrt{3} PR \sin \theta \end{aligned}$$

よって、四角形 $AQBR$ の面積 $S(\theta)$ は、(1) より、

$$S(\theta) = T_1 + T_2 = \sqrt{3} (QP + PR) \sin \theta = \sqrt{3} QR \sin \theta = 2\sqrt{3} \sqrt{3 - 2\sin^2 \theta} \sin \theta$$

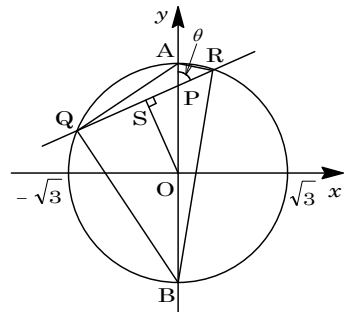
(3) $2\sqrt{3} < S(\theta)$ より、 $1 < \sqrt{3 - 2\sin^2 \theta} \sin \theta$ となり、 $1 < (3 - 2\sin^2 \theta) \sin^2 \theta$

$$2\sin^4 \theta - 3\sin^2 \theta + 1 < 0, (2\sin^2 \theta - 1)(\sin^2 \theta - 1) < 0$$

$$(\sqrt{2} \sin \theta + 1)(\sqrt{2} \sin \theta - 1)(\sin \theta + 1)(\sin \theta - 1) < 0$$

ここで、 $0 < \theta < \frac{\pi}{2}$ なので、 $\sqrt{2} \sin \theta - 1 > 0$ と同値になる。

よって、 $\sin \theta > \frac{1}{\sqrt{2}}$ から、 $\frac{\pi}{4} < \theta < \frac{\pi}{2}$ である。



コメント

四角形の面積は、2本の対角線の長さとそのなす角を用いて表すことができます。

(1)と(2)は、この公式を誘導する設問です。

問題

三角形 ABC において $\angle ABC = 45^\circ$ であり、また辺 BC 上にある点 D は $BD = 1$, $CD = \sqrt{3} - 1$, $\angle ADB = \angle ACB + 15^\circ$, $\angle ADB \geq 90^\circ$ を満たすとする。次の問いに答えよ。

(1) $\sin 15^\circ = \frac{\sqrt{6} - \sqrt{2}}{4}$ を示せ。

(2) $\angle ACB$ の大きさを求めよ。

[1999]

解答例

(1) $\sin 15^\circ = \sin(60^\circ - 45^\circ) = \sin 60^\circ \cos 45^\circ - \cos 60^\circ \sin 45^\circ$
 $= \frac{\sqrt{3}}{2} \cdot \frac{\sqrt{2}}{2} - \frac{1}{2} \cdot \frac{\sqrt{2}}{2} = \frac{\sqrt{6} - \sqrt{2}}{4}$

(2) $\angle ACB = \theta$ とおくと、 $\angle BAD = 120^\circ - \theta$ となる。

$\triangle ABD$ に正弦定理を適用して、 $\frac{1}{\sin(120^\circ - \theta)} = \frac{AD}{\sin 45^\circ}$

$$AD = \frac{\sin 45^\circ}{\sin(120^\circ - \theta)} = \frac{1}{\sqrt{2} \sin(120^\circ - \theta)} \dots\dots\dots \textcircled{1}$$

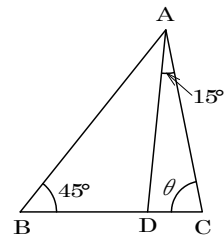
$\triangle ADC$ に正弦定理を適用して、 $\frac{AD}{\sin \theta} = \frac{\sqrt{3} - 1}{\sin 15^\circ}$

$$AD = \frac{(\sqrt{3} - 1) \sin \theta}{\sin 15^\circ} = \frac{4 \sin \theta}{\sqrt{2}} \dots\dots\dots \textcircled{2}$$

①②より、 $\frac{1}{\sqrt{2} \sin(120^\circ - \theta)} = \frac{4 \sin \theta}{\sqrt{2}}$, $\sin \theta \sin(120^\circ - \theta) = \frac{1}{4}$

$$-\frac{1}{2} \{ \cos 120^\circ - \cos(2\theta - 120^\circ) \} = \frac{1}{4}, \cos(2\theta - 120^\circ) = 0$$

ここで $\theta > 0^\circ$, $120^\circ - \theta > 0^\circ$, また条件より $\theta + 15^\circ \geq 90^\circ$ なので、 $75^\circ \leq \theta < 120^\circ$ よって、 $2\theta - 120^\circ = 90^\circ$, $\theta = \angle ACB = 105^\circ$



コメント

正弦定理の応用問題です。なお、 $\triangle ABC$ は計算の結果では鈍角三角形となり、上の解に書いた図とは異なりますが、題意を図示すると、まずこのように書くのではないかと思い、敢えてそのままにしています。

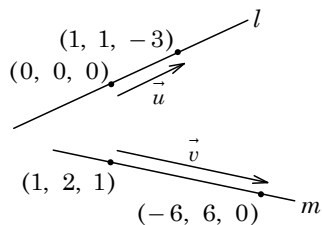
問題

座標空間において、原点 $(0, 0, 0)$ と点 $(1, 1, -3)$ を通る直線を l , 2 つの点 $(-6, 6, 0)$, $(1, 2, 1)$ を通る直線を m とする。直線 l 上の点 P と直線 m 上の点 Q を、直線 PQ が直線 l, m のいずれにも直交するようにとる。次の問いに答えよ。

- (1) $|\overline{PQ}|$ を求めよ。
- (2) A を直線 l 上の点, B を直線 m 上の点とする。ただし, $A \neq P$ とする。このとき, $\angle APB = \frac{\pi}{2}$ であることを示せ。
- (3) 直線 l 上の 2 点 A, C をそれらの中点が P となるようにとる。同様に, 直線 m 上の 2 点 B, D をそれらの中点が Q となるようにとる。 $|\overline{PA}| = a$, $|\overline{QB}| = b$ のとき, 三角形 BDP の面積と四面体 $ABCD$ の体積を求めよ。 [2018]

解答例

- (1) 直線 l の方向ベクトル $\vec{u} = (1, 1, -3)$, 直線 m の方向ベクトル $\vec{v} = (-6-1, 6-2, -1) = (-7, 4, -1)$ とすると, t, s を実数として,



$$l: (x, y, z) = t(1, 1, -3)$$

$$m: (x, y, z) = (1, 2, 1) + s(-7, 4, -1)$$

条件より, 点 P は直線 l 上に, 点 Q は直線 m 上にあるので, $P(t, t, -3t)$, $Q(1-7s, 2+4s, 1-s)$ と表せ,

$$\overline{PQ} = (1-7s-t, 2+4s-t, 1-s+3t)$$

すると, 直線 PQ が直線 l, m のいずれにも直交することより,

$$\overline{PQ} \cdot \vec{u} = (1-7s-t) + (2+4s-t) - 3(1-s+3t) = -11t = 0$$

$$\overline{PQ} \cdot \vec{v} = -7(1-7s-t) + 4(2+4s-t) - (1-s+3t) = 66s = 0$$

よって, $t = s = 0$ となり, $\overline{PQ} = (1, 2, 1)$ から $|\overline{PQ}| = \sqrt{1+4+1} = \sqrt{6}$ である。

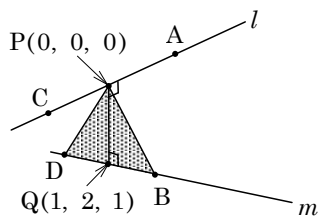
- (2) 点 A は直線 l 上, 点 B は直線 m 上にあるので, $a(a \neq 0)$, b を実数として, $\overline{PA} = a\vec{u}$, $\overline{QB} = b\vec{v}$ とおくと, (1) から,

$$\overline{PA} \cdot \overline{PB} = \overline{PA} \cdot (\overline{PQ} + \overline{QB}) = a\vec{u} \cdot \overline{PQ} + a\vec{u} \cdot b\vec{v} = ab\vec{u} \cdot \vec{v} = ab(-7+4+3) = 0$$

よって, $\angle APB = \frac{\pi}{2}$ となる。

- (3) 直線 l 上の 2 点 A, C の中点が P , 直線 m 上の 2 点 B, D の中点が Q で, $|\overline{PA}| = a$, $|\overline{QB}| = b$ より, $\triangle BDP$ の面積 S は, (1) より,

$$S = \frac{1}{2} BD \cdot PQ = \frac{1}{2} \cdot 2b \cdot \sqrt{6} = \sqrt{6}b$$



また, (2)より, $\angle APB = \frac{\pi}{2}$ かつ $\angle APD = \frac{\pi}{2}$ となるので, 直線 l は $\triangle BDP$ を含む平面に垂直になり, 四面体 $ABCD$ の体積 V は,

$$V = \frac{1}{3} S \cdot PA + \frac{1}{3} S \cdot PB = \frac{1}{3} \cdot \sqrt{6}b \cdot 2a = \frac{2}{3} \sqrt{6} ab$$

コメント

空間図形に関する標準的な問題です。誘導が丁寧で, しかも数値に配慮があるため, 計算量はそれほどでもありません。

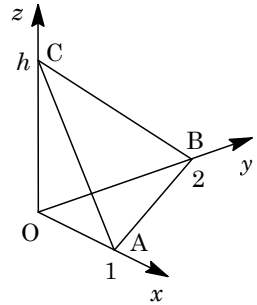
問題

四面体 $OABC$ において、3つのベクトル \overrightarrow{OA} , \overrightarrow{OB} , \overrightarrow{OC} はどの2つも互いに垂直であり、 $h > 0$ に対して、 $|\overrightarrow{OA}| = 1$, $|\overrightarrow{OB}| = 2$, $|\overrightarrow{OC}| = h$ とする。3点 O, A, B を通る平面上の点 P は、 \overrightarrow{CP} が \overrightarrow{CA} と \overrightarrow{CB} のどちらとも垂直となる点であるとする。次の問いに答えよ。

- (1) $\overrightarrow{OP} = \alpha \overrightarrow{OA} + \beta \overrightarrow{OB}$ とするとき、 α と β を h を用いて表せ。
- (2) 直線 OP と直線 AB が直交していることを示せ。
- (3) $\triangle PAB$ は、辺 AB を底辺とする二等辺三角形ではないことを示せ。 [2015]

解答例

- (1) 条件より、 \overrightarrow{OA} , \overrightarrow{OB} , \overrightarrow{OC} は、どの2つも互いに垂直であり、 $|\overrightarrow{OA}| = 1$, $|\overrightarrow{OB}| = 2$, $|\overrightarrow{OC}| = h$ ($h > 0$) なので、右図のように、点 O を原点としてとり、 $A(1, 0, 0)$, $B(0, 2, 0)$, $C(0, 0, h)$ とおくことができる。



これより、 $\overrightarrow{OP} = \alpha \overrightarrow{OA} + \beta \overrightarrow{OB} = (\alpha, 2\beta, 0)$ となり、

$$\overrightarrow{CP} = (\alpha, 2\beta, -h)$$

また、 $\overrightarrow{CA} = (1, 0, -h)$, $\overrightarrow{CB} = (0, 2, -h)$ である。

すると、条件から、 $\overrightarrow{CP} \cdot \overrightarrow{CA} = 0$, $\overrightarrow{CP} \cdot \overrightarrow{CB} = 0$ となるので、

$$\alpha + h^2 = 0, \quad 4\beta + h^2 = 0$$

よって、 $\alpha = -h^2$, $\beta = -\frac{1}{4}h^2$ である。

- (2) (1)より、 $\overrightarrow{OP} = (-h^2, -\frac{1}{2}h^2, 0) = -\frac{h^2}{2}(2, 1, 0)$

また、 $\overrightarrow{AB} = (-1, 2, 0)$ より、 $\overrightarrow{OP} \cdot \overrightarrow{AB} = -\frac{h^2}{2}(-2 + 2 + 0) = 0$

よって、直線 OP と直線 AB は直交している。

- (3) 線分 AB の中点を M とすると、 $\overrightarrow{OM} = \frac{\overrightarrow{OA} + \overrightarrow{OB}}{2} = (\frac{1}{2}, 1, 0)$

すると、 \overrightarrow{OP} は \overrightarrow{OM} の定数倍とはならないので、3点 O, P, M は同一直線上にない。すなわち、点 P は線分 AB の垂直二等分線上の点ではない。

よって、 $\triangle PAB$ は、辺 AB を底辺とする二等辺三角形ではない。

コメント

与えられた条件から、座標系を設定しています。すると、続きは成分計算となります。なお、普通に計算していても、記述量はやや多くなる程度です。

問題

a を実数とする。このとき、座標空間内の球面 $S: x^2 + y^2 + z^2 = 1$ と直線 $l: (x, y, z) = (2, -1, 0) + t(-1, a, a)$ について、次の問いに答えよ。

- (1) S と l が異なる 2 点で交わるような a の値の範囲を求めよ。
- (2) a の値が(1)で求めた範囲にあるとき、 S と l の 2 つの交点の間の距離 d を a を用いて表せ。
- (3) (2)の d が最大となるような実数 a の値とそのときの d を求めよ。 [2014]

解答例

(1) $S: x^2 + y^2 + z^2 = 1$ ……①, $l: (x, y, z) = (2, -1, 0) + t(-1, a, a)$ ……②

①②を連立すると、 $(2-t)^2 + (-1+at)^2 + (at)^2 = 1$ となり、

$$(2a^2 + 1)t^2 - 2(a+2)t + 4 = 0 \text{ ……③}$$

③が異なる 2 実数解をもつことより、 $D/4 = (a+2)^2 - 4(2a^2 + 1) > 0$ となり、

$$-7a^2 + 4a > 0, \quad 0 < a < \frac{4}{7}$$

(2) ③の解 $t = \frac{a+2 \pm \sqrt{-7a^2 + 4a}}{2a^2 + 1}$ を $t = \alpha, \beta (\alpha < \beta)$ とおくと、交点 P, Q は、

$$\overrightarrow{OP} = (2, -1, 0) + \alpha(-1, a, a), \quad \overrightarrow{OQ} = (2, -1, 0) + \beta(-1, a, a)$$

すると、 $d = |\overrightarrow{PQ}| = (\beta - \alpha)|(-1, a, a)|$ となり、

$$d = \frac{2\sqrt{-7a^2 + 4a}}{2a^2 + 1} \cdot \sqrt{(-1)^2 + a^2 + a^2} = 2\sqrt{\frac{-7a^2 + 4a}{2a^2 + 1}}$$

(3) $f(a) = \frac{-7a^2 + 4a}{2a^2 + 1}$ とおくと、 $d = 2\sqrt{f(a)}$ となり、

$$f'(a) = \frac{(-14a + 4)(2a^2 + 1) - (-7a^2 + 4a) \cdot 4a}{(2a^2 + 1)^2}$$

$$= \frac{-2(4a^2 + 7a - 2)}{(2a^2 + 1)^2}$$

$$= \frac{-2(4a - 1)(a + 2)}{(2a^2 + 1)^2}$$

すると、 $f(a)$ の増減は右表のようになり、

a	0	…	$\frac{1}{4}$		$\frac{4}{7}$
$f'(a)$		+	0	-	
$f(a)$		↗	$\frac{1}{2}$	↘	

$a = \frac{1}{4}$ のとき d は最大値 $2\sqrt{\frac{1}{2}} = \sqrt{2}$ をとる。

コメント

空間図形に関する基本的な問題です。誘導に従っていけば、上の解答例になるでしょう。

問題

正の実数 a, b, c に対して、 O を原点とする座標空間に 3 点 $A(a, 0, 0)$, $B(0, b, 0)$, $C(0, 0, c)$ がある。 $AC = 2$, $BC = 3$ かつ $\triangle ABC$ の面積が $\frac{3\sqrt{3}}{2}$ となるとき、次の問いに答えよ。

- (1) $\sin \angle ACB$ の値を求めよ。また、線分 AB の長さを求めよ。
 - (2) a, b, c の値を求めよ。
 - (3) 四面体 $OABC$ の体積を求めよ。また、原点 O から $\triangle ABC$ に下ろした垂線の長さを求めよ。
- [2013]

解答例

- (1) $AC = 2$, $BC = 3$, $\triangle ABC = \frac{3\sqrt{3}}{2}$ より、

$$\frac{1}{2} \cdot 2 \cdot 3 \sin \angle ACB = \frac{3\sqrt{3}}{2}, \quad \sin \angle ACB = \frac{\sqrt{3}}{2}$$

$\angle ACB < \frac{\pi}{2}$ より、 $\angle ACB = \frac{\pi}{3}$ となり、

$$AB^2 = 2^2 + 3^2 - 2 \cdot 2 \cdot 3 \cos \frac{\pi}{3} = 4 + 9 - 6 = 7$$

よって、 $AB = \sqrt{7}$ である。

- (2) $AB = \sqrt{7}$, $BC = 3$, $AC = 2$ より、

$$a^2 + b^2 = 7 \cdots \cdots \textcircled{1}, \quad b^2 + c^2 = 9 \cdots \cdots \textcircled{2}, \quad c^2 + a^2 = 4 \cdots \cdots \textcircled{3}$$

$$\textcircled{1}\textcircled{2}\textcircled{3} \text{より}, \quad a^2 + b^2 + c^2 = 10 \cdots \cdots \textcircled{4}$$

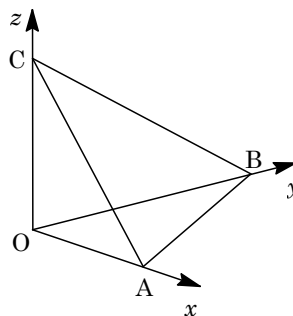
$$\textcircled{2}\textcircled{4} \text{より } a^2 = 1, \quad \textcircled{3}\textcircled{4} \text{より } b^2 = 6, \quad \textcircled{1}\textcircled{4} \text{より } c^2 = 3 \text{ となり,}$$

$$a = 1, \quad b = \sqrt{6}, \quad c = \sqrt{3}$$

- (3) 四面体 $OABC$ の体積を V , O から $\triangle ABC$ に下ろした垂線の長さを h とすると、

$$V = \frac{1}{3} \cdot \frac{1}{2} \cdot 1 \cdot \sqrt{6} \cdot \sqrt{3} = \frac{\sqrt{2}}{2}, \quad V = \frac{1}{3} \cdot \frac{3\sqrt{3}}{2} h = \frac{\sqrt{3}}{2} h$$

$$\text{よって, } \frac{\sqrt{3}}{2} h = \frac{\sqrt{2}}{2} \text{ より, } h = \frac{\sqrt{6}}{3}$$



コメント

空間座標の基本的な計算問題です。ただ、それだけです。

問題

直線 $l: (x, y, z) = (5, 0, 0) + s(1, -1, 0)$ 上に点 P_0 , 直線 $m: (x, y, z) = (0, 0, 2) + t(1, 0, 2)$ 上に点 Q_0 があり, $\overrightarrow{P_0Q_0}$ はベクトル $(1, -1, 0)$ と $(1, 0, 2)$ の両方に垂直である。次の問いに答えよ。

- (1) P_0, Q_0 の座標を求めよ。
- (2) $|\overrightarrow{P_0Q_0}|$ を求めよ。
- (3) 直線 l 上の点 P , 直線 m 上の点 Q について, \overrightarrow{PQ} を $\overrightarrow{PP_0}, \overrightarrow{P_0Q_0}, \overrightarrow{Q_0Q}$ で表せ。
また, $|\overrightarrow{PQ}|^2 = |\overrightarrow{PP_0} + \overrightarrow{Q_0Q}|^2 + 16$ であることを示せ。 [2012]

解答例

- (1) 点 P_0 は, 直線 $l: (x, y, z) = (5, 0, 0) + s(1, -1, 0)$ 上にあり, また点 Q_0 は, 直線 $m: (x, y, z) = (0, 0, 2) + t(1, 0, 2)$ 上にあるので, $P_0(5+s, -s, 0), Q_0(t, 0, 2+2t)$ と表せる。

すると, $\overrightarrow{P_0Q_0} = (t-s-5, s, 2+2t)$ となり, $\vec{l} = (1, -1, 0), \vec{m} = (1, 0, 2)$ とおくと, 条件より, $\vec{l} \perp \overrightarrow{P_0Q_0}$ かつ $\vec{m} \perp \overrightarrow{P_0Q_0}$ なので,

$$\vec{l} \cdot \overrightarrow{P_0Q_0} = t-s-5-s = t-2s-5 = 0 \cdots \cdots \textcircled{1}$$

$$\vec{m} \cdot \overrightarrow{P_0Q_0} = t-s-5+4+4t = 5t-s-1 = 0 \cdots \cdots \textcircled{2}$$

①②より, $t = -\frac{1}{3}, s = -\frac{8}{3}$ となり, $P_0\left(\frac{7}{3}, \frac{8}{3}, 0\right), Q_0\left(-\frac{1}{3}, 0, \frac{4}{3}\right)$ である。

- (2) (1)より, $\overrightarrow{P_0Q_0} = \left(-\frac{8}{3}, -\frac{8}{3}, \frac{4}{3}\right) = \frac{4}{3}(-2, -2, 1)$ なので,

$$|\overrightarrow{P_0Q_0}| = \frac{4}{3}\sqrt{(-2)^2 + (-2)^2 + 1^2} = 4$$

- (3) $\overrightarrow{PQ} = \overrightarrow{PP_0} + \overrightarrow{P_0Q_0} + \overrightarrow{Q_0Q}$ となり, (1)から, $\overrightarrow{PP_0} \cdot \overrightarrow{P_0Q_0} = \overrightarrow{Q_0Q} \cdot \overrightarrow{P_0Q_0} = 0$ なので,

$$\begin{aligned} |\overrightarrow{PQ}|^2 &= |\overrightarrow{PP_0} + \overrightarrow{P_0Q_0} + \overrightarrow{Q_0Q}|^2 = |\overrightarrow{PP_0} + \overrightarrow{Q_0Q} + \overrightarrow{P_0Q_0}|^2 \\ &= |\overrightarrow{PP_0} + \overrightarrow{Q_0Q}|^2 + 2(\overrightarrow{PP_0} + \overrightarrow{Q_0Q}) \cdot \overrightarrow{P_0Q_0} + |\overrightarrow{P_0Q_0}|^2 \\ &= |\overrightarrow{PP_0} + \overrightarrow{Q_0Q}|^2 + 16 \end{aligned}$$

コメント

誘導に乗れば結論まで一直線です。

問題

座標空間において，中心が $A(0, 0, a)$ ($a > 0$) で半径が r の球面 $x^2 + y^2 + (z - a)^2 = r^2$ は，点 $B(\sqrt{5}, \sqrt{5}, a)$ と点 $(1, 0, -1)$ を通るものとする。次の問いに答えよ。

- (1) r と a の値を求めよ。
- (2) 点 $P(\cos t, \sin t, -1)$ について，ベクトル \overrightarrow{AB} と \overrightarrow{AP} を求めよ。さらに内積 $\overrightarrow{AB} \cdot \overrightarrow{AP}$ を求めよ。
- (3) $\triangle ABP$ の面積 S を t を用いて表せ。また， t が $0 \leq t \leq 2\pi$ の範囲を動くとき， S の最小値と，そのときの t の値を求めよ。 [2010]

解答例

- (1) 球面 $x^2 + y^2 + (z - a)^2 = r^2$ が，2点 $(\sqrt{5}, \sqrt{5}, a)$ ， $(1, 0, -1)$ を通ることより，
 $5 + 5 = r^2 \dots\dots\dots \textcircled{1}$ ， $1 + (-1 - a)^2 = r^2 \dots\dots\dots \textcircled{2}$
 $\textcircled{1}$ より， $r = \sqrt{10}$ となり， $\textcircled{2}$ に代入すると， $(-1 - a)^2 = 9$
 $a > 0$ より， $a = 2$
- (2) (1)より， $A(0, 0, 2)$ ， $B(\sqrt{5}, \sqrt{5}, 2)$ ， $P(\cos t, \sin t, -1)$ に対し，
 $\overrightarrow{AB} = (\sqrt{5}, \sqrt{5}, 0)$ ， $\overrightarrow{AP} = (\cos t, \sin t, -3)$ ， $\overrightarrow{AB} \cdot \overrightarrow{AP} = \sqrt{5} \cos t + \sqrt{5} \sin t$
- (3) $\triangle ABP$ の面積 S は，(2)より，

$$S = \frac{1}{2} \sqrt{|\overrightarrow{AB}|^2 |\overrightarrow{AP}|^2 - (\overrightarrow{AB} \cdot \overrightarrow{AP})^2}$$

$$= \frac{1}{2} \sqrt{(5 + 5)(\cos^2 t + \sin^2 t + 9) - 5(\cos t + \sin t)^2}$$

$$= \frac{1}{2} \sqrt{100 - 5(1 + 2 \sin t \cos t)} = \frac{1}{2} \sqrt{95 - 5 \sin 2t}$$
 $0 \leq t \leq 2\pi$ から， $\sin 2t = 1$ ($t = \frac{\pi}{4}, \frac{5\pi}{4}$) のとき， S は最小値 $\frac{\sqrt{90}}{2} = \frac{3}{2} \sqrt{10}$ をとる。

コメント

空間ベクトルの計算問題です。球面の方程式は形式的なものにすぎません。

問題

3点 $A(6, 0, 0)$, $B(0, 6, 0)$, $C(0, 0, 6)$ の定める平面を α とする。原点 O を通り平面 α に直交する直線と α との交点を H とする。また、線分 HO 上の点で、 H からの距離が t となる点を P_t とする。ただし、 P_t の動く範囲から両端点 H, O は除くとする。次の問いに答えよ。

- (1) 点 H の座標と、 t の動く範囲を求めよ。
- (2) 平面 α 上にあり、 P_t からの距離が OH となる点を作る円を S_t とする。 S_t とその内部を底面とし、 P_t を頂点とする円錐の体積を $f(t)$ とする。このとき $f(t)$ を求めよ。
- (3) (2) の $f(t)$ の最大値を求めよ。 [2005]

解答例

- (1) 3点 $A(6, 0, 0)$, $B(0, 6, 0)$, $C(0, 0, 6)$ の定める平面 α の方程式は、

$$\frac{x}{6} + \frac{y}{6} + \frac{z}{6} = 1, \quad x + y + z = 6$$

すると、平面 α の法線ベクトルは $\vec{n} = (1, 1, 1)$ となるので、 k を定数として、 $\vec{OH} = k\vec{n} = k(1, 1, 1)$ から、 $H(k, k, k)$ と表せ、

$$k + k + k = 6, \quad k = 2$$

よって、 $H(2, 2, 2)$ となり、 $OH = \sqrt{2^2 + 2^2 + 2^2} = 2\sqrt{3}$ より、
 $0 < t < 2\sqrt{3}$

- (2) P_t を頂点とする円錐は母線 $OH = 2\sqrt{3}$ 、高さ $P_tH = t$ から、円 S_t の半径は、

$$\sqrt{(2\sqrt{3})^2 - t^2} = \sqrt{12 - t^2}$$

よって、円錐の体積 $f(t)$ は、

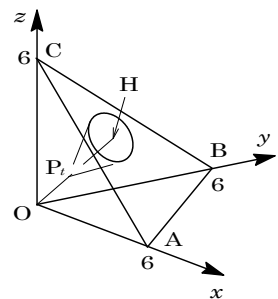
$$f(t) = \frac{1}{3}\pi(12 - t^2)t = \frac{1}{3}\pi(-t^3 + 12t)$$

- (3) (2) より、 $f'(t) = \frac{1}{3}\pi(-3t^2 + 12)$

$$= -\pi(t+2)(t-2)$$

すると、右表より、 $f(t)$ の最大値は、

$$f(2) = \frac{1}{3}\pi(-8 + 24) = \frac{16}{3}\pi$$



t	0	...	2	...	$2\sqrt{3}$
$f'(t)$		+	0	-	
$f(t)$		↗		↘	

コメント

切片を利用して平面の方程式を記述しました。詳細は「ピンポイントレクチャー」を参照してください。

問題

次の問いに答えよ。

- (1) 方程式 $25x + 9y = 1$ の整数解をすべて求めよ。
- (2) 方程式 $25x + 9y = 33$ の整数解をすべて求めよ。さらに、これらの整数解のうち、 $|x + y|$ の値が最小となるものを求めよ。
- (3) 2 つの方程式 $25x + 9y = 33$, $xy = -570$ を同時に満たす整数解をすべて求めよ。

[2016]

解答例

- (1) 整数 x, y に対して $25x + 9y = 1$ のとき, $25 \times 4 + 9 \times (-11) = 1 \cdots \cdots \textcircled{1}$ より,

$$25(x - 4) + 9(y + 11) = 0, \quad 25(x - 4) = -9(y + 11)$$
 25 と 9 は互いに素なので, k を整数として,

$$x - 4 = 9k, \quad y + 11 = -25k$$
 よって, $x = 9k + 4, \quad y = -25k - 11$ となる。
- (2) 整数 x, y に対して $25x + 9y = 33$ のとき, $\textcircled{1}$ より $25 \times 132 + 9 \times (-363) = 33$

$$25(x - 132) + 9(y + 363) = 0, \quad 25(x - 132) = -9(y + 363)$$
 25 と 9 は互いに素なので, l を整数として,

$$x - 132 = 9l, \quad y + 363 = -25l$$
 よって, $x = 9l + 132, \quad y = -25l - 363$ となり, このとき,

$$|x + y| = |9l + 132 - 25l - 363| = |-16l - 231| = |-16(l + 14) - 7|$$
 すると, $l = -14$ ($x = 6, \quad y = -13$) のとき, $|x + y|$ の値は最小となる。
- (3) 条件より, 整数 x, y に対して $25x + 9y = 33 \cdots \cdots \textcircled{2}$, $xy = -570 \cdots \cdots \textcircled{3}$
 (2)の結果を利用すると, $\textcircled{2}$ より,

$$x = 9l + 132 = 9(l + 14) + 6, \quad y = -25l - 363 = -25(l + 14) - 13$$
 ここで, $m = l + 14$ とおくと, $x = 9m + 6, \quad y = -25m - 13$
 $\textcircled{3}$ に代入すると, $(9m + 6)(-25m - 13) = -570$ となり,

$$(3m + 2)(25m + 13) = 190, \quad 75m^2 + 89m - 164 = 0$$
 すると, $(75m + 164)(m - 1) = 0$ となり, m は整数から $m = 1$ なので,

$$x = 15, \quad y = -38$$

コメント

不定方程式を解く問題です。(1)の特殊解は $100 - 99 = 1$ から山勘で見つかると思いますが,(2)は運・不運が反映されます。少し大きな値となり気になりましたが,①を利用した確実なものを採用しました。ただ,(3)になるとそうもいかず,(2)の後半の設定を誘導とみて,文字の置換えをしています。

問題

自然数が 1 つずつ書かれている玉が、

$$\textcircled{1} \textcircled{1} \textcircled{2} \textcircled{1} \textcircled{2} \textcircled{3} \textcircled{1} \textcircled{2} \textcircled{3} \textcircled{4} \textcircled{1} \textcircled{2} \textcircled{3} \textcircled{4} \textcircled{5} \textcircled{1} \textcircled{2} \dots\dots$$

のように 1 列に並べられている。次の問いに答えよ。

- (1) 数 100 が書かれた玉が最初に現れるのは何番目か。
- (2) 自然数 n に対し、 $2n^2$ 番目の玉に書かれている数はいくらか。
- (3) 1 番目から $2n^2$ 番目までの玉をすべて袋に入れた。この袋から 2 つの玉を取り出すとき、同じ数が書かれた玉を取り出す確率を求めよ。 [2014]

解答例

- (1) 与えられた玉の列を下記のようにグループ分けを行う。

$$\textcircled{1} | \textcircled{1} \textcircled{2} | \textcircled{1} \textcircled{2} \textcircled{3} | \textcircled{1} \textcircled{2} \textcircled{3} \textcircled{4} | \textcircled{1} \textcircled{2} \textcircled{3} \textcircled{4} \textcircled{5} | \textcircled{1} \textcircled{2} \dots\dots$$

左から、第 1 群、第 2 群、第 3 群、…とすると、第 k 群の右端までの個数は、

$$1 + 2 + 3 + \dots + k = \frac{1}{2}k(k+1)$$

さて、この玉の列で、数 100 が書かれた玉が最初に現れるのは、第 100 群の右端より、 $\frac{1}{2} \cdot 100 \cdot 101 = 5050$ 番目となる。

- (2) $2n^2$ 番目の玉が、第 k 群に属するとすると、

$$\frac{1}{2}(k-1)k < 2n^2 \leq \frac{1}{2}k(k+1), \quad (k-1)k < 4n^2 \leq k(k+1) \dots\dots (*)$$

ここで、 $k = 2n$ のとき、 $(k-1)k = 4n^2 - 2n$ 、 $k(k+1) = 4n^2 + 2n$ から、(*)を満たす。よって、 $2n^2$ 番目の玉は第 $2n$ 群に属する。

そこで、第 $2n-1$ 群の右端までの個数は、 $\frac{1}{2}(2n-1)2n = n(2n-1)$ となり、 $2n^2$ 番目の玉は、第 $2n$ 群の $2n^2 - n(2n-1) = n$ 番目すなわち数 n が書かれている。

- (3) $2n^2$ 個の玉から 2 つを取り出す ${}_{2n^2}C_2 = n^2(2n^2-1)$ 通りが同様に確からしい。

(2)より、 $2n^2$ 番目の玉は第 $2n$ 群の n 番目より、数 1 の玉は $2n$ 個、数 2 の玉は $2n-1$ 個、数 3 の玉は $2n-2$ 個、…、数 n の玉は $n+1$ 個ある。さらに、数 $n+1$ の玉は $n-1$ 個、数 $n+2$ の玉は $n-2$ 個、…、数 $2n-2$ の玉は 2 個、数 $2n-1$ の玉は 1 個ある。

すると、同じ数が書かれた玉を取り出す場合の数 N は、 $n \geq 2$ のとき、

$$\begin{aligned} N &= {}_{2n}C_2 + {}_{2n-1}C_2 + {}_{2n-2}C_2 + \dots + {}_{n+1}C_2 + {}_{n-1}C_2 + {}_{n-2}C_2 + \dots + {}_2C_2 \\ &= ({}_2C_2 + {}_3C_2 + \dots + {}_{n-1}C_2 + {}_n C_2 + {}_{n+1}C_2 + \dots + {}_{2n-1}C_2 + {}_{2n}C_2) - {}_n C_2 \\ &= \sum_{k=1}^{2n} \frac{1}{2}k(k-1) - \frac{1}{2}n(n-1) \end{aligned}$$

そこで、階差数列の和として計算すると、

$$\begin{aligned} N &= \frac{1}{6} \sum_{k=1}^{2n} \{(k+1)k(k-1) - k(k-1)(k-2)\} - \frac{1}{2}n(n-1) \\ &= \frac{1}{6}(2n+1)2n(2n-1) - \frac{1}{2}n(n-1) = \frac{1}{6}n(8n^2 - 3n + 1) \end{aligned}$$

よって、同じ数が書かれた玉を取り出す確率は、 $\frac{8n^2 - 3n + 1}{6n(2n^2 - 1)}$ である。これは

$n=1$ の場合も満たしている。

コメント

標準的な群数列の問題です。(3)はミスを犯しそうなので、具体的に記しました。

問題

次の問いに答えよ。

- (1) 条件 $x_1 = 1$, $x_{n+1} = x_n + 2^n$ ($n = 1, 2, 3, \dots$) によって定められる数列 $\{x_n\}$ の一般項を求めよ。
- (2) 条件 $y_1 = \frac{4}{3}$, $\frac{1}{y_{n+1}} = \frac{4}{y_n} + \frac{3}{4}$ ($n = 1, 2, 3, \dots$) によって定められる数列 $\{y_n\}$ の一般項を求めよ。
- (3) $\{x_n\}$, $\{y_n\}$ をそれぞれ(1), (2)の数列とする。2つのベクトル

$$\vec{a}_n = \left(16 - \frac{1}{x_n}, \frac{16}{x_n} - 1\right), \vec{b}_n = \left(\frac{x_n}{4}, \frac{1}{y_n}\right)$$

が垂直であるときの正の整数 n の値を求めよ。

[2006]

解答例

- (1) $x_1 = 1$, $x_{n+1} = x_n + 2^n$ より, $n \geq 2$ において,

$$x_n = 1 + \sum_{k=1}^{n-1} 2^k = 1 + \frac{2(2^{n-1} - 1)}{2 - 1} = 2^n - 1$$

$n = 1$ をあてはめると $x_1 = 1$ となり, $n = 1$ のときも成り立つ。

- (2) $y_1 = \frac{4}{3}$, $\frac{1}{y_{n+1}} = \frac{4}{y_n} + \frac{3}{4}$ より, $\frac{1}{y_{n+1}} + \frac{1}{4} = 4\left(\frac{1}{y_n} + \frac{1}{4}\right)$

$$\frac{1}{y_n} + \frac{1}{4} = \left(\frac{1}{y_1} + \frac{1}{4}\right)4^{n-1} = 4^{n-1}$$

よって, $\frac{1}{y_n} = \frac{4^n - 1}{4}$, $y_n = \frac{4}{4^n - 1}$

- (3) $\vec{a}_n \perp \vec{b}_n$ より, $\vec{a}_n \cdot \vec{b}_n = 0$ となり,

$$\left(16 - \frac{1}{x_n}\right)\frac{x_n}{4} + \left(\frac{16}{x_n} - 1\right)\frac{1}{y_n} = 0, \quad 4x_n - \frac{1}{4} + \frac{16}{x_n y_n} - \frac{1}{y_n} = 0$$

(1)(2)より, $4(2^n - 1) - \frac{1}{4} + 4(2^n + 1) - \frac{4^n - 1}{4} = 0$

$$8 \cdot 2^n = \frac{4^n}{4}, \quad 2^{n+3} = 2^{2n-2}$$

よって, $n + 3 = 2n - 2$ より, $n = 5$

コメント

数列 $\{x_n\}$, $\{y_n\}$ は, 漸化式で定義されていますが, どちらも基本的なものです。

問 題

数列 $\{a_n\}$ が $a_1 = 36$, $a_{n+1} = 2a_n + 2^{n+3}n - 17 \cdot 2^{n+1}$ ($n = 1, 2, 3, \dots$) により定められているとする。

- (1) $b_n = \frac{a_n}{2^n}$ とおくと b_n と b_{n+1} の満たす関係式を導き、 $\{a_n\}$ の一般項を求めよ。
- (2) $a_n > a_{n+1}$ となるような n の値の範囲および a_n が最小となるような n の値を求めよ。
- (3) $S_n = a_1 + a_2 + \dots + a_n$ とおくと S_n が最小となるような n の値をすべて求めよ。

[2003]

解答例

- (1) 条件式 $a_{n+1} = 2a_n + 2^{n+3}n - 17 \cdot 2^{n+1}$ の両辺を 2^{n+1} で割ると、 $b_n = \frac{a_n}{2^n}$ より、

$$\frac{a_{n+1}}{2^{n+1}} = \frac{a_n}{2^n} + 4n - 17, \quad b_{n+1} = b_n + 4n - 17$$

ただし、 $b_1 = \frac{a_1}{2^1} = \frac{36}{2} = 18$ である。

$$\begin{aligned} \text{よって、} n \geq 2 \text{ で、} b_n &= 18 + \sum_{k=1}^{n-1} (4k - 17) = 18 + 4 \cdot \frac{1}{2}(n-1)n - 17(n-1) \\ &= 2n^2 - 19n + 35 \end{aligned}$$

$n = 1$ をあてはめると、 $b_1 = 18$ となり成立する。

したがって、 $a_n = b_n 2^n = (2n^2 - 19n + 35)2^n$

- (2) (1) より、 $a_{n+1} = \{2(n+1)^2 - 19(n+1) + 35\}2^{n+1} = 2(2n^2 - 15n + 18)2^n$
 $a_{n+1} - a_n = 2(2n^2 - 15n + 18)2^n - (2n^2 - 19n + 35)2^n$
 $= (2n^2 - 11n + 1)2^n$

$a_n > a_{n+1}$ となるのは、 $2n^2 - 11n + 1 < 0$, $n(2n - 11) + 1 < 0$

この不等式を満たす自然数は $n = 1, 2, 3, 4, 5$ である。

すると、 $1 \leq n \leq 5$ のとき $a_n > a_{n+1}$ であり、 $n \geq 6$ のとき $a_n < a_{n+1}$ となるので、

$$a_1 > a_2 > a_3 > a_4 > a_5 > a_6 < a_7 < a_8 < \dots$$

よって、 $n = 6$ のとき、 a_n は最小となる。

- (3) $n \geq 2$ で $S_n - S_{n-1} = a_n$ より、 $a_n > 0$ のとき $S_{n-1} < S_n$, $a_n = 0$ のとき $S_{n-1} = S_n$, $a_n < 0$ のとき $S_{n-1} > S_n$ となる。

さて、 $a_n > 0$ とすると、(1) より $2n^2 - 19n + 35 > 0$ となり、

$$(2n - 5)(n - 7) > 0, \quad n < \frac{5}{2}, \quad 7 < n$$

よって、 $n = 2$ のとき $a_n > 0$, $3 \leq n \leq 6$ のとき $a_n < 0$, $n = 7$ のとき $a_n = 0$,
 $n \geq 8$ のとき $a_n > 0$ となるので、

$$S_1 < S_2 > S_3 > S_4 > S_5 > S_6 = S_7 < S_8 < S_9 < \dots$$

$a_1 = 36$, $a_2 = 5 \times 2^2 = 20$, $a_3 = -4 \times 2^3 = -32$ より、 $S_3 = 36 + 20 - 32 = 24$ となり、 $S_3 < S_1 = 36$ であるので、 S_n が最小となるのは $n = 6, 7$ のときである。

コメント

誘導つきの漸化式の解法と、数列の最大値という有名問題で構成されています。

問題

n を自然数とする。数 w は、

$$w = 2^i + 2^j + 2^k \quad (i, j, k \text{ は自然数で } 1 \leq i \leq j \leq k \leq n)$$

の形に表されるものとする。このとき次の問いに答えよ。

- (1) $n = 7$ とする。 w の値が 2^8 , $2^6 + 2^4$ となるそれぞれの場合について、 (i, j, k) をすべて求めよ。
- (2) n を一般の自然数とする。 $2^r + 2^s$ (r, s は自然数で $r < s$) の形で表される w の値は全部で何個あるか。
- (3) 一般の自然数 n に対し、 w の値は全部で何個あるか。 [2001]

解答例

- (1) まず、 $1 \leq i \leq j \leq k$ において、 $2^i + 2^j = 2^k$ を満たすのは $(i, j) = (k-1, k-1)$ に限ることを示す。

$i < j$ とすると、 $2^i(1 + 2^{j-i}) = 2^k$, $1 + 2^{j-i} = 2^{k-i}$ となるが、 $j-i \geq 1$, $k-i \geq 1$ より左辺は奇数、右辺は偶数となるので成立しない。よって $i = j = k-1$ である。

さて、 $1 \leq i \leq j \leq k \leq 7$ において、 $w = 2^i + 2^j + 2^k \dots\dots$ ① とする。

$w = 2^8$ のとき、 ① は $2^i + 2^j + 2^k = 2^8$ となり、 $2^k < 2^8$ より $k \leq 7$ である。また、 $2^8 = 2^i + 2^j + 2^k \leq 3 \cdot 2^k$ より、 $\frac{2^8}{3} \leq 2^k$, $7 \leq k$ なので、 $k = 7$ となる。

このとき $2^i + 2^j = 2^8 - 2^7 = 2^7$ となり、 $(i, j) = (6, 6)$ である。

以上より、 $(i, j, k) = (6, 6, 7)$

$w = 2^6 + 2^4$ のとき、 ① は $2^i + 2^j + 2^k = 2^6 + 2^4 < 2^7$ となり、 $2^k < 2^7$ より $k \leq 6$ である。また、 $2^6 + 2^4 = 2^i + 2^j + 2^k \leq 3 \cdot 2^k$ より、 $\frac{2^6 + 2^4}{3} \leq 2^k$, $5 \leq k$ なので、 $k = 5, 6$ となる。

$k = 5$ のとき、 $2^i + 2^j = 2^6 + 2^4 - 2^5 = 2^5 + 2^4 < 2^6$ となり、 $2^j < 2^6$ より $j \leq 5$ であり、また $2^5 + 2^4 = 2^i + 2^j \leq 2 \cdot 2^j$ より、 $2^4 + 2^3 \leq 2^j$, $5 \leq j$ である。よって、 $j = 5$ となり、 $2^i = 2^4$ から $i = 4$ となる。

$k = 6$ のとき、 $2^i + 2^j = 2^6 + 2^4 - 2^6 = 2^4$ となり、 $(i, j) = (3, 3)$ である。

以上より、 $(i, j, k) = (4, 5, 5), (3, 3, 6)$

- (2) まず、1つの w の値に対して、 $w = 2^r + 2^s$ ($1 \leq r < s$) を満たす (r, s) の値がただ1組しか存在しないことを示す。

$1 \leq r < s$, $1 \leq r' < s'$ として、 $2^r + 2^s = 2^{r'} + 2^{s'} \dots\dots$ ② とおく。

$r < r'$ とすると, ②の両辺を 2^r で割って $1 + 2^{s-r} = 2^{r'-r} + 2^{s'-r}$ となるが, 左辺は奇数, 右辺は偶数となるので成立しない。 $r > r'$ のときも同様に成立しないので, $r = r'$ となる。

すると, ②より $s = s'$ となり, 1 つの w の値に対して (r, s) の値がただ 1 組しか存在しないので, $2^r + 2^s$ の形で表される w の個数は (r, s) の個数と一致する。

さて, $w = 2^i + 2^j + 2^k = 2^r + 2^s$ ($1 \leq i \leq j \leq k \leq n, r < s$) ……③として,

(i) $1 \leq i < j < k \leq n$ のとき ③は明らかに不成立。

(ii) $1 \leq i = j < k \leq n$ のとき ③は $w = 2^j + 2^j + 2^k = 2^{j+1} + 2^k$

$j+1 < k$ のときは $j+1 = r, k = s$ とおくと, $w = 2^r + 2^s$ ($2 \leq r < s \leq n$)

$j+1 = k$ のときは $w = 2^{j+1} + 2^k = 2^k + 2^k = 2^{k+1}$ となり不適。

(iii) $1 \leq i < j = k \leq n$ のとき ③は $w = 2^i + 2^j + 2^j = 2^i + 2^{j+1}$

$i = r, j+1 = s$ とおくと, $w = 2^r + 2^s$ ($1 \leq r < s \leq n+1$)

(iv) $1 \leq i = j = k \leq n$ のとき ③は $w = 2^i + 2^i + 2^i = 2^i + 2^{i+1}$

$i = r, i+1 = s$ とおくと, $w = 2^r + 2^s$ ($1 \leq r < s \leq n+1$)

以上より, $w = 2^r + 2^s$ となる (r, s) の条件は, $1 \leq r < s \leq n+1$ である。したがって, (r, s) の個数すなわち w の値は, 全部で ${}_{n+1}C_2 = \frac{1}{2}(n+1)n$ 個ある。

(3) (2)より, $w = 2^i + 2^j + 2^k$ ($1 \leq i \leq j \leq k \leq n$) は, $r < s < t$ として, 次の 3 つの場合に分類できる。

(i) $1 \leq i < j < k \leq n$ のとき

$i = r, j = s, k = t$ とおくと, $w = 2^r + 2^s + 2^t$ ($1 \leq r < s < t \leq n$) となる。

さて, 1 つの w の値に対して, $w = 2^r + 2^s + 2^t$ ($1 \leq r < s < t$) を満たす (r, s, t) の値がただ 1 組しか存在しないことを示す。

$1 \leq r < s < t, 1 \leq r' < s' < t'$ として, $2^r + 2^s + 2^t = 2^{r'} + 2^{s'} + 2^{t'}$ ……④とおく。

$r < r'$ とすると, ④の両辺を 2^r で割って $1 + 2^{s-r} + 2^{t-r} = 2^{r'-r} + 2^{s'-r} + 2^{t'-r}$ となるが, 左辺は奇数, 右辺は偶数となるので成立しない。 $r > r'$ のときも同様に成立しないので, $r = r'$ となる。

すると, ④より $2^s + 2^t = 2^{s'} + 2^{t'}$ となり, (2)より $s = s', t = t'$ である。

よって, 1 つの w の値に対して (r, s, t) の値がただ 1 組しか存在しないので, $2^r + 2^s + 2^t$ の形で表される w の個数は (r, s, t) の個数と一致する。

以上より, w の値は ${}_nC_3 = \frac{1}{6}n(n-1)(n-2)$ 個ある。

(ii) $1 \leq i = j < k \leq n$ ($j+1 < k$), $1 \leq i < j = k \leq n$ または $1 \leq i = j = k \leq n$ のとき

(2)より, $w = 2^r + 2^s$ ($1 \leq r < s \leq n+1$) となり, w の値は $\frac{1}{2}(n+1)n$ 個ある。

(iii) $1 \leq i = j < k \leq n$ ($j+1 = k$) のとき

$$w = 2^{k+1} \text{ となり, } k+1 = r \text{ とおくと, } w = 2^r \text{ (} 3 \leq r \leq n+1 \text{)}$$

したがって, w の値は $n-1$ 個ある。

(i)(ii)(iii)より, w の値の個数は,

$$\frac{1}{6}n(n-1)(n-2) + \frac{1}{2}(n+1)n + (n-1) = \frac{1}{6}(n^3 + 11n - 6)$$

コメント

金沢大の理系では, 例年, 難問が 1 題出ますが, 本問がそれに相当します。しかし, 他の問題との難易差があまりにも大きすぎます。なお, この解は何度も書き直したものです。

問 題

次の問いに答えよ。

- (1) 整数 $n \geq 3$ に対して、 ${}_n C_3 = \sum_{k=3}^n {}_{k-1} C_2$ が成り立つことを示せ。
- (2) 整数 $k \geq 3$ に対して、 $x + y + z = k$ を満たす自然数 x, y, z の組 (x, y, z) の個数は $\frac{1}{2}(k-1)(k-2)$ であることを示せ。
- (3) 整数 $m \geq 0$ に対して、 $x + y + z \leq m$ を満たす負でない整数 x, y, z の組 (x, y, z) の個数を、(1), (2)を用いて求めよ。 [2000]

解答例

- (1) ${}_n C_r = {}_{n-1} C_{r-1} + {}_{n-1} C_r$ より、 ${}_{n-1} C_{r-1} = {}_n C_r - {}_{n-1} C_r$ となるので、 $n \geq 4$ のとき、

$$\sum_{k=3}^n {}_{k-1} C_2 = {}_2 C_2 + \sum_{k=4}^n {}_{k-1} C_2 = {}_3 C_3 + \sum_{k=4}^n ({}_k C_3 - {}_{k-1} C_3) = {}_n C_3$$

また、 $n = 3$ のとき、 $\sum_{k=3}^3 {}_{k-1} C_2 = {}_2 C_2 = {}_3 C_3$ より成り立つ。

以上より、 $n \geq 3$ で、 $\sum_{k=3}^n {}_{k-1} C_2 = {}_n C_3$

- (2) k 個の球を 1 列に並べ、その球の間の $k-1$ か所から 2 か所選んで仕切りを入れる。左側の仕切りの左側にある球の個数を x 、2 つの仕切りの間にある球の個数を y 、右側の仕切りの右側にある球の個数を z とすると、

$$x + y + z = k \quad (x \geq 1, y \geq 1, z \geq 1) \dots\dots\dots \textcircled{1}$$

ここで、仕切りの入れ方 1 通りに対して、 $\textcircled{1}$ を満たす整数の組 (x, y, z) は 1 通り決まり、その個数は、

$${}_{k-1} C_2 = \frac{1}{2}(k-1)(k-2)$$

- (3) 整数 k を $0 \leq k \leq m$ とし、 $x + y + z = k \quad (x \geq 0, y \geq 0, z \geq 0) \dots\dots\dots \textcircled{2}$ を満たす整数の組 (x, y, z) に対して、 $a = x + 1, b = y + 1, c = z + 1$ とおくと、

$$a + b + c = k + 3 \quad (a \geq 1, b \geq 1, c \geq 1) \dots\dots\dots \textcircled{3}$$

$\textcircled{3}$ を満たす整数の組 (a, b, c) は、(2) より ${}_{k+2} C_2$ 通りとなるので、 $\textcircled{2}$ を満たす整数の組 (x, y, z) の個数は ${}_{k+2} C_2$ である。

すると、 $x + y + z \leq m \quad (x \geq 0, y \geq 0, z \geq 0)$ を満たす整数の組 (x, y, z) の個数は、(1)を用いて、

$$\sum_{k=0}^m {}_{k+2} C_2 = \sum_{k=3}^{m+3} {}_{k-1} C_2 = {}_{m+3} C_3 = \frac{1}{6}(m+3)(m+2)(m+1)$$

コメント

(3)の条件を満たす四面体の内部または面上の格子点の個数を求めることが本問のねらいです。(1)と(2)がそれを導くためのうまい誘導となっています。

問題

1 個のサイコロを 4 回続けて投げて出た目の数を順に a, b, c, d とおき, 2 直線 l_1, l_2 を $l_1: y = ax + b, l_2: y = cx + d$ と定める。次の問いに答えよ。

- (1) l_1 と l_2 が一致する確率を求めよ。
- (2) l_1 と l_2 が 1 点で交わる確率を求めよ。
- (3) l_1 と l_2 が 1 点で交わり, その交点の x 座標, y 座標がともに整数となる確率を求めよ。 [2018]

解答例

- (1) サイコロを 4 回投げ, 出た目の数を順に a, b, c, d とおき, 2 直線 $l_1: y = ax + b, l_2: y = cx + d$ を対応させる。

このとき, l_1 と l_2 が一致するのは, $a = c$ かつ $b = d$ の場合より, その確率は,

$$\frac{6 \times 6 \times 1 \times 1}{6^4} = \frac{1}{36}$$

- (2) l_1 と l_2 が平行または一致のときは $a = c$ より, その確率は $\frac{6 \times 6 \times 1 \times 6}{6^4} = \frac{1}{6}$ となる

ので, l_1 と l_2 が 1 点で交わる確率は, $1 - \frac{1}{6} = \frac{5}{6}$ である。

- (3) $a \neq c$ のとき, l_1 と l_2 が 1 点で交わり, その交点は $ax + b = cx + d$ から,

$$(a - c)x = -b + d, \quad x = -\frac{b - d}{a - c} \dots\dots\dots(*)$$

そして, 交点の x 座標が整数であるとき, $y = ax + b$ から y 座標も整数となるので, 以下, (*) が整数となる条件を求める。

さて, 一般的に 2 つの数 p, q とその差 $p - q$ をまとめると右表のようになり, これを参照して,

$p \backslash q$	1	2	3	4	5	6
1	0	-1	-2	-3	-4	-5
2	1	0	-1	-2	-3	-4
3	2	1	0	-1	-2	-3
4	3	2	1	0	-1	-2
5	4	3	2	1	0	-1
6	5	4	3	2	1	0

- (i) $a - c = \pm 1$ のとき
 (a, c) は 10 通り, (b, d) は任意で 36 通りある。
- (ii) $a - c = \pm 2$ のとき
 (a, c) は 8 通り, (b, d) は $b - d = 0, \pm 2, \pm 4$ より, $6 + 8 + 4 = 18$ 通りある。
- (iii) $a - c = \pm 3$ のとき
 (a, c) は 6 通り, (b, d) は $b - d = 0, \pm 3$ より, $6 + 6 = 12$ 通りある。
- (iv) $a - c = \pm 4$ のとき
 (a, c) は 4 通り, (b, d) は $b - d = 0, \pm 4$ より, $6 + 4 = 10$ 通りある。

(v) $a - c = \pm 5$ のとき

(a, c) は 2 通り, (b, d) は $b - d = 0, \pm 5$ より, $6 + 2 = 8$ 通りある。

(i)~(v)より, l_1 と l_2 の交点の x 座標, y 座標がともに整数となる確率は,

$$\frac{10 \times 36 + 8 \times 18 + 6 \times 12 + 4 \times 10 + 2 \times 8}{6^4} = \frac{632}{6^4} = \frac{79}{162}$$

コメント

確率の標準的な問題です。センターの解答例のように表を作って数え上げました。

問題

$n \geq 3$ とする。1 個のサイコロを n 回振る。この n 回の試行のうちで 6 の目がちょうど 2 回、しかも続けて出る確率を p_n とする。次の問いに答えよ。

- (1) p_3, p_4 を求めよ。
- (2) p_n を求め、 $p_{n+1} - \frac{5}{6}p_n = \left(\frac{1}{6}\right)^2 \left(\frac{5}{6}\right)^{n-1}$ であることを示せ。
- (3) $s_n = p_3 + p_4 + \dots + p_n$ として、 $\lim_{n \rightarrow \infty} s_n$ を求めよ。ただし、必要ならば、 $|r| < 1$ のとき $\lim_{n \rightarrow \infty} nr^n = 0$ であることは使ってよい。 [2012]

解答例

(1) サイコロを 3 回振って、6 の目が 2 回続けて出るのは 2 通りあるので、

$$p_3 = 2 \cdot \left(\frac{1}{6}\right)^2 \frac{5}{6} = \frac{5}{108}$$

また、サイコロを 4 回振って、6 の目が 2 回続けて出るのは 3 通りあるので、

$$p_4 = 3 \cdot \left(\frac{1}{6}\right)^2 \left(\frac{5}{6}\right)^2 = \frac{25}{432}$$

(2) サイコロを n 回振って、6 の目が 2 回続けて出るのは $n-1$ 通りあるので、

$$p_n = (n-1) \left(\frac{1}{6}\right)^2 \left(\frac{5}{6}\right)^{n-2}$$

$$p_{n+1} - \frac{5}{6}p_n = n \left(\frac{1}{6}\right)^2 \left(\frac{5}{6}\right)^{n-1} - (n-1) \left(\frac{1}{6}\right)^2 \left(\frac{5}{6}\right)^{n-1} = \left(\frac{1}{6}\right)^2 \left(\frac{5}{6}\right)^{n-1}$$

(3) (2) より、 $n \geq 3$ で、 $\sum_{k=3}^n (p_{k+1} - \frac{5}{6}p_k) = \left(\frac{1}{6}\right)^2 \sum_{k=3}^n \left(\frac{5}{6}\right)^{k-1} \dots\dots\dots (*)$

$$\begin{aligned} \sum_{k=3}^n (p_{k+1} - \frac{5}{6}p_k) &= -\frac{5}{6}p_3 + \frac{1}{6}(p_4 + \dots + p_n) + p_{n+1} \\ &= \frac{1}{6}(p_3 + p_4 + \dots + p_n) - p_3 + p_{n+1} = \frac{1}{6}s_n - p_3 + p_{n+1} \end{aligned}$$

$$\left(\frac{1}{6}\right)^2 \sum_{k=3}^n \left(\frac{5}{6}\right)^{k-1} = \left(\frac{1}{6}\right)^2 \cdot \frac{\left(\frac{5}{6}\right)^2 \left\{1 - \left(\frac{5}{6}\right)^{n-2}\right\}}{1 - \frac{5}{6}} = \frac{1}{6} \left\{ \left(\frac{5}{6}\right)^2 - \left(\frac{5}{6}\right)^n \right\}$$

すると、(*) より、 $s_n - 6p_3 + 6p_{n+1} = \left(\frac{5}{6}\right)^2 - \left(\frac{5}{6}\right)^n$ となり、

$$\begin{aligned} s_n &= 6p_3 - 6p_{n+1} + \left(\frac{5}{6}\right)^2 - \left(\frac{5}{6}\right)^n = \frac{5}{18} - \frac{1}{6}n \left(\frac{5}{6}\right)^{n-1} + \frac{25}{36} - \left(\frac{5}{6}\right)^n \\ &= \frac{35}{36} - \frac{1}{6}n \left(\frac{5}{6}\right)^{n-1} - \left(\frac{5}{6}\right)^n \end{aligned}$$

よって、 $n \rightarrow \infty$ のとき $n \left(\frac{5}{6}\right)^{n-1} \rightarrow 0$ より、 $\lim_{n \rightarrow \infty} s_n = \frac{35}{36}$ である。

コメント

確率と極限の融合で、計算量はやや多めですが、計算だけという印象は否めません。

問題

A, B 2人が次のようなゲームを行う。第三者 (A, B 以外の中立的立場の者) がさいころを投げ、1の目が出たら A だけに 3 点、3の目が出たら A だけに 2 点を与え、2か4の目が出たら B だけに 2 点を与える。その他の目が出たら、A にも B にも点を与えない。この試行を何回かくり返し、先に得点の合計が 4 点以上になった方を勝ちとする。

1 回目の試行で B が勝つ確率を p_1 とする。 $n \geq 2$ のとき、 $n-1$ 回目までの試行では勝負はつかず、 n 回目の試行で B が勝つ確率を p_n とする。 次の問いに答えよ。

(1) p_1, p_2, p_3, p_4 を求めよ。 また一般項 p_n を求めよ。

(2) $q_n = 9p_{n+2} - 6p_{n+1} + p_n$ とするとき、 $\sum_{n=1}^k q_n$ を求めよ。 また $\sum_{n=1}^k p_n$ を求めよ。

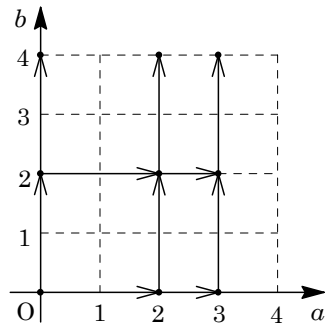
(3) $a = \sum_{n=1}^{\infty} p_n$ とするとき、 $\lim_{k \rightarrow \infty} \frac{1}{k} \log \left| \sum_{n=1}^k p_n - a \right|$ を求めよ。 ただし、必要ならば、

$$\lim_{k \rightarrow \infty} \frac{k^2}{3^k} = 0, \quad \lim_{x \rightarrow \infty} \frac{\log x}{x} = 0 \text{ を用いてよい。} \quad [2009]$$

解答例

(1) A の得点を a , B の得点を b とするとき、 B が勝つ場合の点 (a, b) の推移には 5 つのルートがある。

- I $(0, 0) \rightarrow (0, 2) \rightarrow (0, 4)$
- II $(0, 0) \rightarrow (0, 2) \rightarrow (2, 2) \rightarrow (2, 4)$
- III $(0, 0) \rightarrow (0, 2) \rightarrow (3, 2) \rightarrow (3, 4)$
- IV $(0, 0) \rightarrow (2, 0) \rightarrow (2, 2) \rightarrow (2, 4)$
- V $(0, 0) \rightarrow (3, 0) \rightarrow (3, 2) \rightarrow (3, 4)$



また、 a 軸方向に 2 または 3 進む確率は $\frac{1}{3}$, b 軸方

向に 2 だけ進む確率は $\frac{1}{3}$, さらに動かない確率は $\frac{1}{3}$ である。

さて、1 回目の試行で B が勝つ場合はないので、 $p_1 = 0$ である。

2 回目の試行で B が勝つ場合はルート I のみより、 $p_2 = \left(\frac{1}{3}\right)^2 = \frac{1}{9}$ である。

3 回目の試行で B が勝つ場合、その確率は、ルート I では $2! \cdot \frac{1}{3} \cdot \frac{1}{3} \times \frac{1}{3} = \frac{2}{27}$, ルート II ~ V では $2! \cdot \frac{1}{3} \cdot \frac{1}{3} \times \frac{1}{3} = \frac{2}{27}$ となるので、 $p_3 = \frac{2}{27} + \frac{2}{27} = \frac{4}{27}$ である。

4 回目の試行で B が勝つ場合、その確率は、ルート I では $3! \cdot \frac{1}{3} \cdot \left(\frac{1}{3}\right)^2 \times \frac{1}{3} = \frac{1}{27}$, ルート II ~ V では $3! \cdot \frac{1}{3} \cdot \frac{1}{3} \cdot \frac{1}{3} \times \frac{1}{3} = \frac{2}{27}$ となるので、 $p_4 = \frac{1}{27} + \frac{2}{27} = \frac{1}{9}$ である。

また、 n 回目 ($n \geq 3$) の試行で B が勝つ場合、その確率は、

(i) ルート I のとき $\frac{(n-1)!}{(n-2)!} \cdot \frac{1}{3} \left(\frac{1}{3}\right)^{n-2} \times \frac{1}{3} = (n-1) \left(\frac{1}{3}\right)^n$

(ii) ルート II ~ V のとき $\frac{(n-1)!}{(n-3)!} \cdot \frac{1}{3} \cdot \frac{1}{3} \left(\frac{1}{3}\right)^{n-3} \times \frac{1}{3} = (n-1)(n-2) \left(\frac{1}{3}\right)^n$

(i)(ii) より、 $p_n = (n-1) \left(\frac{1}{3}\right)^n + (n-1)(n-2) \left(\frac{1}{3}\right)^n = (n-1)^2 \left(\frac{1}{3}\right)^n$

なお、この値は、 $n=1, 2$ のときも満たされている。

(2) 条件から、 $q_n = 9p_{n+2} - 6p_{n+1} + p_n \dots\dots$ ①より、

$$\begin{aligned} q_n &= 9(n+1)^2 \left(\frac{1}{3}\right)^{n+2} - 6n^2 \left(\frac{1}{3}\right)^{n+1} + (n-1)^2 \left(\frac{1}{3}\right)^n \\ &= (n+1)^2 \left(\frac{1}{3}\right)^n - 2n^2 \left(\frac{1}{3}\right)^n + (n-1)^2 \left(\frac{1}{3}\right)^n = 2 \left(\frac{1}{3}\right)^n \end{aligned}$$

よって、 $\sum_{n=1}^k q_n = \frac{\frac{2}{3} \{1 - (\frac{1}{3})^k\}}{1 - \frac{1}{3}} = 1 - \left(\frac{1}{3}\right)^k \dots\dots$ ②

また、①において、 $n=1$ から $n=k$ まで和をとると、

$$\begin{aligned} \sum_{n=1}^k q_n &= 9 \sum_{n=1}^k p_{n+2} - 6 \sum_{n=1}^k p_{n+1} + \sum_{n=1}^k p_n \\ &= 9 \left(\sum_{n=1}^k p_n - p_1 - p_2 + p_{k+1} + p_{k+2} \right) - 6 \left(\sum_{n=1}^k p_n - p_1 + p_{k+1} \right) + \sum_{n=1}^k p_n \\ &= 4 \sum_{n=1}^k p_n - 3p_1 - 9p_2 + 3p_{k+1} + 9p_{k+2} \dots\dots$$
③

②③より、 $4 \sum_{n=1}^k p_n = 1 - \left(\frac{1}{3}\right)^k + 3p_1 + 9p_2 - 3p_{k+1} - 9p_{k+2}$

$$\begin{aligned} &= 1 - \left(\frac{1}{3}\right)^k + 3 \times 0 + 9 \times \frac{1}{9} - 3k^2 \left(\frac{1}{3}\right)^{k+1} - 9(k+1)^2 \left(\frac{1}{3}\right)^{k+2} \\ &= 1 - \left(\frac{1}{3}\right)^k + 1 - k^2 \left(\frac{1}{3}\right)^k - (k+1)^2 \left(\frac{1}{3}\right)^k = 2 - 2(k^2 + k + 1) \left(\frac{1}{3}\right)^k \end{aligned}$$

よって、 $\sum_{n=1}^k p_n = \frac{1}{2} - \frac{k^2 + k + 1}{2} \left(\frac{1}{3}\right)^k$

(3) (2)より、 $\lim_{k \rightarrow \infty} \frac{k^2}{3^k} = 0$ を用いて、 $a = \sum_{n=1}^{\infty} p_n = \lim_{k \rightarrow \infty} \left\{ \frac{1}{2} - \frac{k^2 + k + 1}{2} \left(\frac{1}{3}\right)^k \right\} = \frac{1}{2}$

このとき、 $\left| \sum_{n=1}^k p_n - a \right| = \frac{k^2 + k + 1}{2} \left(\frac{1}{3}\right)^k$ より、

$$\frac{1}{k} \log \left| \sum_{n=1}^k p_n - a \right| = \frac{1}{k} \left(\log \frac{k^2 + k + 1}{2} - k \log 3 \right) = \frac{\log(k^2 + k + 1)}{k} - \frac{\log 2}{k} - \log 3$$

ここで, $\frac{2\log k}{k} = \frac{\log k^2}{k} < \frac{\log(k^2 + k + 1)}{k} < \frac{\log(k+1)^2}{k} = \frac{2\log(k+1)}{k+1} \cdot \frac{k+1}{k}$ から,
 $\lim_{x \rightarrow \infty} \frac{\log x}{x} = 0$ を用いると, $\lim_{k \rightarrow \infty} \frac{\log(k^2 + k + 1)}{k} = 0$ となり,

$$\lim_{k \rightarrow \infty} \frac{1}{k} \log \left| \sum_{n=1}^k p_n - \alpha \right| = -\log 3$$

コメント

(1)は確率の問題ですが, (2)以降は数列の計算問題です。たくさんの方が詰まっております, 計算量も半端ではありません。なお, (1)で5つのルートを個別に計算していくと, さらに記述量が増加します。

問題

座標平面上で動点 P が、 x 軸の正の方向へ 1 進むことを文字 a で表し、 y 軸の正の方向へ 1 進むことを文字 b で表し、停留することを文字 c で表す。a, b, c からなる文字列が与えられたとき、点 P は原点を出発し、その文字列に従って移動する。たとえば、長さ 4 の文字列 acab に対しては、点 P は原点(0, 0)から出発して、(1, 0), (1, 0), (2, 0), (2, 1)と移動し、点(2, 1)が到達点となる。長さ n の文字列のなかで、点 P の到達点が (p, q) となる文字列の個数を $F_n(p, q)$ とする。

- (1) $F_n(p, q)$ を p, q, n を用いて表せ。ただし、 n は自然数、 p, q は $p \geq 0, q \geq 0, p+q \leq n$ の範囲の整数とする。
- (2) 自然数 n が与えられているとき、 $F_n(p-1, q) \leq F_n(p, q)$ を満たす整数 p, q の組 (p, q) ($p \geq 1, q \geq 0, p+q \leq n$) の範囲を図示せよ。また、 $F_n(p, q-1) \leq F_n(p, q)$ を満たす整数 p, q の組 (p, q) ($p \geq 0, q \geq 1, p+q \leq n$) の範囲を図示せよ。
- (3) $n+1$ が 3 の倍数となる自然数 n が与えられているとき、 $F_n(p, q)$ が最大になる自然数 p, q の組 (p, q) をすべて求めよ。 [2004]

解答例

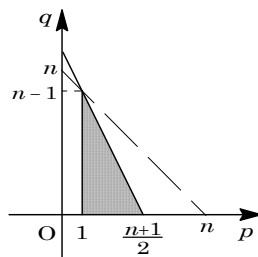
(1) 動点 P が原点から n 回進み、点 (p, q) に到達するのは、右に p 回、上に q 回だけ移動し、停留が $n-p-q$ 回の場合である。すなわち、a が p 個、b が q 個、c が $n-p-q$ 個の文字列が対応し、その総数は、

$$F_n(p, q) = \frac{n!}{p!q!(n-p-q)!}$$

(2) $F_n(p-1, q) \leq F_n(p, q)$ のとき、 $\frac{F_n(p-1, q)}{F_n(p, q)} \leq 1$ となり、

$$\frac{\frac{n!}{(p-1)!q!(n-p+1-q)!}}{\frac{n!}{p!q!(n-p-q)!}} = \frac{p}{n-p+1-q} \leq 1$$

よって、 $p \leq n-p+1-q$ より、 $2p+q \leq n+1$
 $p \geq 1, q \geq 0, p+q \leq n$ と合わせて (p, q) の範囲を図示すると、右図の網点部となる。

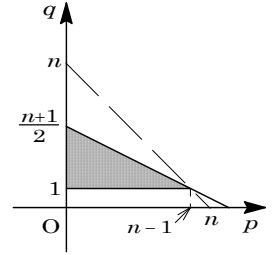


次に $F_n(p, q-1) \leq F_n(p, q)$ より、 $\frac{F_n(p, q-1)}{F_n(p, q)} \leq 1$

$$\frac{\frac{n!}{p!(q-1)!(n-p-q+1)!}}{\frac{n!}{p!q!(n-p-q)!}} = \frac{q}{n-p-q+1} \leq 1$$

よって、 $q \leq n-p-q+1$ より、 $p+2q \leq n+1$

$p \geq 0, q \geq 1, p+q \leq n$ と合わせて (p, q) の範囲を図



示すると、右図の網点部となる。

(3) (2)より、 $F_n(p-1, q) = F_n(p, q)$ となるのは、 $2p+q = n+1 \dots\dots\dots ①$

$F_n(p, q-1) = F_n(p, q)$ となるのは、 $p+2q = n+1 \dots\dots\dots ②$

①と②の交点は、①-②より $p-q = 0$ となり、 $p = q = \frac{n+1}{3}$

条件より、 $n+1$ は3の倍数なので、交点 $(\frac{n+1}{3}, \frac{n+1}{3})$ は格子点となる。

さて、 $q = q_0$ として、いったん q を固定して $F_n(p, q)$ の値の変化を考えると、 $F_n(p-1, q_0) \leq F_n(p, q_0)$ を満たす条件は、(2)より、

$$2p + q_0 \leq n + 1, p \leq \frac{n + 1 - q_0}{2}$$

そこで、 $F_n(p, q_0)$ の最大値を、 $\frac{n+1-q_0}{2}$ が整数かどうかで分けて考えると、

(i) $\frac{n+1-q_0}{2}$ が整数のとき

2点 $(\frac{n+1-q_0}{2}, q_0), (\frac{n+1-q_0}{2}-1, q_0)$ で、 $F_n(p, q_0)$ は最大となる。

(ii) $\frac{n+1-q_0}{2}$ が整数でないとき

点 $(\frac{n+1-q_0}{2}-\frac{1}{2}, q_0)$ で、 $F_n(p, q_0)$ は最大となる。

次に、それぞれの q_0 について $F_n(p, q_0)$ の値が最大となる上記の (p, q_0) に対し、 q_0 を変化させて $F_n(p, q)$ の値の変化を考える。

ここで、 $F_n(p, q-1) \leq F_n(p, q)$ を満たす領域が、(2)から $p+2q \leq n+1$ より、

(i) (p, q) が領域 $p+2q < n+1$ にあるとき

p の値が等しい2点は、上側の点の方が $F_n(p, q)$ の値が大きい。

(ii) (p, q) が領域 $p+2q > n+1$ にあるとき

p の値が等しい2点は、下側の点の方が $F_n(p, q)$ の値が大きい。

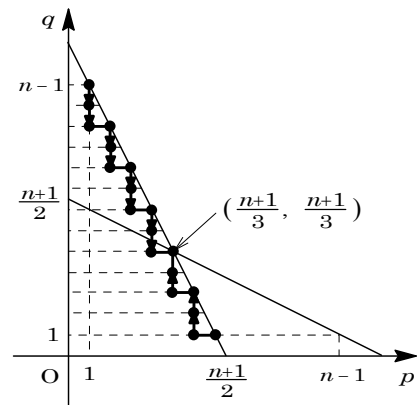
(iii) (p, q) が直線 $p+2q = n+1$ 上にあるとき

$F_n(p, q)$ の値と、その1つ下に位置する $(p, q-1)$ における $F_n(p, q-1)$ は等しい。

以上より、 $F_n(p, q)$ の値の大小関係をまとめると、右図のようになる。なお、図中で記号 \rightarrow は「 $<$ 」を、記号 $\bullet\text{---}\bullet$ は「 $=$ 」を意味するものとする。

したがって、 $n > 2$ とき、 $F_n(p, q)$ の値は $(p, q) = \left(\frac{n+1}{3}, \frac{n+1}{3}\right)$, $\left(\frac{n-2}{3}, \frac{n+1}{3}\right)$, $\left(\frac{n+1}{3}, \frac{n-2}{3}\right)$ において最大になる。

なお、 $n = 2$ のとき、 $F_n(p, q)$ の値は $(p, q) = \left(\frac{2+1}{3}, \frac{2+1}{3}\right) = (1, 1)$ においてのみ最大になる。



コメント

(3)の答は、直観的にはわかるものの、それをどのように論理展開して導けばよいのか、そこが難しいところです。1 文字固定の方法を利用して記しましたが、文章や式だけでは言い足らず、最後は「図の力」を借りる形になってしまいました。

問 題

以下の問いに答えよ。

- (1) すべての正の数 x, y に対して、不等式 $x(\log x - \log y) \geq x - y$ が成り立つことを証明せよ。また、等号が成り立つのは $x = y$ の場合に限ることを示せ。
- (2) 正の数 x_1, \dots, x_n が $\sum_{i=1}^n x_i = 1$ を満たしているとき、不等式 $\sum_{i=1}^n x_i \log x_i \geq \log \frac{1}{n}$ が成り立つことを証明せよ。また、等号が成り立つのは $x_1 = \dots = x_n = \frac{1}{n}$ の場合に限ることを示せ。 [2002]

解答例

(1) x, y の大小関係で場合分けをして、不等式 $x(\log x - \log y) \geq x - y$ を証明する。

(i) $0 < y < x$ のとき

$f(x) = \log x$ とすると、 $f'(x) = \frac{1}{x}$ となるので、平均値の定理より、

$$\frac{\log x - \log y}{x - y} = \frac{1}{c_1} \quad (0 < y < c_1 < x)$$

$$\frac{1}{c_1} > \frac{1}{x} \text{ より, } \frac{\log x - \log y}{x - y} > \frac{1}{x}, \quad x(\log x - \log y) > x - y$$

(ii) $0 < x < y$ のとき

(i)と同様にして、 $\frac{\log y - \log x}{y - x} = \frac{1}{c_2} \quad (0 < x < c_2 < y)$

$$\frac{1}{c_2} < \frac{1}{x} \text{ より, } \frac{\log y - \log x}{y - x} < \frac{1}{x}, \quad x(\log y - \log x) < y - x$$

$$x(\log x - \log y) > x - y$$

(iii) $0 < x = y$ のとき

$$\log x - \log y = 0, \quad x - y = 0 \text{ より, } x(\log x - \log y) = x - y$$

(i)(ii)(iii)より、 $x(\log x - \log y) \geq x - y$ (等号は $x = y$ のとき成立)

(2) $1 \leq i \leq n$ として、(1)から、 $x_i \left(\log x_i - \log \frac{1}{n} \right) \geq x_i - \frac{1}{n}$

$$\sum_{i=1}^n x_i \left(\log x_i - \log \frac{1}{n} \right) \geq \sum_{i=1}^n \left(x_i - \frac{1}{n} \right) \dots\dots\dots (*)$$

$$\sum_{i=1}^n x_i \log x_i - \log \frac{1}{n} \sum_{i=1}^n x_i \geq \sum_{i=1}^n x_i - \frac{1}{n} \sum_{i=1}^n 1$$

条件より $\sum_{i=1}^n x_i = 1$ なので、 $\sum_{i=1}^n x_i \log x_i - \log \frac{1}{n} \geq 1 - \frac{1}{n} \cdot n$

$$\sum_{i=1}^n x_i \log x_i \geq \log \frac{1}{n}$$

等号が成立するのは, (*)において $x_i = \frac{1}{n}$ のとき, すなわち $x_1 = \dots = x_n = \frac{1}{n}$ の場合に限る。

コメント

(2)は(1)を利用します。等号成立条件を参照すれば, x を x_i , y を $\frac{1}{n}$ と置き換えるのは, そんなに難しいことではありません。

問題

次の問いに答えよ。

- (1) $z^6 + 27 = 0$ を満たす複素数 z をすべて求め、それらを表す点を複素数平面上に図示せよ。
- (2) (1) で求めた複素数 z を偏角が小さい方から順に z_1, z_2, \dots とするとき、 z_1, z_2 と積 $z_1 z_2$ を表す 3 点が複素数平面上で一直線上にあることを示せ。ただし、偏角は 0 以上 2π 未満とする。 [2017]

解答例

- (1) $z^6 + 27 = 0$ に対して、 $z = r(\cos \theta + i \sin \theta)$ ($r > 0, 0 \leq \theta < 2\pi$) とおくと、

$$r^6(\cos 6\theta + i \sin 6\theta) = -27$$

すると、 $r^6 = |-27| = 27$ より $r^2 = 3$ となり、 $r = \sqrt{3}$

また、 n を整数として、 $6\theta = \arg(-27) = (2n+1)\pi$ より $\theta = \frac{2n+1}{6}\pi$ となり、

$$\theta = \frac{\pi}{6}, \frac{\pi}{2}, \frac{5}{6}\pi, \frac{7}{6}\pi, \frac{3}{2}\pi, \frac{11}{6}\pi$$

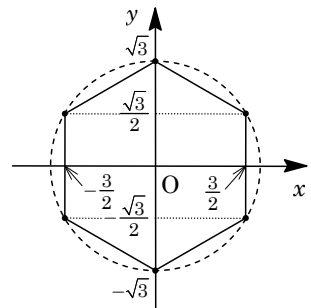
よって、 $z = \sqrt{3}\left(\cos \frac{\pi}{6} + i \sin \frac{\pi}{6}\right) = \frac{3}{2} + \frac{\sqrt{3}}{2}i$, $z = \sqrt{3}\left(\cos \frac{\pi}{2} + i \sin \frac{\pi}{2}\right) = \sqrt{3}i$

$$z = \sqrt{3}\left(\cos \frac{5}{6}\pi + i \sin \frac{5}{6}\pi\right) = -\frac{3}{2} + \frac{\sqrt{3}}{2}i$$

$$z = \sqrt{3}\left(\cos \frac{7}{6}\pi + i \sin \frac{7}{6}\pi\right) = -\frac{3}{2} - \frac{\sqrt{3}}{2}i$$

$$z = \sqrt{3}\left(\cos \frac{3}{2}\pi + i \sin \frac{3}{2}\pi\right) = -\sqrt{3}i$$

$$z = \sqrt{3}\left(\cos \frac{11}{6}\pi + i \sin \frac{11}{6}\pi\right) = \frac{3}{2} - \frac{\sqrt{3}}{2}i$$



図示すると、右図の正六角形の 6 つの頂点となる。

- (2) $z_1 = \sqrt{3}\left(\cos \frac{\pi}{6} + i \sin \frac{\pi}{6}\right)$, $z_2 = \sqrt{3}\left(\cos \frac{\pi}{2} + i \sin \frac{\pi}{2}\right)$ から、

$$z_1 z_2 = (\sqrt{3})^2 \left\{ \cos\left(\frac{\pi}{6} + \frac{\pi}{2}\right) + i \sin\left(\frac{\pi}{6} + \frac{\pi}{2}\right) \right\} = 3\left(\cos \frac{2}{3}\pi + i \sin \frac{2}{3}\pi\right)$$

すると、 $z_1 = \frac{3}{2} + \frac{\sqrt{3}}{2}i$, $z_2 = \sqrt{3}i$, $z_1 z_2 = -\frac{3}{2} + \frac{3}{2}\sqrt{3}i$ より、 $z_2 = \frac{z_1 + z_1 z_2}{2}$

よって、点 z_2 は点 z_1 と点 $z_1 z_2$ を結ぶ線分の中点となるので、3 点 $z_1, z_2, z_1 z_2$ は一直線上にある。

コメント

n 乗根と複素数平面を題材にした基本題です。