

1

解答解説のページへ

さいころを 7 回投げ、 k 回目 ($1 \leq k \leq 7$) に出る目を X_k とする。

- (1) 積 $X_1 X_2$ が 18 以下である確率を求めよ。
- (2) 積 $X_1 X_2 \cdots X_7$ が偶数である確率を求めよ。
- (3) 積 $X_1 X_2 \cdots X_7$ が 4 の倍数である確率を求めよ。
- (4) 積 $X_1 X_2 \cdots X_7$ を 3 で割ったときの余りが 1 である確率を求めよ。

2

解答解説のページへ

p, q を互いに素な 2 以上の整数, m, n は $m < n$ なる正の整数とする。このとき, 分母が p^2q^2 で, 分子が p でも q でも割り切れない分数のうち, m よりも大きく n よりも小さいものの総数を求めよ。

3

解答解説のページへ

放物線 $y = x^2$ 上の点 (a, a^2) における接線を l_a とする。

- (1) 直線 l_a が不等式 $y > -x^2 + 2x - 5$ の表す領域に含まれるような a の範囲を求めよ。
- (2) a が(1)で求めた範囲を動くとき、直線 l_a が通らない点 (x, y) 全体の領域 D を図示せよ。
- (3) 連立不等式

$$(y - x^2)(y + x^2 - 2x + 5) \leq 0, \quad y(y + 5) \leq 0$$

の表す領域を E とする。 D と E の共通部分の面積を求めよ。

4

解答解説のページへ

1 より小さい正の実数 a に対して、円 $C(a): (x+a-1)^2 + (y+a-1)^2 = 2a^2$ と定める。そのうえで、数列 $\{a_n\}$ を以下の方法によって定める。

- (i) $n=1$ のときは、円 $C(a)$ が x 軸と接するような定数 a の値を a_1 とする。さらに、円 $C(a_1)$ と x 軸との接点を P_1 とし、円 $C(a_1)$ の中心を Q_1 とおく。
- (ii) $n \geq 2$ のときは、円 $C(a)$ が直線 $P_{n-1}Q_{n-1}$ と接するような定数 a の値を a_n とする。さらに、円 $C(a_n)$ と直線 $P_{n-1}Q_{n-1}$ との接点を P_n とし、円 $C(a_n)$ の中心を Q_n とおく。

このとき、以下の問いに答えよ。

- (1) a_1 を求めよ。
- (2) a_2 を求めよ。
- (3) $\{a_n\}$ の一般項を求めよ。

1

問題のページへ

- (1) 積 $X_1 X_2$ が 18 より大となるのは、 $X_1 = X_2$ のとき $(X_1, X_2) = (5, 5), (6, 6)$ である。また、 $X_1 < X_2$ のとき $(X_1, X_2) = (4, 5), (4, 6), (5, 6)$ 、 $X_1 > X_2$ のときも同様になる。

よって、積 $X_1 X_2$ が 18 以下である確率は、 $1 - \frac{2+3 \cdot 2}{6^2} = \frac{7}{9}$ である。

- (2) 積 $X_1 X_2 \cdots X_7$ が奇数である確率は $\left(\frac{3}{6}\right)^7 = \frac{1}{128}$ から、偶数である確率は、

$$1 - \frac{1}{128} = \frac{127}{128}$$

- (3) 積 $X_1 X_2 \cdots X_7$ が 4 の倍数でない偶数であるのは、 X_1, X_2, \dots, X_7 のうちの 1 つが 2 または 6、残りが奇数の場合より、その確率は、 ${}^7C_1 \frac{2}{6} \left(\frac{3}{6}\right)^6 = \frac{7}{192}$ である。

よって、積 $X_1 X_2 \cdots X_7$ が 4 の倍数である確率は、(2) より、

$$\frac{127}{128} - \frac{7}{192} = \frac{367}{384}$$

- (4) さいころの出る目を 3 で割った余りが 0, 1, 2 の場合をそれぞれ R_0, R_1, R_2 とおくと、いずれの場合も起こる確率は $\frac{2}{6} = \frac{1}{3}$ である。

ここで、自然数を 3 で割った余りについて、2 数とその積の関係をもとめると右表のようになる。

すると、積 $X_1 X_2 \cdots X_7$ を 3 で割ったときの余りが 1 であるのは、 X_1, X_2, \dots, X_7 のうち、 R_1 が 7 回、または R_1 が 5 回で R_2 が 2 回、または R_1 が 3 回で R_2 が 4 回、

または R_1 が 1 回で R_2 が 6 回という 4 通りの場合があり、その確率は、

$$\left(\frac{1}{3}\right)^7 + {}^7C_2 \left(\frac{1}{3}\right)^5 \left(\frac{1}{3}\right)^2 + {}^7C_4 \left(\frac{1}{3}\right)^3 \left(\frac{1}{3}\right)^4 + {}^7C_6 \frac{1}{3} \left(\frac{1}{3}\right)^6 = 64 \left(\frac{1}{3}\right)^7 = \frac{64}{2187}$$

	R_0	R_1	R_2
R_0	R_0	R_0	R_0
R_1	R_0	R_1	R_2
R_2	R_0	R_2	R_1

[解説]

確率の頻出問題です。(4)は、積が R_1 となるのは、 R_0 が 0 回で、 R_2 が 0 または偶数回という意味です。

2

問題のページへ

互いに素な 2 以上の整数 p, q に対して、分母が p^2q^2 である分数で、0 より大きく 1 以下の数は、

$$\frac{1}{p^2q^2}, \frac{2}{p^2q^2}, \frac{3}{p^2q^2}, \dots, \frac{p^2q^2-1}{p^2q^2}, \frac{p^2q^2}{p^2q^2}$$

この分数の中で、分子が p の倍数であるものは $\frac{p}{p^2q^2}, \frac{2p}{p^2q^2} \dots, \frac{p^2q^2}{p^2q^2}$ より pq^2 個、
分子が q の倍数であるものは $\frac{q}{p^2q^2}, \frac{2q}{p^2q^2} \dots, \frac{p^2q^2}{p^2q^2}$ より p^2q 個、また分子が pq の
倍数であるものは $\frac{pq}{p^2q^2}, \frac{2pq}{p^2q^2} \dots, \frac{p^2q^2}{p^2q^2}$ より pq 個ある。

すると、分子が p でも q でも割り切れない分数の個数は、

$$p^2q^2 - (pq^2 + p^2q - pq) = pq(pq - p - q + 1) = pq(p-1)(q-1)$$

よって、正の整数 $m, n (m < n)$ に対して、 m よりも大きく n よりも小さく、分母が p^2q^2 で、分子が p でも q でも割り切れない分数の総数は、 $pq(p-1)(q-1)(n-m)$ である。

[解説]

0 より大きく 1 以下の分数について調べた後、 m より大きく $m+1$ 以下の数、 $m+1$ より大きく $m+2$ 以下の数、…と同様に考えています。

3

問題のページへ

(1) $y = x^2$ に対して, $y' = 2x$ となり, 点 (a, a^2) における接線 l_a の方程式は,

$$y - a^2 = 2a(x - a), \quad y = 2ax - a^2 \dots\dots\dots ①$$

直線 l_a が不等式 $y > -x^2 + 2x - 5 \dots\dots\dots ②$ の表す領域に含まれることより, ①を②

に代入して,

$$2ax - a^2 > -x^2 + 2x - 5, \quad x^2 + 2(a-1)x - a^2 + 5 > 0 \dots\dots\dots ③$$

③が任意の x に対して成立することより,

$$D/4 = (a-1)^2 - (-a^2 + 5) = 2(a^2 - a - 2) < 0$$

すると, $(a-2)(a+1) < 0$ より, $-1 < a < 2$ である。

(2) 直線 l_a が通らない点 (x, y) は, ①より, $a^2 - 2xa + y = 0$ が $-1 < a < 2$ に実数解をもたない条件として求めることができる。

ここで, $f(a) = a^2 - 2xa + y = (a-x)^2 - x^2 + y$ とおくと,

(i) $x \leq -1$ のとき

(a) $f(-1) = 1 + 2x + y \geq 0$ より, $y \geq -2x - 1$

(b) $f(2) = 4 - 4x + y \leq 0$ より, $y \leq 4x - 4$

(ii) $-1 < x < 2$ のとき

(a) $f(x) = -x^2 + y > 0$ より, $y > x^2$

(b) $f(-1) = 1 + 2x + y \leq 0, f(2) = 4 - 4x + y \leq 0$ より,
 $y \leq -2x - 1, y \leq 4x - 4$

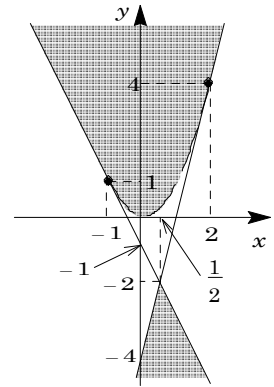
(iii) $x \geq 2$ のとき

(a) $f(-1) = 1 + 2x + y \leq 0$ より, $y \leq -2x - 1$

(b) $f(2) = 4 - 4x + y \geq 0$ より, $y \geq 4x - 4$

(i)~(iii)より, 点 (x, y) 全体の領域 D は右上図の網点部となる。

ただし, 破線の境界線のみ領域に含まない。



(3) 不等式 $(y - x^2)(y + x^2 - 2x + 5) \leq 0$ を変形すると,

$$x^2 > -x^2 + 2x - 5 \text{ より,}$$

$$-x^2 + 2x - 5 \leq y \leq x^2 \dots\dots\dots ④$$

また, $y(y + 5) \leq 0$ より,

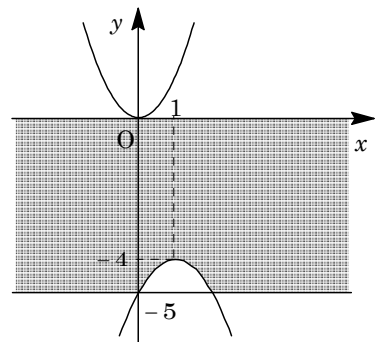
$$-5 \leq y \leq 0 \dots\dots\dots ⑤$$

よって, 連立不等式④⑤の表す領域 E は右図の網点部となる。ただし, 境界は領域に含む。

さて, 直線 $y = -2x - 1$ と放物線 $y = -x^2 + 2x - 5$ を連立すると,

$$-2x - 1 = -x^2 + 2x - 5, \quad x^2 - 4x + 4 = 0$$

重解 $x = 2$ をもつことより, $x = 2$ で接する。



また、直線 $y = 4x - 4$ と放物線 $y = -x^2 + 2x - 5$ を連立すると、

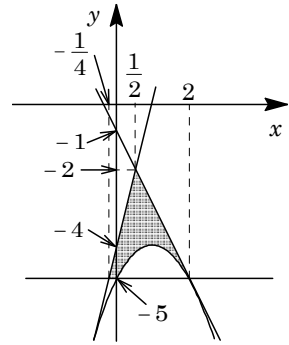
$$4x - 4 = -x^2 + 2x - 5, \quad x^2 + 2x + 1 = 0$$

重解 $x = -1$ をもつことより、 $x = -1$ で接する。

これより、領域 D と E の共通部分を図示すると、右図の網点部となる。ただし、境界は領域に含む。

そこで、この共通部分の面積を S とすると、

$$\begin{aligned} S &= \frac{1}{2} \left(2 + \frac{1}{4} \right) (-2 + 5) - \int_0^2 (-x^2 + 2x - 5 + 5) dx \\ &= \frac{27}{8} - \int_0^2 -x(x-2) dx = \frac{27}{8} - \frac{1}{6} \cdot 2^3 = \frac{49}{24} \end{aligned}$$



[解説]

計算量の多い問題で、時間はかなり必要です。(2)はオーソドックスに解きましたが、図形的に解くのが出題者の意図かもしれません。

4

問題のページへ

- (1) $0 < a < 1$ から, 円 $C(a): (x+a-1)^2 + (y+a-1)^2 = 2a^2$ は, 中心 $(1-a, 1-a)$ で半径 $\sqrt{2}a$ である。

ここで, $a = a_1$ のとき, $C(a_1)$ が x 軸と接する条件は,

$$1 - a_1 = \sqrt{2}a_1, (\sqrt{2} + 1)a_1 = 1$$

$$\text{よって, } a_1 = \frac{1}{\sqrt{2} + 1} = \sqrt{2} - 1$$

- (2) (1) より, $P_1(2 - \sqrt{2}, 0)$, $Q_1(2 - \sqrt{2}, 2 - \sqrt{2})$ となり, 直線 P_1Q_1 は $x = 2 - \sqrt{2}$ である。

条件より, 円 $C(a_2)$ は直線 P_1Q_1 と接することより,

$$|(1 - a_2) - (2 - \sqrt{2})| = \sqrt{2}a_2, \sqrt{2} - 1 - a_2 = \pm\sqrt{2}a_2$$

- (i) $\sqrt{2} - 1 - a_2 = \sqrt{2}a_2$ のとき

$$(\sqrt{2} + 1)a_2 = \sqrt{2} - 1 \text{ より, } a_2 = \frac{\sqrt{2} - 1}{\sqrt{2} + 1} = (\sqrt{2} - 1)^2 = 3 - 2\sqrt{2}$$

- (ii) $\sqrt{2} - 1 - a_2 = -\sqrt{2}a_2$ のとき

$$-(\sqrt{2} - 1)a_2 = \sqrt{2} - 1 \text{ となり, } 0 < a_2 < 1 \text{ に反する。}$$

- (i)(ii) より, $a_2 = 3 - 2\sqrt{2}$ である。

- (3) 円 $C(a_n)$ は中心 $(1 - a_n, 1 - a_n)$ で半径 $\sqrt{2}a_n$ であり, 直線 $P_{n-1}Q_{n-1}$ は $x = 1 - a_{n-1}$ または $y = 1 - a_{n-1}$ である。

条件より, 円 $C(a_n)$ と直線 $P_{n-1}Q_{n-1}$ が接するので,

$$|(1 - a_n) - (1 - a_{n-1})| = \sqrt{2}a_n, a_{n-1} - a_n = \pm\sqrt{2}a_n$$

- (i) $a_{n-1} - a_n = \sqrt{2}a_n$ のとき

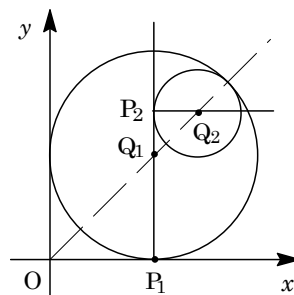
$$(\sqrt{2} + 1)a_n = a_{n-1} \text{ より, } a_n = \frac{1}{\sqrt{2} + 1} a_{n-1} = (\sqrt{2} - 1)a_{n-1} = a_1(\sqrt{2} - 1)^{n-1}$$

$$(1) \text{ より, } a_1 = \sqrt{2} - 1 \text{ なので, } a_n = (\sqrt{2} - 1)^n$$

- (ii) $a_{n-1} - a_n = -\sqrt{2}a_n$ のとき

$$-(\sqrt{2} - 1)a_n = a_{n-1} \text{ となり, } 0 < a_n < 1, 0 < a_{n-1} < 1 \text{ に反する。}$$

- (i)(ii) より, $a_n = (\sqrt{2} - 1)^n$ である。



[解説]

(3)では, n を偶奇に分けて処理が必要かとも思いましたが, 対称性から不要でした。なお, 円 $C(a)$ は a の値にかかわらず定点 $(1, 1)$ を通ることに注目すると, 場合分けが必要ありません。