

1

解答解説のページへ

a, b を正の定数とする。 $0 < \theta < \pi$ を満たす実数 θ に対し、平面上で、次の 3 つの条件 (i), (ii), (iii) を満たす三角形 PAB, およびこの三角形と辺 AB を共有する長方形 ABCD を考える。

- (i) $PA = a, PB = b, \angle APB = \theta$ である。
- (ii) 2 点 C, D はともに直線 AB に関して点 P と反対側にある。
- (iii) $AB = 3AD$ である。

三角形 PAB の面積と長方形 ABCD の面積の和を S とする。次の問いに答えよ。

- (1) 辺 AB の長さを a, b, θ を用いて表せ。
- (2) S を a, b, θ を用いて表せ。
- (3) θ が $0 < \theta < \pi$ の範囲を動くときの S の最大値を M とし、 S が最大値 M をとるとき θ の値を β とする。 M を a, b を用いて表せ。また、 $\sin \beta$ および $\cos \beta$ の値をそれぞれ求めよ。
- (4) $a = 16, b = 25$ とする。また、 β を (3) で定めた値とする。 $\theta = \beta$ のときの、点 P と直線 AB の距離を求めよ。

2

解答解説のページへ

i を虚数単位とする。 $z \neq -1$ を満たす複素数 z に対し、 $w = \frac{z-i}{z+1}$ とおく。次の問いに答えよ。

- (1) $z \neq -1$ のとき $w \neq 1$ であることを示せ。また、 $w \neq 1$ のとき、 z を w を用いて表せ。
- (2) t を -1 と異なる実数とする。複素数平面において、実部が t である複素数全体の描く直線を l_t とおく。点 z が直線 l_t 上を動くとき、点 w はある円 S_t から 1 点を取り除いた図形の上を動く。この円 S_t の中心 P_t に対応する複素数を t を用いて表せ。
- (3) P_t を(2)で定義した点とする。 t が -1 以外の実数全体を動くときに P_t が描く図形を、複素数平面上に図示せよ。

3

解答解説のページへ

関数 $f(x) = xe^{-2x^2}$ について、次の問いに答えよ。ただし、 e は自然対数の底とする。

- (1) 関数 $f(x)$ の極大値および極小値を求めよ。また、極大値をとるときの x の値、および極小値をとるときの x の値を求めよ。
- (2) $a > 0$ とし、点 $A(a, 0)$ を考える。また、座標平面上の曲線 $y = f(x)$ 上の点 $(t, f(t))$ における接線を l_t とおく。 l_t が点 A を通るような実数 t がちょうど 2 つあるとする。このとき、 a の値を求めよ。さらに、その 2 つの t の値を p, q (ただし、 $p < q$) とおくと、 p, q を求めよ。
- (3) q を(2)で定めた値とする。曲線 $y = f(x)$ 、直線 $x = q$ および x 軸で囲まれた図形の面積を求めよ。

4

解答解説のページへ

n を正の整数とする。次の問いに答えよ。

- (1) 定積分 $\int_0^{\frac{\pi}{n}} \sin nx dx$ の値を求めよ。
- (2) 定積分 $\int_0^{\pi} |\sin nx| dx$ の値を求めよ。
- (3) 座標平面において連立不等式 $0 \leq x \leq \pi$, $0 \leq y \leq \frac{1}{2}$, $y \leq |\sin nx|$ の表す図形を, x 軸のまわりに 1 回転してできる回転体の体積を求めよ。
- (4) 座標平面において連立不等式 $0 \leq x \leq \pi$, $0 \leq y \leq \sqrt{x} |\sin nx|$ の表す図形を, x 軸のまわりに 1 回転してできる回転体の体積を求めよ。

5

解答解説のページへ

1 個のさいころを 3 回投げる。1 回目に出た目を a_1 ，2 回目に出た目を a_2 ，3 回目に出た目を a_3 とする。次に，1 枚の硬貨を 3 回投げる。 $k=1, 2, 3$ に対し， k 回目に表が出た場合は $b_k=1$ ，裏が出た場合は $b_k=a_k$ とおく。ベクトル $\vec{a}=(a_1, a_2, a_3)$ ， $\vec{b}=(b_1, b_2, b_3)$ を考える。次の問いに答えよ。

- (1) $a_1 + a_2 + a_3 = 7$ である確率を求めよ。
- (2) $b_1 = 1$ である確率を求めよ。
- (3) $\vec{b}=(1, 1, 1)$ であったとき， $\vec{a}=(1, 1, 5)$ である条件付き確率を求めよ。
- (4) $\vec{b}=(1, 1, 1)$ であったとき， $a_1 + a_2 + a_3 = 7$ である条件付き確率を求めよ。

1

(1) 右図の $\triangle PAB$ に余弦定理を適用すると、

$$AB = \sqrt{a^2 + b^2 - 2ab\cos\theta}$$

(2) $\triangle PAB$ の面積と長方形 $ABCD$ の面積の和を S とすると、

$$AD = \frac{1}{3}AB \text{ より, (1)の結果を利用して,}$$

$$\begin{aligned} S &= \frac{1}{2}ab\sin\theta + AB \cdot \frac{1}{3}AB \\ &= \frac{1}{2}ab\sin\theta + \frac{1}{3}(a^2 + b^2 - 2ab\cos\theta) \\ &= \frac{1}{3}a^2 + \frac{1}{3}b^2 + \frac{1}{6}ab(3\sin\theta - 4\cos\theta) \end{aligned}$$

(3) $f(\theta) = 3\sin\theta - 4\cos\theta$ とおくと、 $f(\theta) = 5\sin(\theta + \alpha)$ となり、

$$\cos\alpha = \frac{3}{5}, \quad \sin\alpha = -\frac{4}{5}$$

ここで、 $0 < \theta < \pi$ のとき $\alpha < \theta + \alpha < \pi + \alpha$ となり、 α が第4象限の角であることに注意すると、 $\theta + \alpha = \frac{\pi}{2}$ ($\theta = \frac{\pi}{2} - \alpha$)のとき $f(\theta)$ は最大値5をとる。

これより、 S の最大値 M は、 $M = \frac{1}{3}a^2 + \frac{1}{3}b^2 + \frac{5}{6}ab$ である。

このとき $\theta = \beta$ なので、 $\beta = \frac{\pi}{2} - \alpha$ から、

$$\sin\beta = \sin\left(\frac{\pi}{2} - \alpha\right) = \cos\alpha = \frac{3}{5}, \quad \cos\beta = \cos\left(\frac{\pi}{2} - \alpha\right) = \sin\alpha = -\frac{4}{5}$$

(4) $a = 16$ 、 $b = 25$ 、 $\sin\beta = \frac{3}{5}$ のとき、 $\triangle PAB = \frac{1}{2} \cdot 16 \cdot 25 \cdot \frac{3}{5} = 120$

また、 $\cos\beta = -\frac{4}{5}$ から、 $AB = \sqrt{16^2 + 25^2 - 2 \cdot 16 \cdot 25 \cdot \left(-\frac{4}{5}\right)} = \sqrt{1521} = 39$ となり、

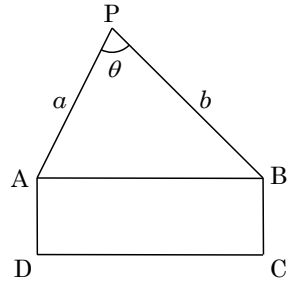
点 P と直線 AB の距離を h とおくと、 $\triangle PAB = \frac{39}{2}h$ となるので、

$$\frac{39}{2}h = 120, \quad h = 120 \cdot \frac{2}{39} = \frac{80}{13}$$

[解説]

三角比の図形への応用問題です。(3)で $f(\theta)$ の最大値を求める際に、内積という見方をした方がすっきりしますが、ここでは問題文に α でなく β が指定してある点に注目し、出題者の意図も付度して \sin での合成で処理しました。

問題のページへ



2

問題のページへ

- (1) $z \neq -1$ を満たす複素数 z に対し, $w = \frac{z-i}{z+1}$ ……①において, $w = 1$ とすると,

$$1 = \frac{z-i}{z+1}, \quad z+1 = z-i$$

これから, $1 = -i$ となり成立しない。よって, $w \neq 1$ である。

このとき, ①から, $(z+1)w = z-i$ となり, $(w-1)z = -w-i$ から,

$$z = -\frac{w+i}{w-1} \dots\dots\dots ②$$

- (2) 点 z は, 実部 $t (t \neq -1)$ の直線 l_t 上を動くことより, $\frac{z+\bar{z}}{2} = t$ ……③

②を③に代入すると, $-\frac{w+i}{w-1} - \frac{\bar{w}-i}{w-1} = 2t$ となり, $w \neq 1$ のもとで,

$$2t(w-1)(\bar{w}-1) + (w+i)(\bar{w}-1) + (w-1)(\bar{w}-i) = 0$$

$$(2t+2)w\bar{w} - (2t+1+i)w - (2t+1-i)\bar{w} + 2t = 0$$

$t \neq -1$ から, $w\bar{w} - \frac{2t+1+i}{2t+2}w - \frac{2t+1-i}{2t+2}\bar{w} + \frac{t}{t+1} = 0$ ……④

ここで, $\alpha = \frac{2t+1-i}{2t+2}$ とおくと $|\alpha|^2 = \frac{(2t+1)^2+1}{4(t+1)^2} = \frac{2t^2+2t+1}{2(t+1)^2}$ となり, ④より,

$$w\bar{w} - \alpha w - \bar{\alpha}\bar{w} + \frac{t}{t+1} = 0, \quad (w-\alpha)(\bar{w}-\bar{\alpha}) = \frac{2t^2+2t+1}{2(t+1)^2} - \frac{t}{t+1}$$

$$|w-\alpha|^2 = \frac{1}{2(t+1)^2}, \quad |w-\alpha| = \frac{1}{\sqrt{2}|t+1|} \dots\dots\dots ⑤$$

⑤より, 点 w の軌跡は, 中心が点 α , 半径が $\frac{1}{\sqrt{2}|t+1|}$ の円から, 点 1 を除いたも

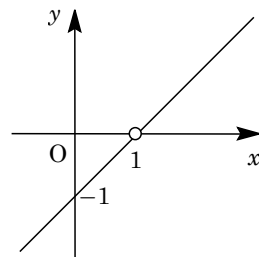
のになる。よって, 円の中心 P_t に対応する複素数は $\alpha = \frac{2t+1-i}{2t+2}$ である。

- (3) $\alpha = x + yi$ とおくと, $x = \frac{2t+1}{2t+2}$ ……⑥, $y = -\frac{1}{2t+2}$ ……⑦

⑦より, $2t+2 = -\frac{1}{y} (y \neq 0)$ となり, ⑥に代入すると,

$$x = 1 - \frac{1}{2t+2} = 1 + y, \quad y = x - 1 (y \neq 0)$$

よって, P_t が描く図形を複素数平面上に図示すると, 右図の直線となる。ただし, 点 1 は除く。



[解説]

複素数平面上の変換についての有名問題です。なお, 直線 l_t は③式で表しましたが, $|z| = |z-2t|$ から始める方法も考えられます。

3

問題のページへ

(1) $f(x) = xe^{-2x^2}$ に対して,

$$f'(x) = e^{-2x^2} + x(-4x)e^{-2x^2} = (1-4x^2)e^{-2x^2} = (1+2x)(1-2x)e^{-2x^2}$$

すると, $f(x)$ は増減が右表のようになり, $x = \frac{1}{2}$ のとき極大値 $\frac{1}{2}e^{-\frac{1}{2}}$, $x = -\frac{1}{2}$ のとき極小値 $-\frac{1}{2}e^{-\frac{1}{2}}$ をとる。

x	...	$-\frac{1}{2}$...	$\frac{1}{2}$...
$f'(x)$	-	0	+	0	-
$f(x)$	\searrow	$-\frac{1}{2}e^{-\frac{1}{2}}$	\nearrow	$\frac{1}{2}e^{-\frac{1}{2}}$	\searrow

(2) 点 $(t, f(t))$ における接線 l は,

$$y - te^{-2t^2} = (1-4t^2)e^{-2t^2}(x-t)$$

l が点 $A(a, 0)$ を通ることより, $-te^{-2t^2} = (1-4t^2)e^{-2t^2}(a-t)$ となり,

$$-t = (1-4t^2)(a-t), \quad -t = a - 4at^2 - t + 4t^3, \quad 4t^3 - 4at^2 + a = 0 \dots\dots\dots(*)$$

ここで, $g(t) = 4t^3 - 4at^2 + a$ とおくと, $(*)$ は $g(t) = 0$ となり,

$$g'(t) = 12t^2 - 8at = 4t(3t - 2a)$$

$a > 0$ から, $g(t)$ の増減は右表のようになる。そして, 点 A を通る l が 2 本, すなわち $(*)$ が 2 つの解をもつ条件は $g(\frac{2}{3}a) = 0$ より,

t	...	0	...	$\frac{2}{3}a$...
$g'(t)$	+	0	-	0	+
$g(t)$	\nearrow	a	\searrow		\nearrow

$$\frac{32}{27}a^3 - \frac{16}{9}a^3 + a = 0, \quad -\frac{16}{27}a^3 + a = 0$$

すると, $a > 0$ より, $a = \sqrt{\frac{27}{16}} = \frac{3}{4}\sqrt{3}$ となる。

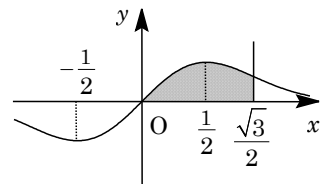
このとき, $(*)$ は, $4t^3 - 3\sqrt{3}t^2 + \frac{3}{4}\sqrt{3} = 0$ となり, $(t - \frac{\sqrt{3}}{2})^2(4t + \sqrt{3}) = 0$

よって, $t = \frac{\sqrt{3}}{2}$, $-\frac{\sqrt{3}}{4}$ から, $p = -\frac{\sqrt{3}}{4}$, $q = \frac{\sqrt{3}}{2}$ となる。

(3) 曲線 $y = f(x)$, 直線 $x = \frac{\sqrt{3}}{2}$ および x 軸で囲まれた図

形の面積 S は,

$$S = \int_0^{\frac{\sqrt{3}}{2}} xe^{-2x^2} dx = \left[-\frac{1}{4}e^{-2x^2} \right]_0^{\frac{\sqrt{3}}{2}} = -\frac{1}{4}(e^{-\frac{3}{2}} - 1) = \frac{1}{4}(1 - e^{-\frac{3}{2}})$$



[解説]

微積分の総合問題です。(2)の後半は, $(*)$ が重解 $t = \frac{2}{3}a$ をもつことに注目すると, 容易に計算が進みます。

4

問題のページへ

$$(1) \int_0^{\frac{\pi}{n}} \sin nx \, dx = \left[-\frac{1}{n} \cos nx \right]_0^{\frac{\pi}{n}} = -\frac{1}{n}(-1-1) = \frac{2}{n}$$

$$(2) f_n(x) = |\sin nx| \text{ とおくと, } f_n\left(x + \frac{\pi}{n}\right) = \left| \sin n\left(x + \frac{\pi}{n}\right) \right| \text{ から,}$$

$$f_n\left(x + \frac{\pi}{n}\right) = |\sin(nx + \pi)| = |-\sin nx| = |\sin nx| = f_n(x)$$

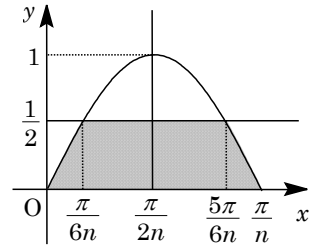
これより, $f_n(x)$ は周期 $\frac{\pi}{n}$ の周期関数であるので, (1)の結果から,

$$\int_0^{\pi} |\sin nx| \, dx = n \int_0^{\frac{\pi}{n}} |\sin nx| \, dx = n \int_0^{\frac{\pi}{n}} \sin nx \, dx = n \cdot \frac{2}{n} = 2$$

$$(3) 0 \leq x \leq \pi, 0 \leq y \leq \frac{1}{2}, y \leq |\sin nx| \text{ の表す図形を, } x$$

軸のまわりに 1 回転してできる回転体の体積を V とおく。

ここで, $f_n(x)$ の周期性に注目すると, V は区間 $0 \leq x \leq \frac{\pi}{n}$ における回転体の体積の n 倍になり, さらに直線 $x = \frac{\pi}{2n}$ に関する対称性を考え合わせると,



$$\begin{aligned} \frac{V}{2n} &= \pi \int_0^{\frac{\pi}{6n}} \sin^2 nx \, dx + \pi \left(\frac{1}{2}\right)^2 \left(\frac{\pi}{2n} - \frac{\pi}{6n}\right) = \frac{\pi}{2} \int_0^{\frac{\pi}{6n}} (1 - \cos 2nx) \, dx + \frac{\pi^2}{12n} \\ &= \frac{\pi}{2} \left[x - \frac{1}{2n} \sin 2nx \right]_0^{\frac{\pi}{6n}} + \frac{\pi^2}{12n} = \frac{\pi}{2} \left(\frac{\pi}{6n} - \frac{1}{2n} \cdot \frac{\sqrt{3}}{2} \right) + \frac{\pi^2}{12n} = \frac{\pi^2}{6n} - \frac{\sqrt{3}\pi}{8n} \end{aligned}$$

よって, $V = 2n \left(\frac{\pi^2}{6n} - \frac{\sqrt{3}\pi}{8n} \right) = \frac{\pi^2}{3} - \frac{\sqrt{3}\pi}{4}$ である。

$$(4) 0 \leq x \leq \pi, 0 \leq y \leq \sqrt{x} |\sin nx| \text{ の表す図形を, } x \text{ 軸のまわりに 1 回転してできる}$$

回転体の体積を W とおくと,

$$\begin{aligned} W &= \pi \int_0^{\pi} x \sin^2 nx \, dx = \frac{\pi}{2} \int_0^{\pi} x (1 - \cos 2nx) \, dx \\ &= \frac{\pi}{2} \left[x \left(x - \frac{1}{2n} \sin 2nx \right) \right]_0^{\pi} - \frac{\pi}{2} \int_0^{\pi} \left(x - \frac{1}{2n} \sin 2nx \right) dx \\ &= \frac{\pi}{2} \cdot \pi^2 - \frac{\pi}{2} \left[\frac{x^2}{2} + \frac{1}{4n^2} \cos 2nx \right]_0^{\pi} = \frac{\pi^3}{2} - \frac{\pi}{2} \cdot \frac{\pi^2}{2} = \frac{\pi^3}{4} \end{aligned}$$

[解説]

回転体の体積計算の問題です。ただ, 流れを意識しながら解いていくと, 設問(4)には戸惑いを感じます。

5

問題のページへ

- (1) さいころを3回投げ、1回目に出た目を a_1 、2回目に出た目を a_2 、3回目に出た目を a_3 とするとき、 $a_1 + a_2 + a_3 = 7$ である事象を A とおく。

このとき、 $\{a_1, a_2, a_3\}$ の組合せは、

$$\{a_1, a_2, a_3\} = \{1, 1, 5\}, \{1, 2, 4\}, \{1, 3, 3\}, \{2, 2, 3\}$$

よって、事象 A の確率は、 $P(A) = \frac{1}{6^3} \times (3 + 3! + 3 + 3) = \frac{5}{72}$ である。

- (2) さいころを3回投げた後に、1枚の硬貨を3回投げる。 $k=1, 2, 3$ として、 k 回目
が表の場合は $b_k = 1$ 、裏の場合は $b_k = a_k$ とおく。

このとき、 $b_1 = 1$ であるのは、 $a_1 = 1$ のときは硬貨の出方は任意、 $a_1 \neq 1$ のときは硬貨が表の出る場合より、その確率は、

$$\frac{1}{6} \times 1 + \frac{5}{6} \times \frac{1}{2} = \frac{7}{12}$$

- (3) $\vec{b} = (b_1, b_2, b_3) = (1, 1, 1)$ である事象を B とおくと、(2)から、

$$P(B) = \frac{7}{12} \times \frac{7}{12} \times \frac{7}{12} = \frac{7^3}{2^6 \cdot 3^3}$$

次に、 $\vec{a} = (a_1, a_2, a_3) = (1, 1, 5)$ である事象を A' とおく。

すると、事象 $A' \cap B$ すなわち $\vec{a} = (1, 1, 5)$ かつ $\vec{b} = (1, 1, 1)$ であるのは、さいころの1回目、2回目に1、3回目に5出て、次に硬貨の1回目、2回目は任意、3回目に表が出る場合より、その確率は、

$$P(A' \cap B) = \frac{1}{6} \times \frac{1}{6} \times \frac{1}{6} \times 1 \times 1 \times \frac{1}{2} = \frac{1}{2^4 \cdot 3^3}$$

よって、 $\vec{b} = (1, 1, 1)$ であったとき、 $\vec{a} = (1, 1, 5)$ である条件付き確率は、

$$P_B(A') = \frac{P(B \cap A')}{P(B)} = \frac{P(A' \cap B)}{P(B)} = \frac{1}{2^4 \cdot 3^3} \div \frac{7^3}{2^6 \cdot 3^3} = \frac{4}{343}$$

- (4) $\{a_1, a_2, a_3\} = \{1, 1, 5\}$ である事象を A_1 、 $\{a_1, a_2, a_3\} = \{1, 2, 4\}$ である事象を A_2 、 $\{a_1, a_2, a_3\} = \{1, 3, 3\}$ である事象を A_3 、 $\{a_1, a_2, a_3\} = \{2, 2, 3\}$ である事象を A_4 とおくと、(1)より $A = A_1 \cup A_2 \cup A_3 \cup A_4$ となる。

- (i) $\{a_1, a_2, a_3\} = \{1, 1, 5\}$ かつ $\vec{b} = (1, 1, 1)$ のとき

$$P(A_1 \cap B) = \frac{1}{6} \times \frac{1}{6} \times \frac{1}{6} \times 1 \times 1 \times \frac{1}{2} \times 3 = \frac{3}{2 \cdot 6^3}$$

- (ii) $\{a_1, a_2, a_3\} = \{1, 2, 4\}$ かつ $\vec{b} = (1, 1, 1)$ のとき

$$P(A_2 \cap B) = \frac{1}{6} \times \frac{1}{6} \times \frac{1}{6} \times 1 \times \frac{1}{2} \times \frac{1}{2} \times 3! = \frac{6}{2^2 \cdot 6^3}$$

- (iii) $\{a_1, a_2, a_3\} = \{1, 3, 3\}$ かつ $\vec{b} = (1, 1, 1)$ のとき

$$P(A_3 \cap B) = \frac{1}{6} \times \frac{1}{6} \times \frac{1}{6} \times 1 \times \frac{1}{2} \times \frac{1}{2} \times 3 = \frac{3}{2^2 \cdot 6^3}$$

(iv) $\{a_1, a_2, a_3\} = \{2, 2, 3\}$ かつ $\vec{b} = (1, 1, 1)$ のとき

$$P(A_4 \cap B) = \frac{1}{6} \times \frac{1}{6} \times \frac{1}{6} \times \frac{1}{2} \times \frac{1}{2} \times \frac{1}{2} \times 3 = \frac{3}{2^3 \cdot 6^3}$$

(i)～(iv)より, $P(A \cap B) = \frac{3}{2 \cdot 6^3} + \frac{6}{2^2 \cdot 6^3} + \frac{3}{2^2 \cdot 6^3} + \frac{3}{2^3 \cdot 6^3} = \frac{33}{2^3 \cdot 6^3} = \frac{11}{2^6 \cdot 3^2}$

よって, $\vec{b} = (1, 1, 1)$ であつたとき, $a_1 + a_2 + a_3 = 7$ である条件付き確率は,

$$P_B(A) = \frac{P(B \cap A)}{P(B)} = \frac{P(A \cap B)}{P(B)} = \frac{11}{2^6 \cdot 3^2} \div \frac{7^3}{2^6 \cdot 3^3} = \frac{33}{343}$$

[解説]

条件付き確率を求める問題です。非常に細かな誘導が付いています。文系では, 空間ベクトルを平面ベクトルに変更した設定で出題されています。