

1

解答解説のページへ

1 回の試行ごとに赤玉か白玉を 1 個出す機械を考える。この機械からは 1 回目の試行では赤玉か白玉がそれぞれ $\frac{1}{2}$ の確率で出るが、2 回目以降には直前に出たものと同じ色の玉が α の確率で、直前に出たものと異なる色の玉が $1-\alpha$ の確率で、それぞれ出るものとする。ただし、 α は $0 < \alpha < 1$ を満たす定数とする。 $(n+m)$ 回目の試行を終えた時点で赤玉が n 個、白玉が m 個出ている確率を $P_{n,m}$ とする。次の問いに答えよ。

- (1) $P_{2,2}$ を α の式で表せ。
- (2) $P_{n,1}$ ($n=1, 2, 3, \dots$) を α と n の式で表せ。
- (3) $P_{4,1}$ の値が最大となる α を求めよ。

2

解答解説のページへ

数列 $\{a_n\}$, $\{b_n\}$ をそれぞれ $a_n = \frac{5^{2^{n-1}} - 1}{2^{n+1}}$, $b_n = \frac{a_{n+1}}{a_n}$ ($n = 1, 2, 3, \dots$) により定め

る。ただし、 $5^{2^{n-1}}$ は 5 の 2^{n-1} 乗を表す。次の問いに答えよ。

- (1) a_1, a_2, a_3 を求めよ。
- (2) すべての自然数 n について b_n は整数であることを示せ。
- (3) すべての自然数 n について a_n は整数であることを示せ。
- (4) すべての自然数 n について a_n は奇数であることを示せ。

3

解答解説のページへ

平面上の直線 $l_1 : y = \sqrt{3}x$, $l_2 : y = -\sqrt{3}x$, $l_3 : y = 0$ を考える。点 $P_0(\cos t_0, \sin t_0)$ ($0 \leq t_0 \leq \frac{\pi}{3}$) に対して、 l_1 , 原点, l_2 , 原点, l_3 , 原点に関して対称な点を次々にとることにより、点 P_1 から P_6 を定める。つまり、 P_0 と l_1 に関して対称な点が P_1 であり、 P_1 と原点に関して対称な点が P_2 であり、以下、同様に P_3, P_4, P_5, P_6 を定める。また、 P_6 から始めて、再び l_1 , 原点, l_2 , 原点, l_3 , 原点に関して対称な点を次々にとることにより、点 P_7 から P_{12} を定める。つまり、 P_6 と l_1 に関して対称な点が P_7 であり、 P_7 と原点に関して対称な点が P_8 であり、以下、同様に $P_9, P_{10}, P_{11}, P_{12}$ を定める。さらに、 t_i ($i = 1, 2, 3, \dots, 12$) を P_i の座標が $(\cos t_i, \sin t_i)$ ($0 \leq t_i < 2\pi$) となる実数とする。次の問いに答えよ。

- (1) $t_0 = \frac{\pi}{4}$ のとき、 t_1 と t_2 を求めよ。
- (2) t_6 を t_0 の式で表し、 P_6 は不等式 $0 \leq y \leq \sqrt{3}x$ の表す領域の点であることを示せ。
- (3) $P_0 = P_{12}$ を示せ。

4

解答解説のページへ

座標平面上で、原点 O と点 $A(1, 3)$ を結ぶ線分 OA を考える。与えられた点 P に対し、 P と線分 OA の距離を $d(P)$ とおく。すなわち $d(P)$ は、点 Q が線分 OA 上を動くときの線分 PQ の長さの最小値である。次の問いに答えよ。

- (1) 点 P の座標が $(5, 2)$ のとき、 $d(P)$ の値を求めよ。
- (2) 点 P の座標が (a, b) のとき、 $d(P)$ を a, b の式で表せ。
- (3) 放物線 $y = x^2$ 上にあり、 $d(P) = \sqrt{10}$ を満たす点 P の x 座標をすべて求めよ。

1

問題のページへ

(1) 4 回目の試行を終えた時点で、赤玉が 2 個、白玉が 2 個出ているのは、

- ・ 白→白→赤→赤と出るとき この確率は $\frac{1}{2}\alpha(1-\alpha)\alpha = \frac{1}{2}\alpha^2(1-\alpha)$
- ・ 白→赤→白→赤と出るとき この確率は $\frac{1}{2}(1-\alpha)(1-\alpha)(1-\alpha) = \frac{1}{2}(1-\alpha)^3$
- ・ 白→赤→赤→白と出るとき この確率は $\frac{1}{2}(1-\alpha)\alpha(1-\alpha) = \frac{1}{2}\alpha(1-\alpha)^2$
- ・ 赤→赤→白→白と出るとき この確率は $\frac{1}{2}\alpha(1-\alpha)\alpha = \frac{1}{2}\alpha^2(1-\alpha)$
- ・ 赤→白→赤→白と出るとき この確率は $\frac{1}{2}(1-\alpha)(1-\alpha)(1-\alpha) = \frac{1}{2}(1-\alpha)^3$
- ・ 赤→白→白→赤と出るとき この確率は $\frac{1}{2}(1-\alpha)\alpha(1-\alpha) = \frac{1}{2}\alpha(1-\alpha)^2$

したがって、赤玉が 2 個、白玉が 2 個出ている確率 $P_{2,2}$ は、

$$\begin{aligned} P_{2,2} &= 2\left\{\frac{1}{2}\alpha^2(1-\alpha) + \frac{1}{2}(1-\alpha)^3 + \frac{1}{2}\alpha(1-\alpha)^2\right\} \\ &= (1-\alpha)\{\alpha^2 + (1-\alpha)^2 + \alpha(1-\alpha)\} = (1-\alpha)(1-\alpha + \alpha^2) \end{aligned}$$

(2) $n+1$ 回目の試行を終えた時点で、赤玉が n 個、白玉が 1 個出ているのは、

- ・ 1 回目だけ白玉が出ているとき この確率は $\frac{1}{2}(1-\alpha)\alpha^{n-1}$
- ・ k 回目 ($2 \leq k \leq n$) だけ白玉が出ているとき
この確率は $\frac{1}{2}\alpha^{k-2}(1-\alpha)^2\alpha^{n-k} = \frac{1}{2}\alpha^{n-2}(1-\alpha)^2$
- ・ $n+1$ 回目だけ白玉が出ているとき この確率は $\frac{1}{2}\alpha^{n-1}(1-\alpha)$

したがって、赤玉が n 個、白玉が 1 個出ている確率 $P_{n,1}$ は、 $n \geq 2$ で、

$$\begin{aligned} P_{n,1} &= \frac{1}{2}(1-\alpha)\alpha^{n-1} + (n-1) \cdot \frac{1}{2}\alpha^{n-2}(1-\alpha)^2 + \frac{1}{2}\alpha^{n-1}(1-\alpha) \\ &= \frac{1}{2}\alpha^{n-2}(1-\alpha)\{2\alpha + (n-1)(1-\alpha)\} = \frac{1}{2}\alpha^{n-2}(1-\alpha)\{(1-\alpha)n + 3\alpha - 1\} \end{aligned}$$

なお、 $P_{1,1} = 2 \cdot \frac{1}{2}(1-\alpha) = 1-\alpha$ から、上式は $n=1$ のときも成り立っている。(3) (2) より、 $P_{4,1} = \frac{1}{2}\alpha^2(1-\alpha)\{4(1-\alpha) + 3\alpha - 1\} = \frac{1}{2}\alpha^2(\alpha-1)(\alpha-3)$ ここで、 $f(x) = \frac{1}{2}x^2(x-1)(x-3) = \frac{1}{2}(x^4 - 4x^3 + 3x^2)$ ($0 < x < 1$) とおくと、

$$\begin{aligned} f'(x) &= \frac{1}{2}(4x^3 - 12x^2 + 6x) \\ &= x(2x^2 - 6x + 3) \end{aligned}$$

これより、 $f(x)$ は増減が右表のようになり、 $x = \frac{3-\sqrt{3}}{2}$ で最大となる。

x	0	...	$\frac{3-\sqrt{3}}{2}$...	1
$f'(x)$	0	+	0	-	
$f(x)$	0	↗		↘	0

以上より、 $P_{4,1}$ の値が最大となるのは $\alpha = \frac{3-\sqrt{3}}{2}$ のときである。

[解説]

確率の標準的な問題です。(2)も(1)と同様に具体的に考えて、解答例を記述しています。なお、(3)は付録でしょうか。

2

問題のページへ

$$(1) a_n = \frac{5^{2^{n-1}} - 1}{2^{n+1}} \text{ に対して, } a_1 = \frac{5^1 - 1}{2^2} = 1, a_2 = \frac{5^2 - 1}{2^3} = 3, a_3 = \frac{5^4 - 1}{2^4} = 39$$

$$(2) b_n = \frac{a_{n+1}}{a_n} = \frac{5^{2^n} - 1}{2^{n+2}} \cdot \frac{2^{n+1}}{5^{2^{n-1}} - 1} = \frac{1}{2} \cdot \frac{5^{2^n} - 1}{5^{2^{n-1}} - 1} \text{ となる。}$$

ここで、 $m = 2^{n-1}$ とおくと、 $2^n = 2^{n-1+1} = 2^{n-1} \cdot 2^1 = 2m$ であり、

$$\frac{1}{2} \cdot \frac{5^{2^n} - 1}{5^{2^{n-1}} - 1} = \frac{1}{2} \cdot \frac{5^{2m} - 1}{5^m - 1} = \frac{1}{2} \cdot \frac{(5^m)^2 - 1}{5^m - 1} = \frac{1}{2} \cdot \frac{(5^m + 1)(5^m - 1)}{5^m - 1} = \frac{1}{2}(5^m + 1)$$

よって、 $b_n = \frac{1}{2}(5^m + 1) = \frac{1}{2}(5^{2^{n-1}} + 1)$ となる。

すると、すべての自然数 n について、 $m = 2^{n-1}$ は整数になるので $5^m = 5^{2^{n-1}}$ は奇数、そして $5^m + 1 = 5^{2^{n-1}} + 1$ は偶数になることより、 b_n は整数である。

$$(3) a_1 = 1 \text{ は整数であり、また } a_{n+1} = b_n a_n \text{ (} n = 1, 2, 3, \dots \text{) なので、} n \geq 2 \text{ で、}$$

$$a_n = a_1 b_1 b_2 b_3 \cdots b_{n-1} = b_1 b_2 b_3 \cdots b_{n-1} \cdots \cdots (*)$$

(2) から b_n ($n = 1, 2, 3, \dots$) は整数なので、 a_n は整数である。

$$(4) \text{ すべての自然数 } n \text{ について、} m = 2^{n-1} \text{ は自然数になるので、}$$

$$5^m + 1 = (4+1)^m + 1 = \left(\sum_{k=0}^m {}_m C_k 4^k \right) + 1 = \left(\sum_{k=1}^m {}_m C_k 4^k \right) + {}_m C_0 + 1$$

すると、 N を自然数として、 $5^m + 1 = 4N + {}_m C_0 + 1 = 4N + 2$ とおくことができ、

$$b_n = \frac{1}{2}(4N + 2) = 2N + 1$$

したがって、 $a_1 = 1$ は奇数で、(*) から $n \geq 2$ で a_n も奇数になることより、すべての自然数 n について a_n は奇数である。

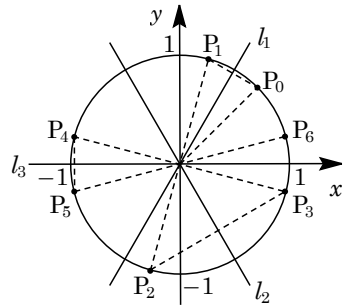
[解説]

漸化式と整数の融合問題です。(2)で指数部分の処理が面倒と感じるときは、解答例のように置換えをした方がよいでしょう。また、(3)までの流れから、(4)は $5^m + 1$ が 4 の倍数でない偶数ということを示せばよいことになります。

3

問題のページへ

- (1) $l_1: y = \sqrt{3}x$, $l_2: y = -\sqrt{3}x$, $l_3: y = 0$ に対し, 点 $P_0(\cos t_0, \sin t_0)$ について, l_1 , 原点, l_2 , 原点, l_3 , 原点に関して対称な点を次々にとり, 点 P_1 から P_6 を定める。ここで, l_1 , l_2 と x 軸の正の部分とのなす角は, それぞれ $\frac{\pi}{3}$, $\frac{5}{3}\pi$ であり, l_3 は x 軸であることに留意して, 点 $P_i(\cos t_i, \sin t_i)$ ($i = 1, 2, 3, \dots$) とする。ただし, $0 \leq t_i < 2\pi$ である。



すると, $\frac{t_0 + t_1}{2} = \frac{\pi}{3}$ より $t_1 = \frac{2}{3}\pi - t_0$, また $t_2 = t_1 + \pi$ となる。

これより, $t_0 = \frac{\pi}{4}$ のとき, $t_1 = \frac{2}{3}\pi - \frac{\pi}{4} = \frac{5}{12}\pi$, $t_2 = \frac{5}{12}\pi + \pi = \frac{17}{12}\pi$ である。

- (2) $0 \leq t_0 \leq \frac{\pi}{3}$ について, $0 \leq t_0 < \frac{\pi}{3}$ のときと $t_0 = \frac{\pi}{3}$ のときの場合分けをする。

- (i) $0 \leq t_0 < \frac{\pi}{3}$ のとき $0 \leq t_i < 2\pi$ に注意して,

$$t_1 = \frac{2}{3}\pi - t_0 \left(\frac{\pi}{3} < t_1 \leq \frac{2}{3}\pi \right), \quad t_2 = t_1 + \pi \left(\frac{4}{3}\pi < t_2 \leq \frac{5}{3}\pi \right)$$

$$t_3 = \frac{10}{3}\pi - t_2 \left(\frac{5}{3}\pi \leq t_3 < 2\pi \right), \quad t_4 = t_3 - \pi \left(\frac{2}{3}\pi \leq t_4 < \pi \right)$$

$$t_5 = 2\pi - t_4 \left(\pi < t_5 \leq \frac{4}{3}\pi \right), \quad t_6 = t_5 - \pi \left(0 < t_6 \leq \frac{\pi}{3} \right)$$

これより, t_6 を t_0 を用いて表すと,

$$t_6 = t_5 - \pi = (2\pi - t_4) - \pi = \pi - t_4 = \pi - (t_3 - \pi) = 2\pi - t_3 = 2\pi - \left(\frac{10}{3}\pi - t_2 \right)$$

$$= t_2 - \frac{4}{3}\pi = (t_1 + \pi) - \frac{4}{3}\pi = t_1 - \frac{\pi}{3} = \left(\frac{2}{3}\pi - t_0 \right) - \frac{\pi}{3} = \frac{\pi}{3} - t_0$$

- (ii) $t_0 = \frac{\pi}{3}$ のとき $t_1 = \frac{\pi}{3}$, $t_2 = \frac{4}{3}\pi$, $t_3 = 0$, $t_4 = \pi$, $t_5 = \pi$, $t_6 = 0$

- (i)(ii)より, $0 \leq t_0 \leq \frac{\pi}{3}$ のとき, $t_6 = \frac{\pi}{3} - t_0$ である。

すると, $0 \leq t_6 \leq \frac{\pi}{3}$ となり, 点 $P_6(\cos t_6, \sin t_6)$ は不等式 $0 \leq y \leq \sqrt{3}x$ の表す領域の点となる。

- (3) P_0 から P_6 と同様に, P_6 から P_{12} を定めると, $t_{12} = \frac{\pi}{3} - t_6 = \frac{\pi}{3} - \left(\frac{\pi}{3} - t_0 \right) = t_0$

したがって, $P_0(\cos t_0, \sin t_0)$, $P_{12}(\cos t_{12}, \sin t_{12})$ から, $P_0 = P_{12}$ である。

[解説]

点の対称移動を題材にした読解力を要する問題です。なお, (2)で場合分けをしたのは, $0 \leq t_i < 2\pi$ という条件のためです。

4

問題のページへ

(1) 原点 O と点 $A(1, 3)$ に対して、線分 OA の方程式は、

$$y = 3x \quad (0 \leq x \leq 1)$$

直線 OA に垂直な点 O , 点 A を通る直線を、それぞれ l, m とおくと、 l の方程式は $y = -\frac{1}{3}x$, m の方程式は $y - 3 = -\frac{1}{3}(x - 1)$ より $y = -\frac{1}{3}x + \frac{10}{3}$ となる。

ここで、領域 D_1, D_2, D_3 を以下のように定める。

$$D_1 : y \geq -\frac{1}{3}x + \frac{10}{3} \quad (x + 3y \geq 10)$$

$$D_2 : -\frac{1}{3}x < y < -\frac{1}{3}x + \frac{10}{3} \quad (0 < x + 3y < 10), \quad D_3 : y \leq -\frac{1}{3}x \quad (x + 3y \leq 0)$$

ここで、線分 OA 上の点 Q に対し、線分 PQ の最小値を $d(P)$ とすると、点 $P(5, 2)$ は、 $5 + 3 \cdot 2 = 11 > 10$ から領域 D_1 にあることより、

$$d(P) = AP = \sqrt{(5-1)^2 + (2-3)^2} = \sqrt{17}$$

(2) 点 $P(a, b)$ に対して、 $d(P)$ を a, b の式で表すと、

(i) 点 P が領域 D_1 にある ($a + 3b \geq 10$) のとき

$$d(P) = AP = \sqrt{(a-1)^2 + (b-3)^2}$$

(ii) 点 P が領域 D_2 にある ($0 < a + 3b < 10$) のとき 直線 $OA : 3x - y = 0$ より、

$$d(P) = \frac{|3a - b|}{\sqrt{3^2 + (-1)^2}} = \frac{1}{\sqrt{10}} |3a - b|$$

(iii) 点 P が領域 D_3 にある ($a + 3b \leq 0$) のとき

$$d(P) = OP = \sqrt{a^2 + b^2}$$

(3) 放物線 $y = x^2 \cdots \cdots (*)$ 上に点 $P(a, a^2)$ をとる。

まず、 $(*)$ と l の交点は $x^2 = -\frac{1}{3}x$ より $x = 0, -\frac{1}{3}$

また、 $(*)$ と m の交点は $x^2 = -\frac{1}{3}x + \frac{10}{3}$ より、

$$3x^2 + x - 10 = 0, \quad (3x - 5)(x + 2) = 0$$

これより、 $x = \frac{5}{3}, -2$ となる。

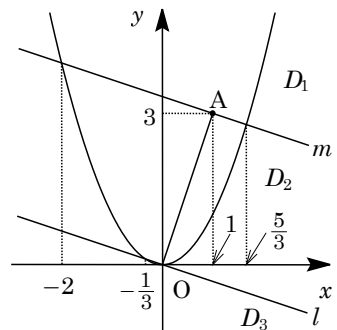
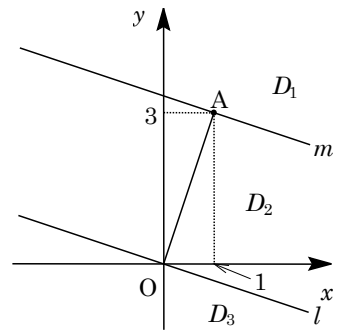
ここで、 $d(P) = \sqrt{10}$ となるのは、(2) から、

(i) 点 P が領域 D_1 にある ($a \leq -2, \frac{5}{3} \leq a$) のとき

$$\sqrt{(a-1)^2 + (a^2-3)^2} = \sqrt{10}, \quad a^4 - 5a^2 - 2a + 10 = 10$$

これより、 $a(a+2)(a^2-2a-1) = 0$ となり、 $a = 0, -2, 1 \pm \sqrt{2}$ である。

すると、 $a \leq -2, \frac{5}{3} \leq a$ から、 $a = -2, 1 + \sqrt{2}$



(ii) 点 P が領域 D_2 にある $(-2 < a < -\frac{1}{3}, 0 < a < \frac{5}{3})$ のとき

$$\frac{1}{\sqrt{10}} |3a - a^2| = \sqrt{10}, \quad 3a - a^2 = \pm 10, \quad a^2 - 3a \pm 10 = 0$$

$a^2 - 3a + 10 = 0$ は実数解をもたず、 $a^2 - 3a - 10 = 0$ は $(a+2)(a-5) = 0$ から $a = -2, 5$ となるが $-2 < a < -\frac{1}{3}, 0 < a < \frac{5}{3}$ を満たさない。

(iii) 点 P が領域 D_3 にある $(-\frac{1}{3} \leq a \leq 0)$ のとき

$$\sqrt{a^2 + a^4} = \sqrt{10}, \quad a^2 + a^4 = 10, \quad a^2(a^2 + 1) = 10$$

$-\frac{1}{3} \leq a \leq 0$ から $0 \leq a^2(a^2 + 1) \leq \frac{1}{9} \cdot \frac{10}{9} = \frac{10}{81}$ となり、満たす a は存在しない。

(i)～(iii)より、 $d(P) = \sqrt{10}$ を満たす点 P の x 座標は、 -2 または $1 + \sqrt{2}$ である。

[解説]

点と線分の距離についての基本題ですが、量的には多めです。解答例では、直線 l と m によって分けられる領域を設定して、図形的な解き方をしました。