

2025 入試対策
2次数学ランドマーク

ベクトル44題

文系+理系 27か年

1998 - 2024

外林 康治 編著

電送数学舎

ベクトル

【問題一覧】

(注) 問題番号が、対応する解答例へのハイパーリンクになっています。

1 $\triangle ABC$ の3辺 BC, CA, AB を $t:1-t$ の比に内分する点をそれぞれ A_1, B_1, C_1 とおき、 $\triangle A_1B_1C_1$ の3辺 B_1C_1, C_1A_1, A_1B_1 を $t:1-t$ の比に内分する点をそれぞれ A_2, B_2, C_2 とおく。ただし、 $0 < t < 1$ とする。

- (1) $\triangle A_2B_2C_2$ の辺 B_2C_2 が $\triangle ABC$ のいずれかの辺と平行となる t の値を求めよ。
 (2) (1) のとき、 $\triangle A_2B_2C_2$ は $\triangle ABC$ に相似であることを示し、その相似比を求めよ。

[1998 一橋大・文]

2 空間の点 $(10, 0, 0)$ を中心とする半径 9 の球面を S_1 とし、点 $(0, 10, 0)$ を中心とする半径 8 の球面を S_2 とする。 S_1 と S_2 に接し原点を通る直線の長さ 1 の方向ベクトル (a, b, c) ($c \geq 0$) をすべて求めよ。

[1999 東北大・理]

3 点 O を中心とする円を考える。この円の円周上に3点 A, B, C があって、

$$\overrightarrow{OA} + \overrightarrow{OB} + \overrightarrow{OC} = \vec{0}$$

を満たしている。このとき、三角形 ABC は正三角形であることを証明せよ。

[2000 大阪大・文]

4 円に内接する四角形 $ABPC$ は次の条件(イ),(ロ)を満たすとする。

(イ) 三角形 ABC は正三角形である。

(ロ) AP と BC の交点は線分 BC を $p:1-p$ ($0 < p < 1$) の比に内分する。

このときベクトル \overrightarrow{AP} を $\overrightarrow{AB}, \overrightarrow{AC}, p$ を用いて表せ。

[2000 京都大]

5 三角形 ABC において $\overrightarrow{CA} = \vec{a}$, $\overrightarrow{CB} = \vec{b}$ とする。次の問いに答えよ。

(1) 実数 s, t が $0 \leq s+t \leq 1, s \geq 0, t \geq 0$ の範囲を動くとき、次の各条件を満たす点 P の存在する範囲をそれぞれ図示せよ。

(a) $\overrightarrow{CP} = s\vec{a} + t(\vec{a} + \vec{b})$

(b) $\overrightarrow{CP} = (2s+t)\vec{a} + (s-t)\vec{b}$

(2) (1)の各場合に、点 P の存在する範囲の面積は三角形 ABC の面積の何倍か。

[2000 神戸大・文]

6 四面体 $OABC$ において、 $\vec{a} = \overrightarrow{OA}$, $\vec{b} = \overrightarrow{OB}$, $\vec{c} = \overrightarrow{OC}$ とおく。線分 OA , OB , OC , BC , CA , AB の中点をそれぞれ L , M , N , P , Q , R とし、 $\vec{p} = \overrightarrow{LP}$, $\vec{q} = \overrightarrow{MQ}$, $\vec{r} = \overrightarrow{NR}$ とおく。

- (1) 線分 LP , MQ , NR は 1 点で交わることを示せ。
- (2) \vec{a} , \vec{b} , \vec{c} を \vec{p} , \vec{q} , \vec{r} を用いて表せ。
- (3) 直線 LP , MQ , NR が互いに直交するとする。 X を $\overrightarrow{AX} = \overrightarrow{LP}$ となる空間の点とするとき、四面体 $XABC$ の体積を $|\vec{p}|$, $|\vec{q}|$, $|\vec{r}|$ を用いて表せ。 [2001 東北大・文]

7 四角形 $ABCD$ は半径 1 の円に内接し、

$$\overrightarrow{AC} \cdot \overrightarrow{BD} = 0, \overrightarrow{AB} + \overrightarrow{AD} + 2(\overrightarrow{CB} + \overrightarrow{CD}) = \vec{0}$$

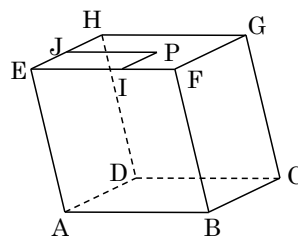
を満たしている。このとき次の問いに答えよ。

- (1) 直線 AC は線分 BD の中点を通ることを示せ。
- (2) 四角形 $ABCD$ の 4 辺の各辺の長さを求めよ。 [2002 千葉大・理]

8 空間内の図形について次の問いに答えよ。

(1) $\triangle ABC$ の面積は、 $\frac{1}{2}\sqrt{|\overrightarrow{AB}|^2|\overrightarrow{AC}|^2 - (\overrightarrow{AB} \cdot \overrightarrow{AC})^2}$ に等しいことを示せ。ここで、 $\overrightarrow{AB} \cdot \overrightarrow{AC}$ はベクトル \overrightarrow{AB} とベクトル \overrightarrow{AC} との内積を表す。必要ならば、2 つのベクトルのなす角のコサインと内積の関係式を用いてよい。

(2) a を正の定数とし、右図の平行六面体 $ABCD-EFGH$ を考える。 $|\overrightarrow{AB}| = |\overrightarrow{AD}| = 1$, $|\overrightarrow{AE}| = 2a$ とし、 $\angle FBC = \angle BCD = 90^\circ$, $\angle EAB = 120^\circ$ とする。面 $EFGH$ 上に点 P をとり、点 P から辺 EF 上に垂線 PI を下ろし、点 P から辺 EH 上に垂線 PJ を下ろす。 $x = |\overrightarrow{EI}|$, $y = |\overrightarrow{EJ}|$ とするとき、 $\triangle ACP$ の面積を a , x , y を用いて表せ。



(平行六面体 $ABCD-EFGH$)

(3) 問(2)で点 P が面 $EFGH$ 上を動くとき、 $\triangle ACP$ の面積の最小値を求めよ。

[2002 九州大・文]

9 四面体 $OABC$ は次の 2 つの条件

- (i) $OA \perp BC$, $OB \perp AC$, $OC \perp AB$
- (ii) 4 つの面の面積がすべて等しい

を満たしている。このとき、この四面体は正四面体であることを示せ。 [2003 京都大]

10 座標空間内の三角柱

$$0 \leq x \leq 1, 0 \leq y \leq 1, x \geq y, 0 \leq z \leq 1$$

を考え、その xy 平面内の面を S , xz 平面内の面を T とする。点 $A(a, b, 0)$ を S 内に、点 $B(c, 0, d)$ を T 内にとり、また $C(1, 1, 1)$ とする。ただし、点 A, B は原点 O とは異なるとする。

- (1) ベクトル \overrightarrow{OA} および \overrightarrow{OC} に直交する単位ベクトルを求め、その単位ベクトルとベクトル \overrightarrow{OB} の内積の絶対値を求めよ。
- (2) 四面体 $OABC$ の体積を求めよ。ただし、点 O, A, B, C は同一平面上にないとする。
- (3) 点 A が S 内を、点 B が T 内を動くとする。このときの、四面体 $OABC$ の体積の最大値、および最大値を与える点 A, B の位置をすべて求めよ。 [2004 九州大・理]

11 空間内の4点 A, B, C, D が

$$AB=1, AC=2, AD=3, \angle BAC = \angle CAD = 60^\circ, \angle DAB = 90^\circ$$

を満たしている。この4点から等距離にある点を E とする。線分 AE の長さを求めよ。

[2005 大阪大・理]

- 12** $\triangle ABC$ に対し、辺 AB 上に点 P を、辺 BC 上に点 Q を、辺 CA 上に点 R を、頂点とは異なるようにとる。この3点がそれぞれの辺上を動くとき、この3点を頂点とする三角形の重心はどのような範囲を動くか図示せよ。 [2006 京都大・理]

- 13** 大きさがそれぞれ $5, 3, 1$ の平面上のベクトル $\vec{a}, \vec{b}, \vec{c}$ に対して、 $\vec{z} = \vec{a} + \vec{b} + \vec{c}$ とおく。

- (1) $\vec{a}, \vec{b}, \vec{c}$ を動かすとき、 $|\vec{z}|$ の最大値と最小値を求めよ。
- (2) \vec{a} を固定し、 $\vec{a} \cdot \vec{z} = 20$ を満たすように \vec{b}, \vec{c} を動かすとき、 $|\vec{z}|$ の最大値と最小値を求めよ。 [2006 一橋大・文]

14 xy 平面において、原点 O を通る半径 r ($r > 0$) の円を C とし、その中心を A とする。 O を除く C 上の点 P に対し、次の 2 つの条件(a), (b)で定まる点 Q を考える。

(a) \overrightarrow{OP} と \overrightarrow{OQ} の向きが同じ

(b) $|\overrightarrow{OP}| |\overrightarrow{OQ}| = 1$

以下の問いに答えよ。

(1) 点 P が O を除く C 上を動くとき、点 Q は \overrightarrow{OA} に直交する直線上を動くことを示せ。

(2) (1)の直線を l とする。 l が C と 2 点で交わる時、 r のとりうる値の範囲を求めよ。[2007 大阪大]

15 a, b を正の数とし、空間内の 3 点 $A(a, -a, b)$, $B(-a, a, b)$, $C(a, a, -b)$ を考える。 A, B, C を通る平面を α , 原点 O を中心とし A, B, C を通る球面を S とおく。このとき、次の問いに答えよ。

(1) 線分 AB の中点を D とするとき、 $\overrightarrow{DC} \perp \overrightarrow{AB}$ および $\overrightarrow{DO} \perp \overrightarrow{AB}$ であることを示せ。

また $\triangle ABC$ の面積を求めよ。

(2) ベクトル \overrightarrow{DC} と \overrightarrow{DO} のなす角を θ とするとき $\sin \theta$ を求めよ。また、平面 α に垂直で原点 O を通る直線と平面 α との交点を H とするとき、線分 OH の長さを求めよ。

(3) 点 P が球面 S 上を動くとき、四面体 $ABCP$ の体積の最大値を求めよ。ただし、 P は平面 α 上にはないものとする。[2007 九州大・理]

16 点 O で交わる 2 つの半直線 OX, OY があって $\angle XOY = 60^\circ$ とする。2 点 A, B が OX 上に O, A, B の順に、また、2 点 C, D が OY 上に O, C, D の順に並んでいるとして、線分 AC の中点を M , 線分 BD の中点を N とする。線分 AB の長さを s , 線分 CD の長さを t とするとき、以下の問いに答えよ。

(1) 線分 MN の長さを s と t を用いて表せ。

(2) 点 A, B と C, D が、 $s^2 + t^2 = 1$ を満たしながら動くとき、線分 MN の長さの最大値を求めよ。[2008 大阪大]

17 平面上の三角形 OAB を考え、辺 AB の中点を M とする。 $\vec{a} = \frac{\overrightarrow{OA}}{|\overrightarrow{OA}|}$, $\vec{b} = \frac{\overrightarrow{OB}}{|\overrightarrow{OB}|}$

とおき、点 P を $\vec{a} \cdot \overrightarrow{OP} = -\vec{b} \cdot \overrightarrow{OP} > 0$ であるようにとる。直線 OP に A から下ろした垂線と直線 OP の交点を Q とする。

(1) \overrightarrow{MQ} と \vec{b} は平行であることを示せ。

(2) $|\overrightarrow{MQ}| = \frac{1}{2}(|\overrightarrow{OA}| + |\overrightarrow{OB}|)$ であることを示せ。[2009 大阪大・理]

18 座標平面上に点 $O(0, 0)$ と点 $P(4, 3)$ をとる。不等式 $(x-5)^2 + (y-10)^2 \leq 16$ の表す領域を D とする。次の問いに答えよ。

- (1) k は定数とする。直線 $y = -\frac{4}{3}x + k$ 上の点を Q とするとき、ベクトル \overrightarrow{OQ} と \overrightarrow{OP} の内積 $\overrightarrow{OQ} \cdot \overrightarrow{OP}$ を k を用いて表せ。
- (2) 点 R が D 全体を動くとき、ベクトル \overrightarrow{OP} と \overrightarrow{OR} の内積 $\overrightarrow{OP} \cdot \overrightarrow{OR}$ の最大値および最小値を求めよ。 [2010 広島大・文]

19 四面体 $ABCD$ において、辺 AB の中点を M 、辺 CD の中点を N とする。以下の問いに答えよ。

- (1) 等式 $\overrightarrow{PA} + \overrightarrow{PB} = \overrightarrow{PC} + \overrightarrow{PD}$ を満たす点 P は存在するか。証明をつけて答えよ。
- (2) 点 Q が等式 $|\overrightarrow{QA} + \overrightarrow{QB}| = |\overrightarrow{QC} + \overrightarrow{QD}|$ を満たしながら動くとき、点 Q が描く図形を求めよ。
- (3) 点 R が等式 $|\overrightarrow{RA}|^2 + |\overrightarrow{RB}|^2 = |\overrightarrow{RC}|^2 + |\overrightarrow{RD}|^2$ を満たしながら動くとき、内積 $\overrightarrow{MN} \cdot \overrightarrow{MR}$ は R のとり方によらず一定であることを示せ。
- (4) (2)の点 Q が描く図形と(3)の点 R が描く図形が一致するための必要十分条件は $|\overrightarrow{AB}| = |\overrightarrow{CD}|$ であることを示せ。 [2010 東北大]

20 三角形 ABC の外心を O 、重心を G 、内心を I とする。

- (1) $\overrightarrow{OG} = \frac{1}{3}\overrightarrow{OA}$ が成り立つならば、三角形 ABC は直角三角形であることを証明せよ。
- (2) k が $k \neq \frac{1}{3}$ を満たす実数で、 $\overrightarrow{OG} = k\overrightarrow{OA}$ が成り立つならば、三角形 ABC は二等辺三角形であることを証明せよ。
- (3) $\overrightarrow{OI} \cdot \overrightarrow{BC} = 0$ が成り立つならば、三角形 ABC は二等辺三角形であることを証明せよ。 [2011 千葉大・理]

21 平面上のベクトル \vec{a} 、 \vec{b} が、 $|\vec{a}| = |\vec{b}| = 1$ 、 $\vec{a} \cdot \vec{b} = -\frac{1}{2}$ を満たすとする。ただし、記号 $\vec{a} \cdot \vec{b}$ は \vec{a} と \vec{b} の内積を表す。以下の問いに答えよ。

- (1) 実数 p, q に対して、 $\vec{c} = p\vec{a} + q\vec{b}$ とおく。このとき、次の条件 $|\vec{c}| = 1$ 、 $\vec{a} \cdot \vec{c} = 0$ 、 $p > 0$ を満たす実数 p, q を求めよ。
- (2) 平面上のベクトル \vec{x} が、 $-1 \leq \vec{a} \cdot \vec{x} \leq 1$ 、 $1 \leq \vec{b} \cdot \vec{x} \leq 2$ を満たすとき、 $|\vec{x}|$ のとりうる値の範囲を求めよ。 [2012 東北大・文]

22 xyz 空間内の平面 $z=2$ 上に点 P があり、平面 $z=1$ 上に点 Q がある。直線 PQ と xy 平面の交点を R とする。

(1) $P(0, 0, 2)$ とする。点 Q が平面 $z=1$ 上で点 $(0, 0, 1)$ を中心とする半径 1 の円周上を動くとき、点 R の軌跡の方程式を求めよ。

(2) 平面 $z=1$ 上に、4 点 $A(1, 1, 1)$, $B(1, -1, 1)$, $C(-1, -1, 1)$, $D(-1, 1, 1)$ をとる。点 P が平面 $z=2$ で点 $(0, 0, 2)$ を中心とする半径 1 の円周上を動き、点 Q が正方形 $ABCD$ 上を動くとき、点 R が動きうる領域を xy 平面上に図示し、その面積を求めよ。

[2012 一橋大・文]

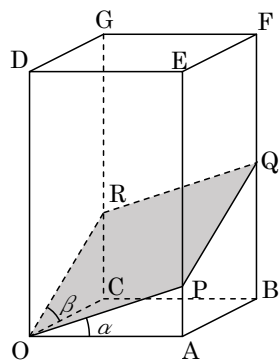
23 t を正の定数とする。原点を O とする空間内に、2 点 $A(2t, 2t, 0)$, $B(0, 0, t)$ がある。また動点 P は、 $\overrightarrow{OP} \cdot \overrightarrow{AP} + \overrightarrow{OP} \cdot \overrightarrow{BP} + \overrightarrow{AP} \cdot \overrightarrow{BP} = 3$ を満たすように動く。 OP の最大値が 3 となるような t の値を求めよ。

[2013 一橋大・文]

24 1 辺の長さが 1 の正方形を底面とする四角柱 $OABC - DEFG$ を考える。3 点 P, Q, R を、それぞれ辺 AE , 辺 BF , 辺 CG 上に、4 点 O, P, Q, R が同一平面上にあるようにとる。四角形 $OPQR$ の面積を S とおく。また、 $\angle AOP$ を α , $\angle COR$ を β とおく。

(1) S を $\tan \alpha$ と $\tan \beta$ を用いて表せ。

(2) $\alpha + \beta = \frac{\pi}{4}$, $S = \frac{7}{6}$ であるとき、 $\tan \alpha + \tan \beta$ の値を求めよ。さらに、 $\alpha \leq \beta$ のとき、 $\tan \alpha$ の値を求めよ。



[2014 東京大・理]

25 平面において、一直線上にない 3 点 O, A, B がある。 O を通り直線 OA と垂直な直線上に O と異なる点 P をとる。 O を通り直線 OB と垂直な直線上に O と異なる点 Q をとる。ベクトル $\overrightarrow{OP} + \overrightarrow{OQ}$ は \overrightarrow{AB} に垂直であるとする。

(1) $\overrightarrow{OP} \cdot \overrightarrow{OB} = \overrightarrow{OQ} \cdot \overrightarrow{OA}$ を示せ。

(2) ベクトル \overrightarrow{OA} , \overrightarrow{OB} のなす角を α とする。ただし、 $0 < \alpha < \frac{\pi}{2}$ とする。このときベクトル \overrightarrow{OP} , \overrightarrow{OQ} のなす角が $\pi - \alpha$ であることを示せ。

(3) $\frac{|\overrightarrow{OP}|}{|\overrightarrow{OA}|} = \frac{|\overrightarrow{OQ}|}{|\overrightarrow{OB}|}$ を示せ。

[2015 北海道大・文]

26 xyz 空間において、原点を中心とする xy 平面上の半径 1 の円周上を点 P が動き、点 $(0, 0, \sqrt{3})$ を中心とする xz 平面上の半径 1 の円周上を点 Q が動く。

- (1) 線分 PQ の長さの最小値と、そのときの点 P, Q の座標を求めよ。
- (2) 線分 PQ の長さの最大値と、そのときの点 P, Q の座標を求めよ。

[2015 一橋大・文]

27 xyz 空間の中で、 $(0, 0, 1)$ を中心とする半径 1 の球面 S を考える。点 Q が $(0, 0, 2)$ 以外の S 上の点を動くとき、点 Q と点 $P(1, 0, 2)$ の 2 点を通る直線 l と平面 $z = 0$ との交点を R とおく。 R の動く範囲を求め、図示せよ。 [2015 京大・文]

28 $\triangle ABC$ が、 $AB = 2$, $AC = 1 + \sqrt{3}$, $\angle ACB = 45^\circ$ を満たすとする。

- (1) $\beta = \angle ABC$ とおくとき、 $\sin \beta$ および $\cos 2\beta$ の値を求めよ。
- (2) (1)の β の値をすべて求めよ。
- (3) $\triangle ABC$ の外接円の中心を O とする。 $\triangle ABC$ が鋭角三角形であるとき、 $\overrightarrow{OC} = s\overrightarrow{OA} + t\overrightarrow{OB}$ を満たす実数 s, t を求めよ。 [2016 北海道大・文]

29 1 辺の長さが 1 の正六角形 $ABCDEF$ が与えられている。点 P が辺 AB 上を、点 Q が辺 CD 上をそれぞれ独立に動くとき、線分 PQ を $2:1$ に内分する点 R が通りうる範囲の面積を求めよ。 [2017 東京大・文]

30 座標空間において原点 O と点 $A(0, -1, 1)$ を通る直線を l とし、点 $B(0, 2, 1)$ と点 $C(-2, 2, -3)$ を通る直線を m とする。 l 上の 2 点 P, Q と、 m 上の点 R を $\triangle PQR$ が正三角形となるようにとる。このとき、 $\triangle PQR$ の面積が最小となるような P, Q, R の座標を求めよ。 [2017 京大・文]

31 正方形 $ABCD$ の辺を除く内部に、 $PA \perp PB$ を満たす点 P がある。ベクトル \overrightarrow{PC} を $x\overrightarrow{PA} + y\overrightarrow{PB}$ と表すとき、以下の問いに答えよ。

- (1) $\alpha = \frac{|\overrightarrow{PB}|}{|\overrightarrow{PA}|}$ とするとき、 x, y を α を用いて表せ。
- (2) 点 P が題意の条件を満たしながら動くとき、(1)で求めた x, y の和 $x + y$ の最大値を求め、そのときの P がどのような点かを答えよ。 [2018 千葉大・理]

32 四面体 ABCD は $AC = BD$, $AD = BC$ を満たすとし、辺 AB の中点を P, 辺 CD の中点を Q とする。

- (1) 辺 AB と線分 PQ は垂直であることを示せ。
- (2) 線分 PQ を含む平面 α で四面体 ABCD を切って 2 つの部分に分ける。このとき、2 つの部分の体積は等しいことを示せ。 [2018 京都大]

33 $|\overline{AB}| = 2$ を満たす $\triangle PAB$ を考え、辺 AB の中点を M, $\triangle PAB$ の重心を G とする。以下の問いに答えよ。

- (1) $|\overline{PM}|^2$ を内積 $\overline{PA} \cdot \overline{PB}$ を用いて表せ。
- (2) $\angle AGB = \frac{\pi}{2}$ のとき、 $\overline{PA} \cdot \overline{PB}$ の値を求めよ。
- (3) 点 A と点 B を固定し、 $\overline{PA} \cdot \overline{PB} = \frac{5}{4}$ を満たすように点 P を動かすとき、 $\angle ABG$ の最大値を求めよ。ただし、 $0 < \angle ABG < \pi$ とする。 [2019 神戸大]

34 空間内に $\angle BAC = \frac{\pi}{2}$ の直角二等辺三角形 ABC と平面 P がある。点 A は P 上にあり、点 B と点 C は P 上にはなく、 P に関して同じ側に位置している。点 B, C から P に下ろした垂線と P との交点をそれぞれ B' , C' とする。

- (1) $\overline{AB'} \cdot \overline{AC'} + \overline{B'B} \cdot \overline{C'C} = 0$ を示せ。
- (2) $\angle B'AC' > \frac{\pi}{2}$ を示せ。
- (3) P 上の三角形 $AB'C'$ の辺の長さは短いものから 4, $\sqrt{21}$, 7 であった。このとき、辺 AB の長さを求めよ。 [2019 名古屋大・理]

35 座標空間内の 2 つの球面

$S_1 : (x-1)^2 + (y-1)^2 + (z-1)^2 = 7$ と $S_2 : (x-2)^2 + (y-3)^2 + (z-3)^2 = 1$ を考える。 S_1 と S_2 の共通部分を C とする。このとき以下の問いに答えよ。

- (1) S_1 との共通部分が C となるような球面のうち、半径が最小となる球面の方程式を求めよ。
- (2) S_1 との共通部分が C となるような球面のうち、半径が $\sqrt{3}$ となる球面の方程式を求めよ。 [2019 大阪大]

36 k を正の実数とする。座標空間において、原点 O を中心とする半径 1 の球面上の 4 点 A, B, C, D が次の関係式を満たしている。

$$\overrightarrow{OA} \cdot \overrightarrow{OB} = \overrightarrow{OC} \cdot \overrightarrow{OD} = \frac{1}{2}, \quad \overrightarrow{OA} \cdot \overrightarrow{OC} = \overrightarrow{OB} \cdot \overrightarrow{OC} = -\frac{\sqrt{6}}{4}, \quad \overrightarrow{OA} \cdot \overrightarrow{OD} = \overrightarrow{OB} \cdot \overrightarrow{OD} = k$$

このとき、 k の値を求めよ。ただし、座標空間の点 X, Y に対して、 $\overrightarrow{OX} \cdot \overrightarrow{OY}$ は、 \overrightarrow{OX} と \overrightarrow{OY} の内積を表す。

[2020 京都大]

37 座標空間に 5 点 $O(0, 0, 0)$, $A(3, 0, 0)$, $B(0, 3, 0)$, $C(0, 0, 4)$, $P(0, 0, -2)$ をとる。さらに $0 < a < 3$, $0 < b < 3$ に対して 2 点 $Q(a, 0, 0)$ と $R(0, b, 0)$ を考える。

- (1) 点 P, Q, R を通る平面を H とする。平面 H と線分 AC の交点 T の座標、および平面 H と線分 BC の交点 S の座標を求めよ。
- (2) 点 Q, R, S, T が同一円周上にあるための必要十分条件を a, b を用いて表し、それを満たす点 (a, b) の範囲を座標平面に図示せよ。

[2020 東京工業大・理]

38 平面上の $\triangle ABC$ で $AB = 4$, $BC = 5$, $AC = 3$ となるものを考え、 $\triangle ABC$ の外接円の中心を O とする。また、辺 AC を $1:5$ に内分する点を P とする。このとき、次の問いに答えよ。

- (1) $\cos \angle ABC$ と $\cos \angle AOC$ の値をそれぞれ求めよ。
- (2) $|\overrightarrow{OP}|$ と $\cos \angle POC$ の値をそれぞれ求めよ。
- (3) 内積 $\overrightarrow{OB} \cdot \overrightarrow{OP}$ の値を求めよ。
- (4) 点 B と点 P を通る直線が $\triangle ABC$ の外接円と交わる点で B と異なる点を Q とする。 \overrightarrow{OQ} を \overrightarrow{OB} と \overrightarrow{OP} を用いて表せ。

[2021 金沢大・文]

39 座標空間内の 5 点 $O(0, 0, 0)$, $A(1, 1, 0)$, $B(2, 1, 2)$, $P(4, 0, -1)$, $Q(4, 0, 5)$ を考える。3 点 O, A, B を通る平面を α とし、 $\vec{a} = \overrightarrow{OA}$, $\vec{b} = \overrightarrow{OB}$ とおく。以下の問いに答えよ。

- (1) ベクトル \vec{a} , \vec{b} の両方に垂直であり、 x 成分が正であるような、大きさが 1 のベクトル \vec{n} を求めよ。
- (2) 平面 α に関して点 P と対称な点 P' の座標を求めよ。
- (3) 点 R が平面 α 上を動くとき、 $|\overrightarrow{PR}| + |\overrightarrow{RQ}|$ が最小となるような点 R の座標を求めよ。

[2022 九州大・理]

40 座標空間において、平面 $z=2$ 上の点 P と、平面 $z=1$ 上の円板

$$B: x^2 + y^2 \leq 1, z=1$$

を考える。点 Q は平面 $z=0$ (xy 平面)上にあるとし、与えられた P に対して、線分 PQ と B が共有点をもつような Q 全体からなる図形を D とする。次の問いに答えよ。

- (1) P の座標が $(0, 0, 2)$ であるとき、 D を xy 平面上に図示せよ。
- (2) r を正の定数とする。 P の座標が $(r, 0, 2)$ であるとき、 D を xy 平面上に図示せよ。
- (3) $r > 2$ を満たす定数 r に対して、平面 $z=2$ 上の円 $C: x^2 + y^2 = r^2, z=2$ を考える。 P が C 上を動くとき、 D が通過する部分の面積を求めよ。 [2023 金沢大・理]

41 座標空間の 2 点 $A(1, -1, 1)$, $B(1, -1, 5)$ を直径の両端とする球面を S とする。次の問いに答えよ。

- (1) 球面 S の中心 C の座標と、 S の方程式を求めよ。
- (2) 点 P が S 上を動くとき、 $\triangle ABP$ の面積の最大値を求めよ。
- (3) 点 $Q(x, y, z)$ が $\angle QCA = \frac{\pi}{3}$ かつ $y \geq 0$ を満たしながら S 上を動く。点 $R(1+\sqrt{2}, 0, 4)$ に対して、内積 $\overrightarrow{CQ} \cdot \overrightarrow{CR}$ のとりうる値の範囲を求めよ。

[2023 新潟大・医]

42 平面上に三角形 ABC を考え、その重心を G とする。以下の問いに答えよ。

- (1) 等式 $\overrightarrow{GA} + \overrightarrow{GB} + \overrightarrow{GC} = \vec{0}$ が成り立つことを示せ。
- (2) 平面上の任意の点 P に対して、次の等式が成り立つことを示せ。

$$|\overrightarrow{PA}|^2 + |\overrightarrow{PB}|^2 + |\overrightarrow{PC}|^2 = 3|\overrightarrow{PG}|^2 + |\overrightarrow{GA}|^2 + |\overrightarrow{GB}|^2 + |\overrightarrow{GC}|^2$$

- (3) 次の等式が成り立つことを示せ。

$$|\overrightarrow{GA}|^2 + |\overrightarrow{GB}|^2 + |\overrightarrow{GC}|^2 = \frac{|\overrightarrow{AB}|^2 + |\overrightarrow{BC}|^2 + |\overrightarrow{CA}|^2}{3}$$

- (4) 三角形 ABC の外接円の半径を R とするとき、次の不等式が成り立つことを示せ。

$$R^2 \geq \frac{|\overrightarrow{AB}|^2 + |\overrightarrow{BC}|^2 + |\overrightarrow{CA}|^2}{9}$$

[2024 岡山大・文]

43 座標空間の4点 O, A, B, C は同一平面上にないとする。線分 OA の中点を P 、線分 AB の中点を Q とする。実数 x, y に対して、直線 OC 上の点 X と、直線 BC 上の点 Y を次のように定める。

$$\overrightarrow{OX} = x\overrightarrow{OC}, \quad \overrightarrow{BY} = y\overrightarrow{BC}$$

このとき、直線 QY と直線 PX がねじれの位置にあるための x, y に関する必要十分条件を求めよ。 [2024 京大・理]

44 xyz 空間において、点 $P_1(3, -1, 1)$ を中心とし半径が $\sqrt{5}$ の球面 S_1 と、点 $P_2(5, 0, -1)$ を中心とし半径が $\sqrt{2}$ の球面 S_2 を考える。

- (1) 線分 P_1P_2 の長さを求めよ。
- (2) S_1 と S_2 が交わりをもつことを示せ。この交わりは円となる。この円を C とし、その中心を P_3 とする。 C の半径および中心 P_3 の座標を求めよ。
- (3) (2)の円 C に対し、 C を含む平面を H とする。 xy 平面と H の両方に平行で、大きさが1のベクトルをすべて求めよ。
- (4) 点 Q が(2)の円 C 上を動くとき、 Q と xy 平面の距離 d の最大値を求めよ。また、 d の最大値を与える点 Q の座標を求めよ。 [2024 東北大・理]

ベクトル

【解答例と解説】

(注) 問題番号が、対応する問題ページへのハイパーリンクになっています。

1

[1998 一橋大・文]

(1) $\overrightarrow{AB} = \vec{b}$, $\overrightarrow{AC} = \vec{c}$ とする。

$$\begin{aligned}\overrightarrow{AB_2} &= (1-t)\overrightarrow{AC_1} + t\overrightarrow{AA_1} \\ &= (1-t)t\vec{b} + t\{(1-t)\vec{b} + t\vec{c}\}\end{aligned}$$

$$= 2t(1-t)\vec{b} + t^2\vec{c}$$

$$\begin{aligned}\overrightarrow{AC_2} &= (1-t)\overrightarrow{AA_1} + t\overrightarrow{AB_1} \\ &= (1-t)\{(1-t)\vec{b} + t\vec{c}\} + t(1-t)\vec{c}\end{aligned}$$

$$= (1-t)^2\vec{b} + 2t(1-t)\vec{c}$$

$$\overrightarrow{B_2C_2} = \overrightarrow{AC_2} - \overrightarrow{AB_2} = (3t^2 - 4t + 1)\vec{b} - (3t^2 - 2t)\vec{c}$$

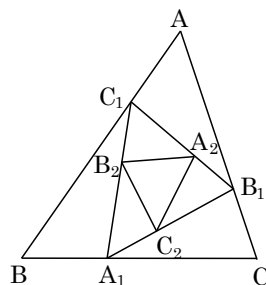
(i) $B_2C_2 \parallel AC$ のとき, $\overrightarrow{B_2C_2}$ は \vec{c} の実数倍より $3t^2 - 4t + 1 = 0$, よって $t = \frac{1}{3}$ (ii) $B_2C_2 \parallel AB$ のとき, $\overrightarrow{B_2C_2}$ は \vec{b} の実数倍より $3t^2 - 2t = 0$, よって $t = \frac{2}{3}$ (iii) $B_2C_2 \parallel BC$ のとき, $\overrightarrow{B_2C_2}$ は $\vec{b} - \vec{c}$ の実数倍より $3t^2 - 4t + 1 = 3t^2 - 2t$,
よって $t = \frac{1}{2}$

(2) (1)と同様にして,

$$\overrightarrow{AA_2} = t\overrightarrow{AC_1} + (1-t)\overrightarrow{AB_1} = t^2\vec{b} + (1-t)^2\vec{c}$$

$$\overrightarrow{C_2A_2} = \overrightarrow{AA_2} - \overrightarrow{AC_2} = (2t-1)\vec{b} - (3t^2-4t+1)\vec{c}$$

$$\overrightarrow{A_2B_2} = \overrightarrow{AB_2} - \overrightarrow{AA_2} = (2t-3t^2)\vec{b} + (2t-1)\vec{c}$$

(i) $t = \frac{1}{3}$ のとき, $\overrightarrow{B_2C_2} = \frac{1}{3}\vec{c} = \frac{1}{3}\overrightarrow{AC}$, $\overrightarrow{C_2A_2} = -\frac{1}{3}\vec{b} = \frac{1}{3}\overrightarrow{BA}$, $\overrightarrow{A_2B_2} = \frac{1}{3}\vec{b} - \frac{1}{3}\vec{c} = \frac{1}{3}\overrightarrow{CB}$ より, $\triangle A_2B_2C_2 \sim \triangle BCA$ で, 相似比は $1:3$ (ii) $t = \frac{2}{3}$ のとき, $\overrightarrow{B_2C_2} = -\frac{1}{3}\vec{b} = \frac{1}{3}\overrightarrow{BA}$, $\overrightarrow{C_2A_2} = \frac{1}{3}\vec{b} - \frac{1}{3}\vec{c} = \frac{1}{3}\overrightarrow{CB}$, $\overrightarrow{A_2B_2} = \frac{1}{3}\vec{c} = \frac{1}{3}\overrightarrow{AC}$ より, $\triangle A_2B_2C_2 \sim \triangle CAB$ で, 相似比は $1:3$ (iii) $t = \frac{1}{2}$ のとき, $\overrightarrow{B_2C_2} = -\frac{1}{4}\vec{b} + \frac{1}{4}\vec{c} = \frac{1}{4}\overrightarrow{BC}$, $\overrightarrow{C_2A_2} = -\frac{1}{4}\vec{c} = \frac{1}{4}\overrightarrow{CA}$, $\overrightarrow{A_2B_2} = \frac{1}{4}\vec{b} = \frac{1}{4}\overrightarrow{AB}$ より, $\triangle A_2B_2C_2 \sim \triangle ABC$ で, 相似比は $1:4$ 

【解説】

よくある構図の頻出問題です。上のように 1 次独立なベクトルを設定するか、または頂点の位置ベクトルを設定して解いていけば、完答できる問題です。

2

[1999 東北大・理]

$$\text{条件より, } S_1 : (x-10)^2 + y^2 + z^2 = 81 \cdots \cdots \textcircled{1}$$

$$S_2 : x^2 + (y-10)^2 + z^2 = 64 \cdots \cdots \textcircled{2}$$

$$S_1 \text{ と } S_2 \text{ に接し原点を通る直線は, } (x, y, z) = t(a, b, c) \cdots \cdots \textcircled{3}$$

$$\text{ただし, } a^2 + b^2 + c^2 = 1 \cdots \cdots \textcircled{4}$$

$$\text{まず}\textcircled{3}\text{を}\textcircled{1}\text{に代入して, } (at-10)^2 + (bt)^2 + (ct)^2 = 81$$

$$(a^2 + b^2 + c^2)t^2 - 20at + 19 = 0$$

$$\textcircled{4}\text{から, } t^2 - 20at + 19 = 0$$

$$\textcircled{1}\text{と}\textcircled{3}\text{が接するので, } D/4 = 100a^2 - 19 = 0, a = \pm \frac{\sqrt{19}}{10} \cdots \cdots \textcircled{5}$$

$$\text{次に}\textcircled{3}\text{を}\textcircled{2}\text{に代入して, } (at)^2 + (bt-10)^2 + (ct)^2 = 64$$

$$(a^2 + b^2 + c^2)t^2 - 20bt + 36 = 0$$

$$\textcircled{4}\text{から, } t^2 - 20bt + 36 = 0$$

$$\textcircled{2}\text{と}\textcircled{3}\text{が接するので, } D/4 = 100b^2 - 36 = 0, b = \pm \frac{3}{5} \cdots \cdots \textcircled{6}$$

$$\textcircled{4}\textcircled{5}\textcircled{6}\text{より, } \frac{19}{100} + \frac{9}{25} + c^2 = 1$$

$$c \geq 0 \text{ なので, } c = \frac{3\sqrt{5}}{10}$$

$$\text{以上より, } (a, b, c) = \left(\pm \frac{\sqrt{19}}{10}, \pm \frac{3}{5}, \frac{3\sqrt{5}}{10} \right) \text{ (複号任意)}$$

[解 説]

図形的な位置関係を考えてもよいのですが、ここでは代数的に解いてみました。こうすると、数式のもつ威力が感じられます。

3

[2000 大阪大・文]

$$\vec{OA} + \vec{OB} = -\vec{OC} \text{ より, } |\vec{OA} + \vec{OB}| = |\vec{OC}|$$

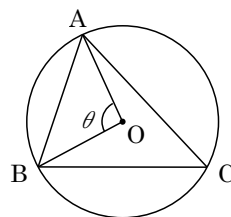
$$|\vec{OA}|^2 + 2\vec{OA} \cdot \vec{OB} + |\vec{OB}|^2 = |\vec{OC}|^2$$

ここで, $|\vec{OA}| = |\vec{OB}| = |\vec{OC}| = R$, $\angle AOB = \theta$ とおくと,

$$R^2 + 2R^2 \cos \theta + R^2 = R^2$$

$$2 \cos \theta + 1 = 0, \quad \cos \theta = -\frac{1}{2}, \quad \theta = 120^\circ$$

さて, $\vec{OA} + \vec{OB} = -\vec{OC}$ から, $2 \cdot \frac{\vec{OA} + \vec{OB}}{2} = -\vec{OC}$ と変形をすると, 辺 AB の中点と



頂点 C は O に関して反対側にあることになり,

$$\angle ACB = \frac{1}{2} \angle AOB = 60^\circ$$

また, $\vec{OA} + \vec{OC} = -\vec{OB}$ より, 同様にして, $\angle ABC = \frac{1}{2} \angle AOC = 60^\circ$

よって, $\angle BAC = 180^\circ - 60^\circ - 60^\circ = 60^\circ$

以上より, $\triangle ABC$ は正三角形である。

[解 説]

ずいぶん前になりますが, 1992 年に京大で, 類題が出ています。

4

[2000 京都大]

対角線 AP と BC の交点を D とすると、条件(ロ)より、
 $BD : DC = p : (1-p)$ なので、

$$\overrightarrow{AD} = (1-p)\overrightarrow{AB} + p\overrightarrow{AC}$$

ここで、正三角形 ABC の 1 辺の長さを 1 としても、一般性は失われないので、

$$|\overrightarrow{AB}| = |\overrightarrow{AC}| = |\overrightarrow{BC}| = 1$$

$$\overrightarrow{AB} \cdot \overrightarrow{AC} = 1 \cdot 1 \cdot \cos 60^\circ = \frac{1}{2}$$

$$\begin{aligned} |\overrightarrow{AD}|^2 &= (1-p)^2 |\overrightarrow{AB}|^2 + 2(1-p)p \overrightarrow{AB} \cdot \overrightarrow{AC} + p^2 |\overrightarrow{AC}|^2 \\ &= (1-p)^2 + (1-p)p + p^2 = 1-p+p^2 \end{aligned}$$

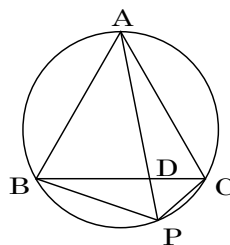
$$\text{よって、} |\overrightarrow{AD}| = \sqrt{1-p+p^2}$$

ここで、方べきの定理より、 $AD \cdot DP = BD \cdot DC$

$$DP = \frac{BD \cdot DC}{AD} = \frac{p(1-p)}{\sqrt{1-p+p^2}}$$

$$\begin{aligned} \text{すると、} AD : AP &= \sqrt{1-p+p^2} : \left(\sqrt{1-p+p^2} + \frac{p(1-p)}{\sqrt{1-p+p^2}} \right) \\ &= (1-p+p^2) : (1-p+p^2+p-p^2) \\ &= (1-p+p^2) : 1 \end{aligned}$$

$$\overrightarrow{AP} = \frac{1}{1-p+p^2} \overrightarrow{AD} = \frac{1-p}{1-p+p^2} \overrightarrow{AB} + \frac{p}{1-p+p^2} \overrightarrow{AC}$$



[解説]

方べきの定理が活躍する構図の設問です。

5

[2000 神戸大・文]

(1) $\overrightarrow{CP} = s\vec{a} + t(\vec{a} + \vec{b}) \cdots \cdots$ (a)に対し, $\overrightarrow{CD} = \vec{a} + \vec{b}$ とおくと,

$$\overrightarrow{CP} = s\overrightarrow{CA} + t\overrightarrow{CD} \quad (0 \leq s+t \leq 1, s \geq 0, t \geq 0)$$

よって, 点 P は $\triangle ADC$ の内部または周上に存在する。

次に, $\overrightarrow{CP} = (2s+t)\vec{a} + (s-t)\vec{b} \cdots \cdots$ (b)に対して,

$$\overrightarrow{CP} = s(2\vec{a} + \vec{b}) + t(\vec{a} - \vec{b})$$

$\overrightarrow{CE} = 2\vec{a} + \vec{b}$, $\overrightarrow{CF} = \vec{a} - \vec{b}$ とおくと,

$$\overrightarrow{CP} = s\overrightarrow{CE} + t\overrightarrow{CF} \quad (0 \leq s+t \leq 1, s \geq 0, t \geq 0)$$

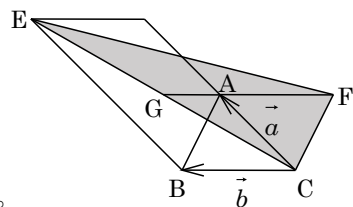
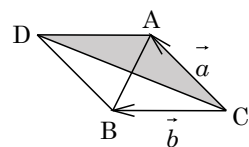
よって, 点 P は $\triangle CEF$ の内部または周上に存在する。

(2) (a)の場合は, $\triangle ADC = \triangle ABC$ より, 点 P の存在する範囲の面積は $\triangle ABC$ の 1 倍となる。

(b)の場合は, $GF = \frac{3}{2}AF = \frac{3}{2}BC$, $EB = 2AC$ より,

$$\triangle EFC = \left(\frac{3}{2} \times 2\right) \triangle ACF = 3\triangle ABC$$

よって, 点 P の存在する範囲の面積は $\triangle ABC$ の 3 倍となる。



[解説]

一般的に難しめの問題が多いベクトルと領域の融合題ですが, 本問は基本の確認が主となっています。

6

[2001 東北大・文]

(1) 線分 LP の中点を S とすると、

$$\overrightarrow{OS} = \frac{1}{2}(\overrightarrow{OL} + \overrightarrow{OP}) = \frac{1}{4}(\vec{a} + \vec{b} + \vec{c})$$

これから、 $\overrightarrow{OS} = \frac{1}{2}(\overrightarrow{OM} + \overrightarrow{OQ})$ と表せ、点 S は線分

MQ の中点に一致する。

また、 $\overrightarrow{OS} = \frac{1}{2}(\overrightarrow{ON} + \overrightarrow{OR})$ と表せるので、S は線

分 NR の中点にも一致する。

よって、線分 LP, MQ, NR は 1 点で交わる。

(2) 条件より、 $\vec{p} = \overrightarrow{LP} = \overrightarrow{OP} - \overrightarrow{OL} = \frac{1}{2}(-\vec{a} + \vec{b} + \vec{c}) \cdots \cdots \textcircled{1}$

$$\vec{q} = \overrightarrow{MQ} = \overrightarrow{OQ} - \overrightarrow{OM} = \frac{1}{2}(\vec{a} - \vec{b} + \vec{c}) \cdots \cdots \textcircled{2}$$

$$\vec{r} = \overrightarrow{NR} = \overrightarrow{OR} - \overrightarrow{ON} = \frac{1}{2}(\vec{a} + \vec{b} - \vec{c}) \cdots \cdots \textcircled{3}$$

②③より $\vec{a} = \vec{q} + \vec{r}$ 、①③より $\vec{b} = \vec{p} + \vec{r}$ 、①②より $\vec{c} = \vec{p} + \vec{q}$

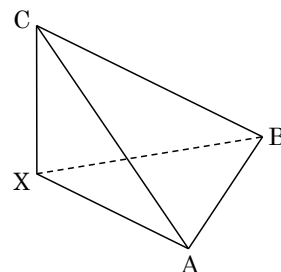
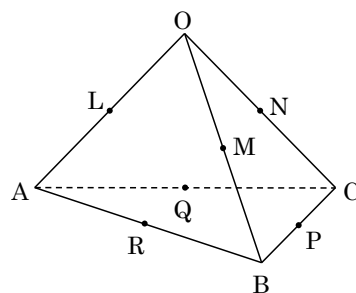
(3) 条件より、 $\overrightarrow{XA} = -\overrightarrow{AX} = -\overrightarrow{LP} = -\vec{p}$

$$\overrightarrow{XB} = \overrightarrow{AB} - \overrightarrow{AX} = \vec{b} - \vec{a} - \vec{p} = \vec{p} + \vec{r} - \vec{q} - \vec{r} - \vec{p} = -\vec{q}$$

$$\overrightarrow{XC} = \overrightarrow{AC} - \overrightarrow{AX} = \vec{c} - \vec{a} - \vec{p} = \vec{p} + \vec{q} - \vec{q} - \vec{r} - \vec{p} = -\vec{r}$$

\vec{p} , \vec{q} , \vec{r} が互いに直交することより、四面体 XABC の体積は、

$$\frac{1}{3} \left(\frac{1}{2} |\vec{p} \parallel \vec{q}| \right) |\vec{r}| = \frac{1}{6} |\vec{p} \parallel \vec{q} \parallel \vec{r}|$$



[解説]

(3)で与えられた条件によって、四面体 OABC の 4 つの面は合同になります。このとき、この四面体は直方体に埋め込まれるということが元になっています。ずいぶん前になりますが、1993年に東大・理で、この考え方を利用する問題が出ています。